


**Modelo V**



# Razonamiento Matemático

Preguntas modelo  
examen de acceso a la educación superior



**ACCESO** a la Educación Superior  
SENESCYT

**QUIERO SER MAESTRO**  
Ministerio de Educación

**Razonamiento Numérico**

**Opción Múltiple**

Elige la opción que complete mejor el enunciado o que responda mejor a la pregunta.

1. 

Señalar el número que sigue en cada serie de entre las soluciones propuestas.

27 - 28 - 29 - 25 - 24 - 30 - 31 - 32 - 23 - 22 -

- A. 23
- B. 21
- C. 33
- D. 32

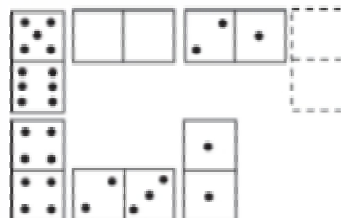
2. 

Señalar, de entre las propuestas, qué figura falta en cada una de las series.



3. 

Elegir, de entre las opciones propuestas, la que completa la serie:



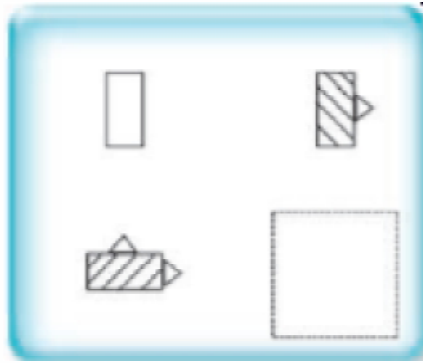
- A. 3/4
- B. 3/3

- C. 2/2
- D. 1/3

4.

[www.riollearning.com](http://www.riollearning.com)

Señalar, de entre las propuestas, qué figura falta en cada una de las series.



A.



C.



B.



D.



5.

[www.riollearning.com](http://www.riollearning.com)


Señalar el número que sigue en cada serie de entre las soluciones propuestas.

**3 - 5 - 4 - 6 - 5 - 7 -**

- A. 6
- B. 5
- C. 9
- D. 8


6. [www.riolearning.com](http://www.riolearning.com)

Señalar, de entre las propuestas, qué figura completa cada una de las series.



7. [www.riolearning.com](http://www.riolearning.com)

En este prueba se trata de completar las series con las figuras de domino, eligiendo de las cuatro opciones que se les da ¿cuál es la correcta?



- A. Blanca-1
- B. 1-blanca
- C. 6-1
- D. 1-1

8. [www.riolearning.com](http://www.riolearning.com)

Señalar el número que sigue en cada serie de entre las soluciones propuestas.

**17 - 19 - 22 - 24 - 27 -**

- A. 28
- B. 29
- C. 30
- D. 32

9. Señalar, de entre las propuestas, la letra que sigue en cada serie. (En este test no cuentan las letras CH, LL, W).

**d - g - j - e - h - k - f -**

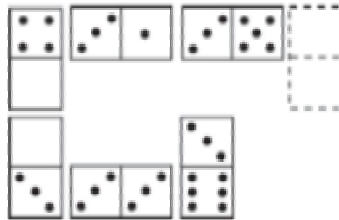
- A. i
- B. j
- C. c
- D. g

10. Señalar, de entre las propuestas, qué figura completa cada una de las series.



- A. 
- B. 
- C. 
- D. 

11. Elegir, de entre las opciones propuestas, la que completa la serie:



- A. 3/3
- B. 3/5
- C. 3/2
- D. 4/2

12. Señalar el número que sigue en cada serie de entre las soluciones propuestas.

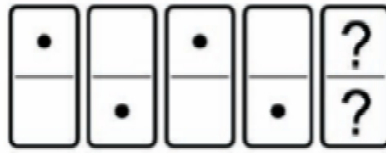
**12 - 13 - 16 - 17 - 20 - 21 -**

- A. 24
- B. 22
- C. 27
- D. 25

13.

[www.riolearning.com](http://www.riolearning.com)

En este prueba se trata de completar las series con las figuras de domino, eligiendo de las cuatro opciones que se les da ¿cuál es la correcta?



- A. 1-blanca
- B. Blanca-1
- C. 1-1
- D. Blanca-blanca

14.

[www.riolearning.com](http://www.riolearning.com)

Señalar, de entre las propuestas, la letra que sigue en cada serie. (En este test no cuentan las letras CH, LL, W).

**b - d - h - n - u -**

- A. y
- B. f
- C. z
- D. c

15.

[www.riolearning.com](http://www.riolearning.com)

Señalar, de entre las propuestas, qué figura completa cada una de las series.

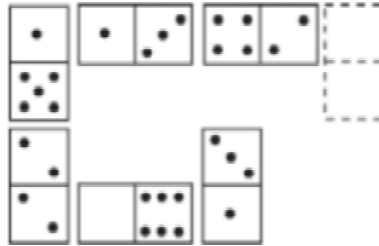


- A. 
- B. 

- C. 
- D. 

16. [www.riolearning.com](http://www.riolearning.com)

Elegir, de entre las opciones propuestas, la que completa la serie:



- A. 1/4
- B. 6/3
- C. 0/4
- D. 6/2

17. [www.riolearning.com](http://www.riolearning.com)

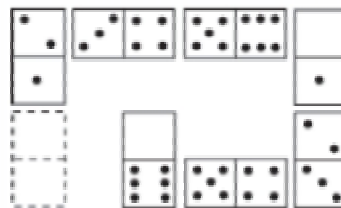
Señalar, de entre las propuestas, la letra que sigue en cada serie. (En este test no cuentan las letras CH, LL, W).

**m - m - m - n - n - ñ - o - o - o - p - p**

- A. q
- B. m
- C. p
- D. o

18. [www.riolearning.com](http://www.riolearning.com)

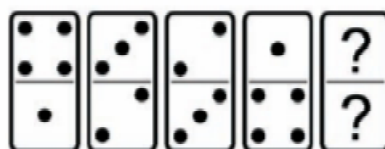
Elegir, de entre las opciones propuestas, la que completa la serie:



- A. 1/6
- B. 1/5
- C. 0/0
- D. 0/6

19. [www.riolearning.com](http://www.riolearning.com)

En este prueba se trata de completar las series con las figuras de domino, eligiendo de las cuatro opciones que se les da ¿cuál es la correcta?




- A. Blanca-1
- B. Blanca-5
- C. 6-5
- D. 5-5

20. [www.riolearning.com](http://www.riolearning.com)  
 Señalar, de entre las propuestas, la letra que sigue en cada serie. (En este test no cuentan las letras CH, LL, W).

**m - n - o - p - q - s - t - u - v -**


- A. y
- B. x
- C. m
- D. z

21. [www.riolearning.com](http://www.riolearning.com)  
 Continúa la serie



- A. 6 de tréboles
- B. Ninguna es correcta
- C. 6 de corazones
- D. 6 de diamantes

22. [www.riolearning.com](http://www.riolearning.com)  
 Elija la que continua la serie.

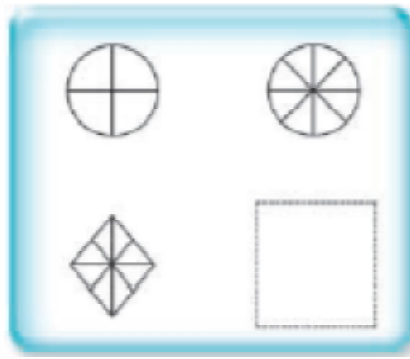


- A. El 3 de corazones
- B. Ninguna de las anteriores es la correct
- C. El 4 de tréboles
- D. El 4 de picas

23.

[www.riolearning.com](http://www.riolearning.com)

Señalar, de entre las propuestas, qué figura falta en cada una de las series.



A.



C.



B.



D.



24.

[www.riolearning.com](http://www.riolearning.com)

Señalar el número que sigue en cada serie de entre las soluciones propuestas.


**6 - 7 - 6 - 8 - 7 - 7 - 7 - 8 - 8 - 7 -**

- A. 6
- B. 7
- C. 9
- D. 8

25.

[www.riolearning.com](http://www.riolearning.com)

Continúa la serie




- A. La Q de picas
- B. La Q de corazones
- C. La J de picas
- D. La J de tréboles

26. [www.riolearning.com](http://www.riolearning.com)  
 Señalar, de entre las propuestas, la letra que sigue en cada serie. (En este test no cuentan las letras CH, LL, W).

**c - c - c - d - e - c - c - f - g - h - c - c - c -**

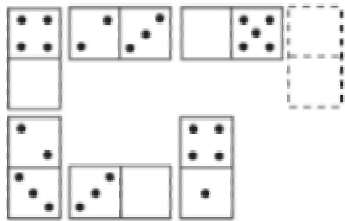
- A. j
- B. i
- C. h
- D. c

27. [www.riolearning.com](http://www.riolearning.com)  
 En este prueba se trata de completar las series con las figuras de domino, eligiendo de las cuatro opciones que se les da ¿cuál es la correcta?



- A. 5-5
- B. Blanca-blanca
- C. 1-1
- D. 4-4

28. [www.riolearning.com](http://www.riolearning.com)  
 Elegir, de entre las opciones propuestas, la que completa la serie:





- A. 2/3
- B. 1/4
- C. 1/5
- D. 3/5

29.

[www.riolearning.com](http://www.riolearning.com)

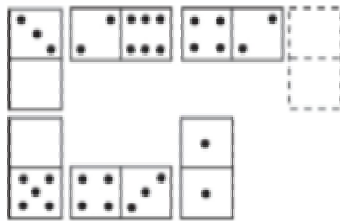
Señalar, de entre las propuestas, qué figura falta en cada una de las series.



30.

[www.riolearning.com](http://www.riolearning.com)

Elegir, de entre las opciones propuestas, la que completa la serie:





- A. 0/5  
B. 5/4

- C. 1/3  
D. 6/5

31.

[www.riolearning.com](http://www.riolearning.com)

Señalar, de entre las propuestas, qué figura completa cada una de las series.



32.

[www.riolearning.com](http://www.riolearning.com)


Señalar, de entre las propuestas, qué figura completa cada una de las series.



33.

[www.riolearning.com](http://www.riolearning.com)

¿Qué carta pondría en el hueco en blanco?




- A. El 5 de corazones
- B. El 4 de corazones
- C. El 6 de corazones
- D. Ninguna es correcta.

34.

[www.riolearning.com](http://www.riolearning.com)

¿Qué carta pondría en el hueco en blanco?




- A. El 6 de corazones
- B. El 5 de corazones
- C. La J de corazones
- D. El K de corazones

35.

[www.riolearning.com](http://www.riolearning.com)

Señalar, de entre las propuestas, qué figura completa cada una de las series.



A.



C.



B.



D.



36.

[www.riolearning.com](http://www.riolearning.com)

Señalar, de entre las propuestas, la letra que sigue en cada serie. (En este test no cuentan las letras CH, LL, W).

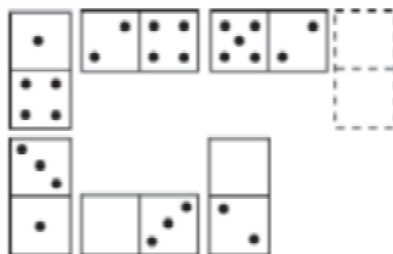
**b - f - y - c - u - z -**

- A. u
- B. r
- C. g
- D. d

37.

[www.riolearning.com](http://www.riolearning.com)

Elegir, de entre las opciones propuestas, la que completa la serie:

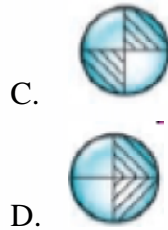
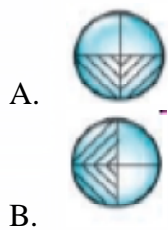



- A.  $\frac{2}{0}$
- B.  $\frac{3}{6}$

- C.  $\frac{4}{3}$
- D.  $\frac{3}{5}$

38. [www.riolearning.com](http://www.riolearning.com)

Señalar, de entre las propuestas, qué figura falta en cada una de las series.



39. [www.riolearning.com](http://www.riolearning.com)

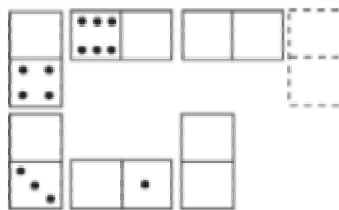
Señalar, de entre las propuestas, la letra que sigue en cada serie. (En este test no cuentan las letras CH, LL, W).

**l - k - i - h - g - e - d - c - b -**

- A. e
- B. z
- C. y
- D. a

40. [www.riolearning.com](http://www.riolearning.com)

Elegir, de entre las opciones propuestas, la que completa la serie:

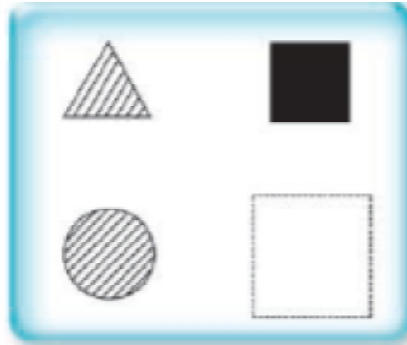


- A. 0/0
- B. 1/1
- C. 1/0
- D. 2/0

41.

[www.riolearning.com](http://www.riolearning.com)

Señalar, de entre las propuestas, qué figura falta en cada una de las series.



A.



C.



B.



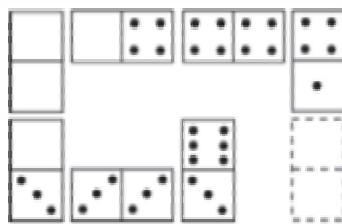
D.



42.

[www.riolearning.com](http://www.riolearning.com)

Elegir, de entre las opciones propuestas, la que completa la serie:



A. 4/4

C. 1/5

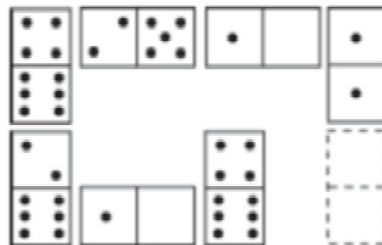
B. 1/4

D. 1/1

43.

[www.riolearning.com](http://www.riolearning.com)

Elegir, de entre las opciones propuestas, la que completa la serie:



A. 4/2

C. 4/3

B. 6/3

D. 5/1

44. Señalar, de entre las propuestas, la letra que sigue en cada serie. (En este test no cuentan las letras CH, LL, W).

**r - g - p - e - ñ - c -**


- A. m
- B. a
- C. n
- D. k

45. Señalar, de entre las propuestas, la letra que sigue en cada serie. (En este test no cuentan las letras CH, LL, W).

**d - g - k - o -**

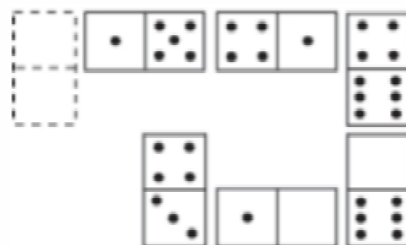
- A. u
- B. t
- C. p
- D. s

46. En este prueba se trata de completar las series con las figuras de domino, eligiendo de las cuatro opciones que se les da ¿cuál es la correcta?



- A. 6-5
- B. Blanca-5
- C. 5-5
- D. 2-5

47. Elegir, de entre las opciones propuestas, la que completa la serie:


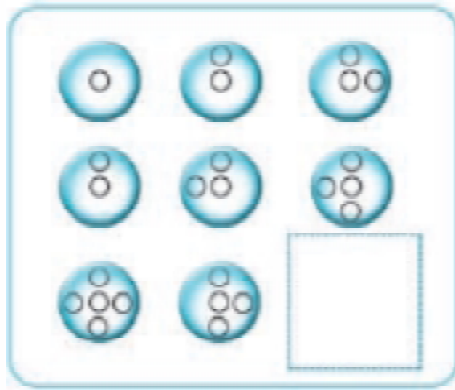


- A. 5/1
- B. 2/0
- C. 3/2
- D. 1/1

48.

[www.riolearning.com](http://www.riolearning.com)

Señalar, de entre las propuestas, qué figura completa cada una de las series.



49.

[www.riolearning.com](http://www.riolearning.com)

Señalar el número que sigue en cada serie de entre las soluciones propuestas.


**52 - 53 - 55 - 58 - 62 -**

- A. 65
- B. 68
- C. 67
- D. 66

50.

[www.riolearning.com](http://www.riolearning.com)

Elija la que continua la serie.




- A. 3 diamantes
- B. 10 de picas
- C. 11 de corazones
- D. 12 de picas

51.

[www.riolearning.com](http://www.riolearning.com)

¿Qué carta continua la serie?



- A. La J de diamantes
- B. La J de tréboles
- C. La J de picas
- D. Ninguna de las anteriores es correcta

52.

[www.riolearning.com](http://www.riolearning.com)

Elija la que continua la serie.

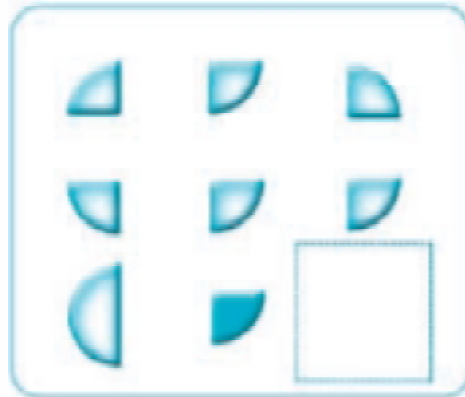


- A. 10 de corazones
- B. 11 de tréboles
- C. 10 de picas
- D. 10 de diamantes

53.

[www.riolearning.com](http://www.riolearning.com)

Señalar, de entre las propuestas, qué figura completa cada una de las series.



A.



C.



B.



D.



54.

[www.riolearning.com](http://www.riolearning.com)

Señalar el número que sigue en cada serie de entre las soluciones propuestas.

20 - 22 - 25 - 28 - 30 - 33 - 36 - 38 -

- A. 39
- B. 42
- C. 41
- D. 40

55.

[www.riolearning.com](http://www.riolearning.com)

Señalar, de entre las propuestas, la letra que sigue en cada serie. (En este test no cuentan las letras CH, LL, W).

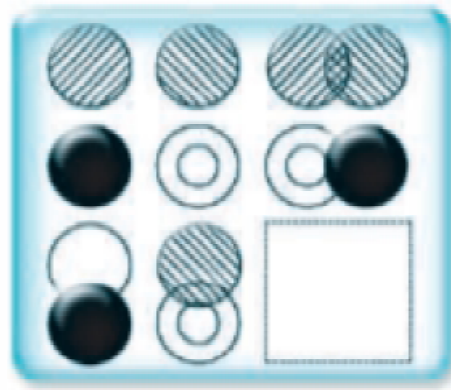
ñ - f - n - e - m - d - l - c -

- A. k
- B. a
- C. b
- D. j

56.

[www.riolearning.com](http://www.riolearning.com)

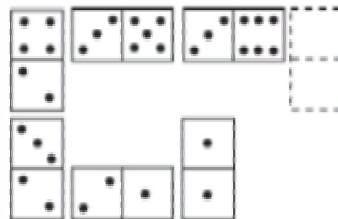
Señalar, de entre las propuestas, qué figura completa cada una de las series.



57.

[www.riolearning.com](http://www.riolearning.com)

Elegir, de entre las opciones propuestas, la que completa la serie:



A. 5/6

C. 4/0

B. 3/1

D. 3/0

58.

[www.riolearning.com](http://www.riolearning.com)

Señalar, de entre las propuestas, la letra que sigue en cada serie. (En este test no cuentan las letras CH, LL, W).

**k - o - s - v -**

A. t

B. y


C. u

D. x

59.

[www.riolearning.com](http://www.riolearning.com)

En este prueba se trata de completar las series con las figuras de domino, eligiendo de las cuatro opciones que se les da ¿cuál es la correcta?



- A. Blanca-1
- B. 2-1
- C. 1-blanca
- D. 1-2

60.

[www.riolearning.com](http://www.riolearning.com)

Señalar el número que sigue en cada serie de entre las soluciones propuestas.


**9 - 8 - 10 - 7 - 6 - 8 - 5 - 4 -**

- A. 1
- B. 6
- C. 7
- D. 8

61.

[www.riolearning.com](http://www.riolearning.com)

Señalar, de entre las propuestas, qué figura falta en cada una de las series.

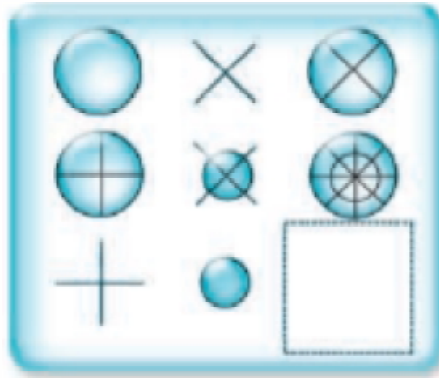


- A. 
- B. 
- C. 
- D. 

62.

[www.riolearning.com](http://www.riolearning.com)

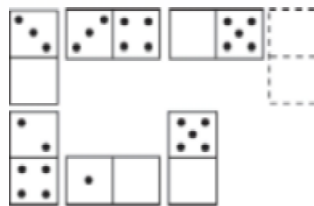
Señalar, de entre las propuestas, qué figura completa cada una de las series.



63.

[www.riolearning.com](http://www.riolearning.com)

Elegir, de entre las opciones propuestas, la que completa la serie:



A.  $\frac{1}{6}$

C.  $\frac{3}{0}$


B.  $\frac{3}{5}$

D.  $\frac{2}{6}$

64.

[www.riolearning.com](http://www.riolearning.com)

En este prueba se trata de completar las series con las figuras de domino, eligiendo de las cuatro opciones que se les da ¿cuál es la correcta?



A. 2-4

B. 2-3

C. 3-3

D. Ninguna es correcta

65. [www.riolearning.com](http://www.riolearning.com)  
 Señalar, de entre las propuestas, la letra que sigue en cada serie. (En este test no cuentan las letras CH, LL, W).

**l - u - n - t - o - r - q - o -**


- A. t
- B. n
- C. r
- D. s

66. [www.riolearning.com](http://www.riolearning.com)  
 Señalar el número que sigue en cada serie de entre las soluciones propuestas.

**6 - 8 - 7 - 10 - 8 - 12 -**


- A. 15
- B. 8
- C. 9
- D. 14

67. [www.riolearning.com](http://www.riolearning.com)  
 ¿Qué 2 cartas faltan?



- A. Delante el 10 de picas y detrás la K de corazones
- B. Ninguna es correcta
- C. Delante la K de diamantes y detrás el 10 de diamantes
- D. Delante el 10 de corazones y detrás la K de tréboles

68. [www.riolearning.com](http://www.riolearning.com)  
 ¿Qué carta continua la serie?




- A. El 2 de corazones
- B. El 2 de diamantes
- C. El 3 de diamantes
- D. El 3 de corazones

69.

[www.riolearning.com](http://www.riolearning.com)

¿Qué carta continua la serie?

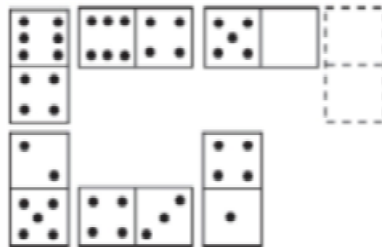


- A. 9 de corazones
- B. As de tréboles
- C. As de picas
- D. 9 de diamantes

70.

[www.riolearning.com](http://www.riolearning.com)

Elegir, de entre las opciones propuestas, la que completa la serie:

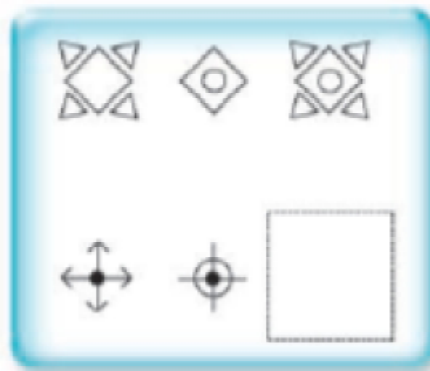


- A. 2/6
- B. 0/5
- C. 1/4
- D. 6/5

71.

[www.riolearning.com](http://www.riolearning.com)

Señalar, de entre las propuestas, qué figura falta en cada una de las series.

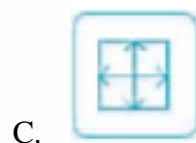
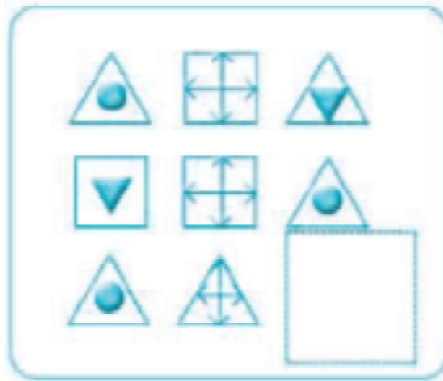


- A. 
- B. 
- C. 
- D. 

72.

[www.riolearning.com](http://www.riolearning.com)

Señalar, de entre las propuestas, qué figura completa cada una de las series.



73.

[www.riolearning.com](http://www.riolearning.com)

Señalar el número que sigue en cada serie de entre las soluciones propuestas.


**8 - 11 - 9 - 12 - 10 - 13 -**

- A. 11
- B. 15
- C. 16
- D. 8

74.

[www.riolearning.com](http://www.riolearning.com)

En este prueba se trata de completar las series con las figuras de domino, eligiendo de las cuatro opciones que se les da ¿cuál es la correcta?

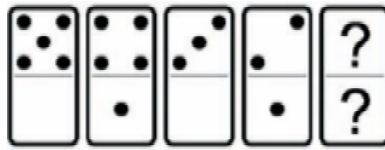


- A. 4-3
- B. 2-4
- C. 1-4
- D. 3-4

75.

[www.riolearning.com](http://www.riolearning.com)

En este prueba se trata de completar las series con las figuras de domino, eligiendo de las cuatro opciones que se les da ¿cuál es la correcta?




- A. 1-blanca
- B. 2-blanca
- C. Blanca-1
- D. 1-1

76.

[www.riolearning.com](http://www.riolearning.com)

En este prueba se trata de completar las series con las figuras de domino, eligiendo de las cuatro opciones que se les da ¿cuál es la correcta?

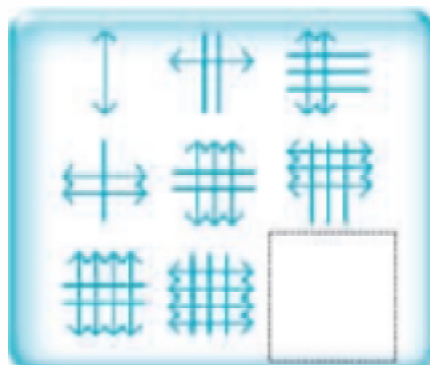




- A. Blanca-4
- B. 4-6
- C. 6-4
- D. 4-blanca



77.

[www.riolearning.com](http://www.riolearning.com)

Señalar, de entre las propuestas, qué figura completa cada una de las series.



- A. 
- B. 

- C. 
- D. 

78. [www.riolearning.com](http://www.riolearning.com)

Señalar el número que sigue en cada serie de entre las soluciones propuestas.

7 - 9 - 5 - 6 - 8 - 4 - 5 - 7 -

- A. 3
- B. 6
- C. 4
- D. 9

79. [www.riolearning.com](http://www.riolearning.com)

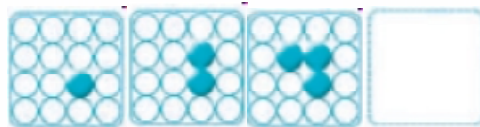
Señalar el número que sigue en cada serie de entre las soluciones propuestas.

14 - 15 - 16 - 15 - 16 - 17 - 16 - 17 - 18 -

- A. 17
- B. 14
- C. 19
- D. 15

80. [www.riolearning.com](http://www.riolearning.com)

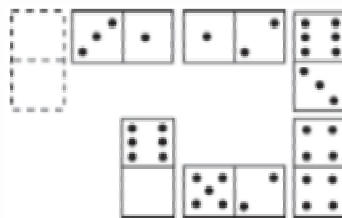
Señalar, de entre las propuestas, qué figura completa cada una de las series.



- A. 
- B. 
- C. 
- D. 

81. [www.riolearning.com](http://www.riolearning.com)

Elegir, de entre las opciones propuestas, la que completa la serie:



- A. 0/4
- B. 1/6
- C. 0/5
- D. 2/5

82. [www.riollearning.com](http://www.riollearning.com)

Señalar el número que sigue en cada serie de entre las soluciones propuestas.


59 - 57 - 54 - 50 - 45 -

- A. 41
- B. 40
- C. 39
- D. 44

83. [www.riollearning.com](http://www.riollearning.com)

**NAIPES**



Elija la que continua la serie.



- A. 7 de diamantes
- B. 7 de corazones
- C. 6 de picas
- D. 6 de corazones

84. [www.riollearning.com](http://www.riollearning.com)

Señalar, de entre las propuestas, qué figura completa cada una de las series.





85. [www.riolearning.com](http://www.riolearning.com)  
 Señalar, de entre las propuestas, la letra que sigue en cada serie. (En este test no cuentan las letras CH, LL, W).



**i - b - k - z - m - x**

- A. ñ
- B. n
- C. u
- D. v

86. [www.riolearning.com](http://www.riolearning.com)  
 Señalar, de entre las propuestas, qué figura completa cada una de las series.



- A. 
- B. 

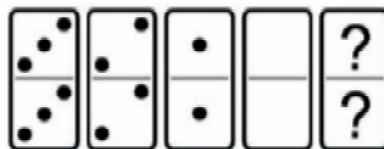
- C. 
- D. 

87. [www.riolearning.com](http://www.riolearning.com)  
 Señalar, de entre las propuestas, la letra que sigue en cada serie. (En este test no cuentan las letras CH, LL, W).

**b - z - u - o - h -**

- A. z
- B. y
- C. v
- D. x

88. [www.riolearning.com](http://www.riolearning.com)  
 En este prueba se trata de completar las series con las figuras de domino, eligiendo de las cuatro opciones que se les da ¿cuál es la correcta?



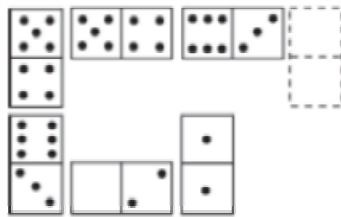
- A. Ninguna es correcta
- B. 5-4
- C. 5-5
- D. 4-5

89. [www.riolearning.com](http://www.riolearning.com)  
 Señalar, de entre las propuestas, la letra que sigue en cada serie. (En este test no cuentan las letras CH, LL, W).

**d - h - f - i - h - l - j - m - l -**

- A. k
- B. o
- C. j
- D. ñ

90. [www.riolearning.com](http://www.riolearning.com)  
 Elegir, de entre las opciones propuestas, la que completa la serie:



- A. 0/2
- B. 0/3
- C. 5/4
- D. 1/2

91. [www.riolearning.com](http://www.riolearning.com)  
 Señalar, de entre las propuestas, la letra que sigue en cada serie. (En este test no cuentan las letras CH, LL, W).

**m - m - ñ - p - p - r - t -**

- A. t
- B. v
- C. u
- D. s

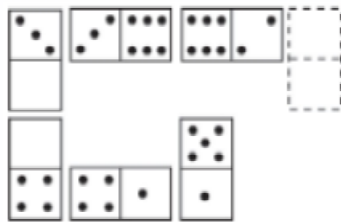
92. [www.riolearning.com](http://www.riolearning.com)  
 Señalar el número que sigue en cada serie de entre las soluciones propuestas.

**86 - 89 - 91 - 94 - 96 -**

- A. 100
- B. 99
- C. 97
- D. 87

93. [www.riolearning.com](http://www.riolearning.com)

Elegir, de entre las opciones propuestas, la que completa la serie:



- A. 2/5
- B. 3/4
- C. 2/5
- D. 1/4

94. [www.riolearning.com](http://www.riolearning.com)

Señalar el número que sigue en cada serie de entre las soluciones propuestas.

17 - 21 - 27 - 35 - 45 -

- A. 50
- B. 53
- C. 57
- D. 49

95. [www.riolearning.com](http://www.riolearning.com)


Señalar, de entre las propuestas, la letra que sigue en cada serie. (En este test no cuentan las letras CH, LL, W).

v - u - t - r - q - p - n - m - l -

- A. k
- B. c
- C. h
- D. i

96. [www.riolearning.com](http://www.riolearning.com)

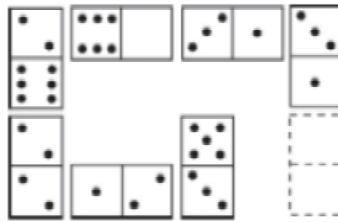
En este prueba se trata de completar las series con las figuras de domino, eligiendo de las cuatro opciones que se les da ¿cuál es la correcta?



- A. 2-4
- B. 4-4
- C. 3-3
- D. Blanca-blanca

97. [www.riolearning.com](http://www.riolearning.com)

Elegir, de entre las opciones propuestas, la que completa la serie:



- A. 1/3
- B. 0/6
- C. 3/6
- D. 2/0

98. [www.riolearning.com](http://www.riolearning.com)


Señalar el número que sigue en cada serie de entre las soluciones propuestas.






15 - 14 - 17 - 12 - 11 - 14 -

- A. 9
- B. 15
- C. 17
- D. 11

99. [www.riolearning.com](http://www.riolearning.com)

Señalar, de entre las propuestas, qué figura falta en cada una de las series.




- A. 
- B. 
- C. 
- D. 
- E. 

100.

[www.riolearning.com](http://www.riolearning.com)

Señalar, de entre las propuestas, qué figura completa cada una de las series.



**Razonamiento Numérico**  
**Answer Section****MULTIPLE CHOICE**

- |            |        |
|------------|--------|
| 1. ANS: C  | PTS: 1 |
| 2. ANS: C  | PTS: 1 |
| 3. ANS: B  | PTS: 1 |
| 4. ANS: B  | PTS: 1 |
| 5. ANS: A  | PTS: 1 |
| 6. ANS: C  | PTS: 1 |
| 7. ANS: C  | PTS: 1 |
| 8. ANS: B  | PTS: 1 |
| 9. ANS: A  | PTS: 1 |
| 10. ANS: D | PTS: 1 |
| 11. ANS: C | PTS: 1 |
| 12. ANS: A | PTS: 1 |
| 13. ANS: A | PTS: 1 |
| 14. ANS: B | PTS: 1 |
| 15. ANS: A | PTS: 1 |
| 16. ANS: C | PTS: 1 |
| 17. ANS: A | PTS: 1 |
| 18. ANS: D | PTS: 1 |
| 19. ANS: B | PTS: 1 |
| 20. ANS: A | PTS: 1 |
| 21. ANS: A | PTS: 1 |
| 22. ANS: B | PTS: 1 |
| 23. ANS: B | PTS: 1 |
| 24. ANS: D | PTS: 1 |
| 25. ANS: A | PTS: 1 |
| 26. ANS: B | PTS: 1 |
| 27. ANS: D | PTS: 1 |
| 28. ANS: B | PTS: 1 |
| 29. ANS: A | PTS: 1 |
| 30. ANS: D | PTS: 1 |
| 31. ANS: C | PTS: 1 |
| 32. ANS: D | PTS: 1 |
| 33. ANS: A | PTS: 1 |
| 34. ANS: A | PTS: 1 |
| 35. ANS: D | PTS: 1 |
| 36. ANS: B | PTS: 1 |
| 37. ANS: D | PTS: 1 |
| 38. ANS: A | PTS: 1 |
| 39. ANS: B | PTS: 1 |
| 40. ANS: D | PTS: 1 |

41.	ANS: B	PTS: 1
42.	ANS: D	PTS: 1
43.	ANS: C	PTS: 1
44.	ANS: A	PTS: 1
45.	ANS: A	PTS: 1
46.	ANS: D	PTS: 1
47.	ANS: A	PTS: 1
48.	ANS: B	PTS: 1
49.	ANS: C	PTS: 1
50.	ANS: A	PTS: 1
51.	ANS: B	PTS: 1
52.	ANS: D	PTS: 1
53.	ANS: C	PTS: 1
54.	ANS: C	PTS: 1
55.	ANS: A	PTS: 1
56.	ANS: C	PTS: 1
57.	ANS: C	PTS: 1
58.	ANS: B	PTS: 1
59.	ANS: D	PTS: 1
60.	ANS: B	PTS: 1
61.	ANS: C	PTS: 1
62.	ANS: D	PTS: 1
63.	ANS: D	PTS: 1
64.	ANS: C	PTS: 1
65.	ANS: D	PTS: 1
66.	ANS: C	PTS: 1
67.	ANS: B	PTS: 1
68.	ANS: B	PTS: 1
69.	ANS: C	PTS: 1
70.	ANS: B	PTS: 1
71.	ANS: D	PTS: 1
72.	ANS: B	PTS: 1
73.	ANS: A	PTS: 1
74.	ANS: C	PTS: 1
75.	ANS: A	PTS: 1
76.	ANS: B	PTS: 1
77.	ANS: D	PTS: 1
78.	ANS: A	PTS: 1
79.	ANS: A	PTS: 1
80.	ANS: D	PTS: 1
81.	ANS: C	PTS: 1
82.	ANS: C	PTS: 1
83.	ANS: A	PTS: 1
84.	ANS: B	PTS: 1
85.	ANS: A	PTS: 1

86.	ANS: C	PTS: 1
87.	ANS: D	PTS: 1
88.	ANS: A	PTS: 1
89.	ANS: B	PTS: 1
90.	ANS: A	PTS: 1
91.	ANS: A	PTS: 1
92.	ANS: B	PTS: 1
93.	ANS: A	PTS: 1
94.	ANS: C	PTS: 1
95.	ANS: C	PTS: 1
96.	ANS: B	PTS: 1
97.	ANS: B	PTS: 1
98.	ANS: A	PTS: 1
99.	ANS: E	PTS: 1
100.	ANS: B	PTS: 1

# Anexo

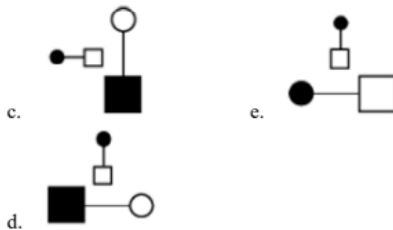
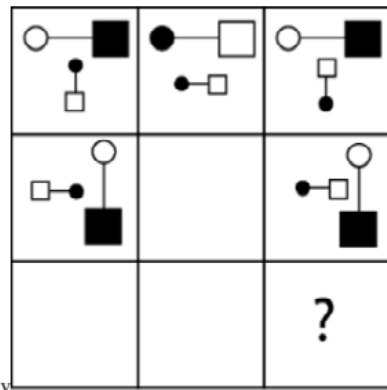
TAE20\_001\_001 ID:A

## Modelo de Examen de Acceso a la Educación Superior

TAE20\_001\_001 ID: A

[www.riolearning.com](http://www.riolearning.com)

¿qué falta?



En la parte superior derecha del documento se muestra un código que indica el tipo de examen, número de preguntas y el ID del TEST (se cuenta con cuatro A, B, C, D)

Esta información te permitirá buscar el solucionario.

El solucionario lo puedes encontrar en nuestras redes sociales o en la página [www.multimevi.com](http://www.multimevi.com) en la sección DESCARGAS

Aula virtual

[www.riolearning.com](http://www.riolearning.com)



Ejercicios Acceso a la Educación Superior tiene licencia [CC BY-NC 4.0](https://creativecommons.org/licenses/by-nc/4.0/) © 2 por [EdFr@MeVi](mailto:EdFr@MeVi)





Forma

Test Version

--	--	--	--	--	--	--	--	--	--	--

Nombre: \_\_\_\_\_

Asignatura: \_\_\_\_\_

Fecha: \_\_\_\_\_

A

B

C

D

0  0  0  0  0  0  0  0  0

1  1  1  1  1  1  1  1  1

2  2  2  2  2  2  2  2  2

3  3  3  3  3  3  3  3  3

4  4  4  4  4  4  4  4  4

5  5  5  5  5  5  5  5  5

6  6  6  6  6  6  6  6  6

7  7  7  7  7  7  7  7  7

8  8  8  8  8  8  8  8  8

9  9  9  9  9  9  9  9  9

Cédula - Código

Ejemplo

A  B  C  D  E

Calificación

--

- Utilice lápiz para marcar la respuesta.
- Marque un círculo completo
- Borre completamente el círculo para marcar una nueva respuesta

1 A  B  C  D  E

2 A  B  C  D  E

3 A  B  C  D  E

4 A  B  C  D  E

5 A  B  C  D  E

6 A  B  C  D  E

7 A  B  C  D  E

8 A  B  C  D  E

9 A  B  C  D  E

10 A  B  C  D  E

11 A  B  C  D  E

12 A  B  C  D  E

13 A  B  C  D  E

14 A  B  C  D  E

15 A  B  C  D  E

16 A  B  C  D  E

17 A  B  C  D  E

18 A  B  C  D  E

19 A  B  C  D  E

20 A  B  C  D  E

21 A  B  C  D  E

22 A  B  C  D  E

23 A  B  C  D  E

24 A  B  C  D  E

25 A  B  C  D  E

26 A  B  C  D  E

27 A  B  C  D  E

28 A  B  C  D  E

29 A  B  C  D  E

30 A  B  C  D  E

31 A  B  C  D  E

32 A  B  C  D  E

33 A  B  C  D  E

34 A  B  C  D  E

35 A  B  C  D  E

36 A  B  C  D  E

37 A  B  C  D  E

38 A  B  C  D  E

39 A  B  C  D  E

40 A  B  C  D  E

41 A  B  C  D  E

42 A  B  C  D  E

43 A  B  C  D  E

44 A  B  C  D  E

45 A  B  C  D  E

46 A  B  C  D  E

47 A  B  C  D  E

48 A  B  C  D  E

49 A  B  C  D  E

50 A  B  C  D  E

51 A  B  C  D  E

52 A  B  C  D  E

53 A  B  C  D  E

54 A  B  C  D  E

55 A  B  C  D  E

56 A  B  C  D  E

57 A  B  C  D  E

58 A  B  C  D  E

59 A  B  C  D  E

60 A  B  C  D  E

61 A  B  C  D  E

62 A  B  C  D  E

63 A  B  C  D  E

64 A  B  C  D  E

65 A  B  C  D  E

66 A  B  C  D  E

67 A  B  C  D  E

68 A  B  C  D  E

69 A  B  C  D  E

70 A  B  C  D  E

71 A  B  C  D  E

72 A  B  C  D  E

73 A  B  C  D  E

74 A  B  C  D  E

75 A  B  C  D  E

76 A  B  C  D  E

77 A  B  C  D  E

78 A  B  C  D  E

79 A  B  C  D  E

80 A  B  C  D  E

81 A  B  C  D  E

82 A  B  C  D  E

83 A  B  C  D  E

84 A  B  C  D  E

85 A  B  C  D  E

86 A  B  C  D  E

87 A  B  C  D  E

88 A  B  C  D  E

89 A  B  C  D  E

90 A  B  C  D  E

91 A  B  C  D  E

92 A  B  C  D  E

93 A  B  C  D  E

94 A  B  C  D  E

95 A  B  C  D  E

96 A  B  C  D  E

97 A  B  C  D  E

98 A  B  C  D  E

99 A  B  C  D  E

100 A  B  C  D  E



ENLACE	DETALLE	QR
<a href="http://www.multimevi.com/">http://www.multimevi.com/</a>	Página web MULTIMEVI, donde encontrarás noticias y recursos	
<a href="https://t.me/+Klr3YaM42_ZhZTIx">https://t.me/+Klr3YaM42_ZhZTIx</a>	Grupo de apoyo en TELEGRAM	
<a href="https://chat.whatsapp.com/IQuCCcZjtLjIkLfgzXo68Y">https://chat.whatsapp.com/IQuCCcZjtLjIkLfgzXo68Y</a>	<u>GRUPO DE WHATSAPP</u>	
<a href="https://whatsapp.com/channel/0029VaBB2zQHwXb5Vhn9Yw1W">https://whatsapp.com/channel/0029VaBB2zQHwXb5Vhn9Yw1W</a>	Canal de noticias WhatsApp	
<a href="https://www.facebook.com/multimevi.ec/">https://www.facebook.com/multimevi.ec/</a>	Perfil de facebook	
<a href="https://www.facebook.com/groups/multimevi">https://www.facebook.com/groups/multimevi</a>	Grupo FULL Rectivos	
<a href="https://www.tiktok.com/@multimevi">https://www.tiktok.com/@multimevi</a>	Canal de TIK TOK	
<a href="https://www.instagram.com/multimevi.ec/">https://www.instagram.com/multimevi.ec/</a>	Canal de Instagram	
<a href="https://twitter.com/multimevi">https://twitter.com/multimevi</a>	Red X	

# Modelo V

## Plataforma MOODLE

 [www.riolearning.com](http://www.riolearning.com)

## Página Web



[www.multimevi.com](http://www.multimevi.com)

## Redes Sociales



## Procesos



**ACCESO** a la Educación Superior  
SENESCYT

**QUIERO SER MAESTRO**  
Ministerio de Educación