


Modelo R



Razonamiento Matemático

Preguntas modelo
examen de acceso a la educación superior



ACCESO a la Educación Superior
SENESCYT

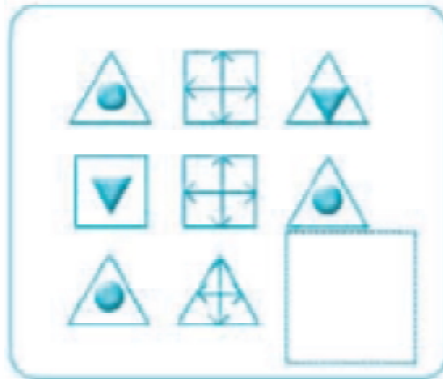
QUIERO SER MAESTRO
Ministerio de Educación

Razonamiento Numérico

Opción Múltiple

Elige la opción que complete mejor el enunciado o que responda mejor a la pregunta.

1. www.riolearning.com
 Señalar, de entre las propuestas, qué figura completa cada una de las series.



- A.  C. 
 B.  D. 

2. www.riolearning.com
 Señalar, de entre las propuestas, la letra que sigue en cada serie. (En este test no cuentan las letras CH, LL, W).

v - u - t - r - q - p - n - m - l -

- A. k
 B. h
 C. c
 D. i

3. www.riolearning.com
 Señalar, de entre las propuestas, la letra que sigue en cada serie. (En este test no cuentan las letras CH, LL, W).

l - u - n - t - o - r - q - o -

- A. n
 B. r
 C. s
 D. t

4. www.riolearning.com


Señalar, de entre las propuestas, la letra que sigue en cada serie. (En este test no cuentan las letras CH, LL, W).

c - c - c - d - e - c - c - f - g - h - c - c - c -

- A. j
- B. i
- C. c
- D. h

5. www.riolearning.com

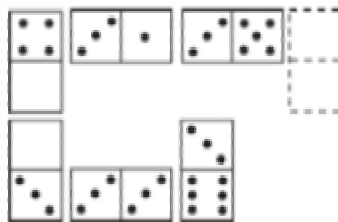
¿Qué carta pondría en el hueco en blanco?



- A. El 5 de corazones
- B. El 6 de corazones
- C. El K de corazones
- D. La J de corazones

6. www.riolearning.com

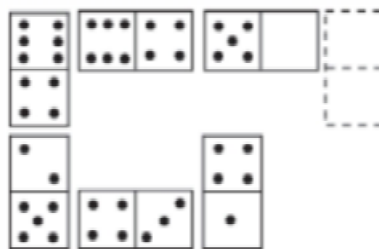
Elegir, de entre las opciones propuestas, la que completa la serie:



- A. 3/5
- B. 3/2
- C. 3/3
- D. 4/2

7. www.riolearning.com


Elegir, de entre las opciones propuestas, la que completa la serie:



- A. 2/6
- B. 1/4
- C. 0/5
- D. 6/5

8. www.riolearning.com

Señalar, de entre las propuestas, qué figura falta en cada una de las series.



9. www.riolearning.com

Señalar el número que sigue en cada serie de entre las soluciones propuestas.

86 - 89 - 91 - 94 - 96 -

- A. 100
- B. 97
- C. 99
- D. 87

10. www.riolearning.com


Señalar, de entre las propuestas, qué figura completa cada una de las series.



14.

www.riolearning.com

Señalar, de entre las propuestas, qué figura falta en cada una de las series.



A.



C.



B.



D.



15.

www.riolearning.com

Señalar el número que sigue en cada serie de entre las soluciones propuestas.

27 - 28 - 29 - 25 - 24 - 30 - 31 - 32 - 23 - 22 -

- A. 33
- B. 32
- C. 21
- D. 23

16.

www.riolearning.com

Señalar, de entre las propuestas, qué figura falta en cada una de las series.



A.



C.



E.



B.





D.



17. www.riolearning.com

Señalar, de entre las propuestas, qué figura falta en cada una de las series.



18. www.riolearning.com

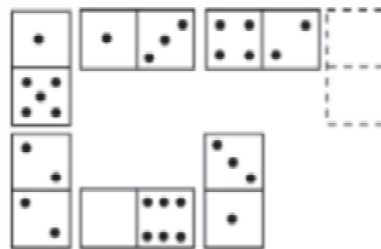
Señalar el número que sigue en cada serie de entre las soluciones propuestas.

3 - 5 - 4 - 6 - 5 - 7 -

- A. 6
- B. 5
- C. 8
- D. 9

19. www.riolearning.com

Elegir, de entre las opciones propuestas, la que completa la serie:



- A. 6/3
- B. 1/4
- C. 6/2
- D. 0/4

20. www.riolearning.com

Señalar el número que sigue en cada serie de entre las soluciones propuestas.

59 - 57 - 54 - 50 - 45 -

- A. 40
- B. 39
- C. 41
- D. 44

21. www.riolearning.com

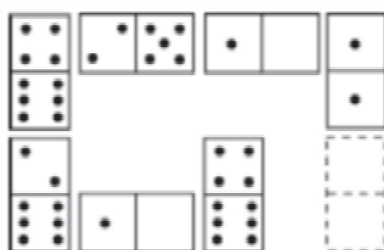
Señalar el número que sigue en cada serie de entre las soluciones propuestas.

9 - 8 - 10 - 7 - 6 - 8 - 5 - 4 -

- A. 1
- B. 8
- C. 6
- D. 7

22. www.riolearning.com

Elegir, de entre las opciones propuestas, la que completa la serie:



- A. 6/3
- B. 5/1
- C. 4/2
- D. 4/3

23. www.riolearning.com

Señalar el número que sigue en cada serie de entre las soluciones propuestas.

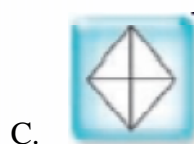
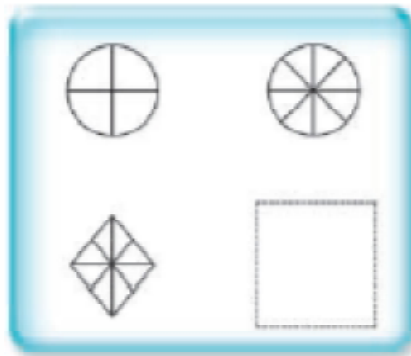
52 - 53 - 55 - 58 - 62 -

- A. 65
- B. 66
- C. 68
- D. 67

24.

www.riolearning.com



Señalar, de entre las propuestas, qué figura falta en cada una de las series.



25.

www.riolearning.com

Señalar, de entre las propuestas, qué figura completa cada una de las series.



26. www.riolearning.com

Señalar, de entre las propuestas, qué figura completa cada una de las series.



27. www.riolearning.com

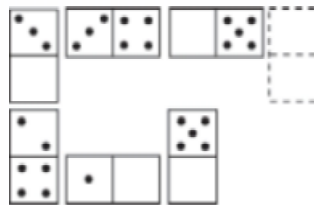
Señalar, de entre las propuestas, la letra que sigue en cada serie. (En este test no cuentan las letras CH, LL, W).

m - m - ñ - p - p - r - t -

- A. t
- B. s
- C. v
- D. u

28. www.riolearning.com

Elegir, de entre las opciones propuestas, la que completa la serie:




- A. $\frac{1}{6}$
- B. $\frac{2}{6}$
- C. $\frac{3}{5}$
- D. $\frac{3}{0}$

29.

www.riolearning.com

En este prueba se trata de completar las series con las figuras de domino, eligiendo de las cuatro opciones que se les da ¿cuál es la correcta?

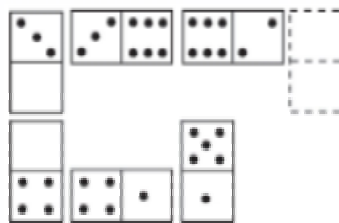


- A. 2-3
- B. 2-4
- C. Ninguna es correcta
- D. 3-3

30.

www.riolearning.com

Elegir, de entre las opciones propuestas, la que completa la serie:



- A. 3/4
- B. 2/5
- C. 1/4
- D. 2/5

31.

www.riolearning.com

Señalar, de entre las propuestas, la letra que sigue en cada serie. (En este test no cuentan las letras CH, LL, W).


l - k - i - h - g - e - d - c - b -

- A. e
- B. z
- C. y
- D. a

32.

www.riolearning.com

Continúa la serie

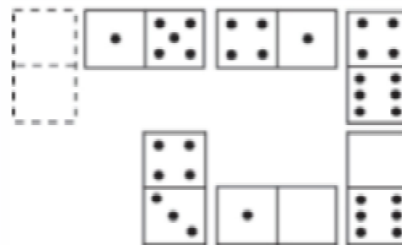


- A. Ninguna es correcta
- B. 6 de corazones
- C. 6 de tréboles
- D. 6 de diamantes

33.

www.riolearning.com

Elegir, de entre las opciones propuestas, la que completa la serie:

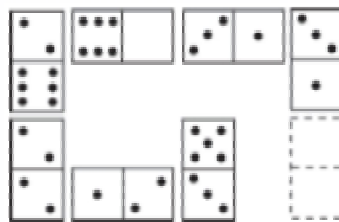


- A. 5/1
- B. 1/1
- C. 2/0
- D. 3/2

34.

www.riolearning.com

Elegir, de entre las opciones propuestas, la que completa la serie:

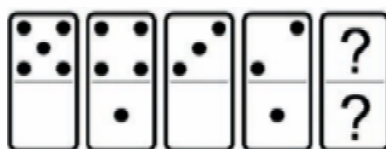


- A. 3/6
- B. 2/0
- C. 0/6
- D. 1/3

35.

www.riolearning.com

En este prueba se trata de completar las series con las figuras de domino, eligiendo de las cuatro opciones que se les da ¿cuál es la correcta?

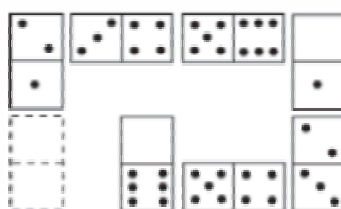


- A. 1-blanca
- B. Blanca-1
- C. 1-1
- D. 2-blanca

36.

www.riolearning.com

Elegir, de entre las opciones propuestas, la que completa la serie:



- A. 0/0
- B. 1/5
- C. 1/6
- D. 0/6

37.

www.riolearning.com

Señalar, de entre las propuestas, la letra que sigue en cada serie. (En este test no cuentan las letras CH, LL, W).

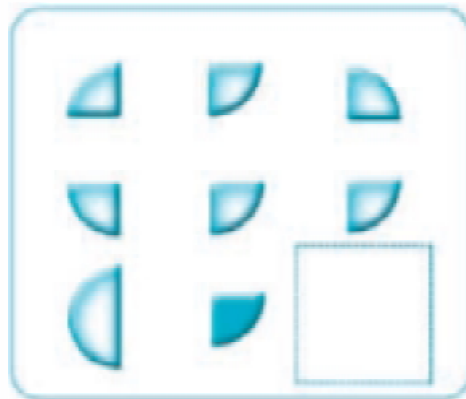
i - b - k - z - m - x

- A. u
- B. n
- C. v
- D. ñ

38.

www.riolearning.com

Señalar, de entre las propuestas, qué figura completa cada una de las series.



A.



C.



B.




D.



39.

www.riolearning.com

Señalar, de entre las propuestas, qué figura completa cada una de las series.




A.



C.



B.



D.




40.

www.riolearning.com

NAIPES

Elija la que continua la serie.



- A. 7 de diamantes
- B. 6 de corazones
- C. 6 de picas
- D. 7 de corazones

41.

www.riolearning.com

Señalar el número que sigue en cada serie de entre las soluciones propuestas.

6 - 8 - 7 - 10 - 8 - 12 -

- A. 8
- B. 9
- C. 15
- D. 14

42.

www.riolearning.com

Señalar, de entre las propuestas, la letra que sigue en cada serie. (En este test no cuentan las letras CH, LL, W).

m - n - o - p - q - s - t - u - v -

- A. y
- B. z
- C. m
- D. x

43.

www.riolearning.com

Señalar, de entre las propuestas, la letra que sigue en cada serie. (En este test no cuentan las letras CH, LL, W).


m - m - m - n - n - ñ - o - o - o - p - p

- A. q
- B. p
- C. o
- D. m

44.

www.riolearning.com

¿Qué carta continua la serie?

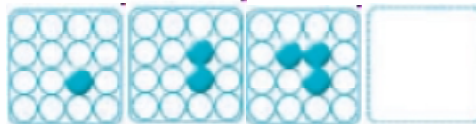


- A. As de tréboles
- B. 9 de corazones
- C. 9 de diamantes
- D. As de picas

45.

www.riolearning.com

Señalar, de entre las propuestas, qué figura completa cada una de las series.




- A.
- B.

- C.
- D.

46.

www.riolearning.com

En este prueba se trata de completar las series con las figuras de domino, eligiendo de las cuatro opciones que se les da ¿cuál es la correcta?



- A. 6-4
- B. Blanca-4
- C. 4-blanca
- D. 4-6

47. www.riolearning.com
 Señalar, de entre las propuestas, la letra que sigue en cada serie. (En este test no cuentan las letras CH, LL, W).

b - d - h - n - u -

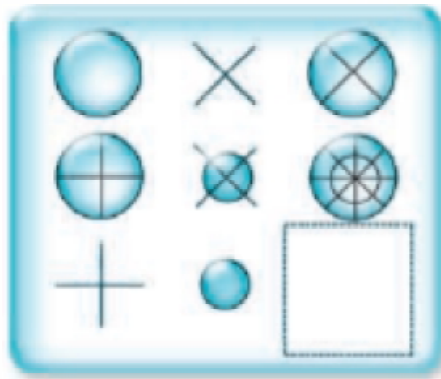
- A. f
- B. c
- C. z
- D. y



48. www.riolearning.com
 Señalar el número que sigue en cada serie de entre las soluciones propuestas.



7 - 9 - 5 - 6 - 8 - 4 - 5 - 7 -

- A. 3
- B. 9
- C. 4
- D. 6

49. www.riolearning.com
 Señalar, de entre las propuestas, qué figura completa cada una de las series.






- A. 
- B. 

- C. 
- D. 

50. www.riolearning.com

Señalar, de entre las propuestas, qué figura completa cada una de las series.



51. www.riolearning.com


Señalar el número que sigue en cada serie de entre las soluciones propuestas.

20 - 22 - 25 - 28 - 30 - 33 - 36 - 38 -

- A. 42
- B. 39
- C. 41
- D. 40

52. www.riolearning.com

¿Qué carta continua la serie?



- A. El 2 de diamantes
- B. El 2 de corazones
- C. El 3 de diamantes
- D. El 3 de corazones

53. www.riolearning.com

Señalar, de entre las propuestas, la letra que sigue en cada serie. (En este test no cuentan las letras CH, LL, W).

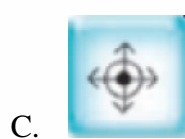

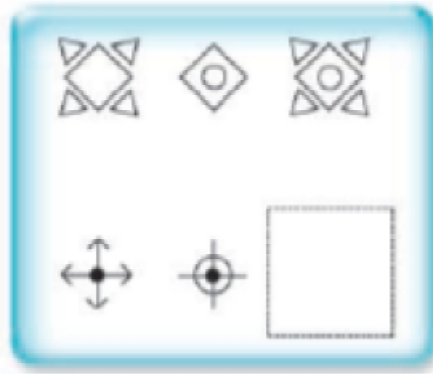
d - g - j - e - h - k - f -

- A. i
- B. g
- C. j
- D. c

54.

www.riolearning.com

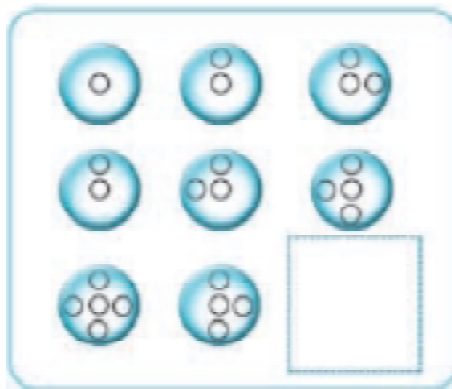
Señalar, de entre las propuestas, qué figura falta en cada una de las series.



55.

www.riolearning.com


Señalar, de entre las propuestas, qué figura completa cada una de las series.



56.

www.riolearning.com

En este prueba se trata de completar las series con las figuras de domino, eligiendo de las cuatro opciones que se les da ¿cuál es la correcta?




- A. 2-5
- B. 5-5
- C. Blanca-5
- D. 6-5

57.

www.riolearning.com

Elija la que continua la serie.



- A. 10 de picas
- B. 10 de diamantes
- C. 11 de tréboles
- D. 10 de corazones

58.

www.riolearning.com

Señalar, de entre las propuestas, la letra que sigue en cada serie. (En este test no cuentan las letras CH, LL, W).

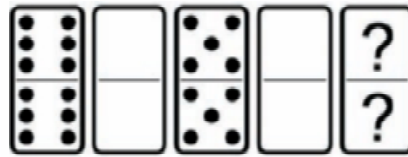
b - f - y - c - u - z -

- A. g
- B. u
- C. d
- D. r

59.

www.riollearning.com

En este prueba se trata de completar las series con las figuras de domino, eligiendo de las cuatro opciones que se les da ¿cuál es la correcta?



- A. Blanca-blanca
- B. 4-4
- C. 5-5
- D. 1-1

60.

www.riollearning.com

Señalar, de entre las propuestas, qué figura completa cada una de las series.




- A.
- B.

- C.
- D.

61.

www.riollearning.com

Continúa la serie




- A. La Q de corazones
- B. La J de tréboles
- C. La Q de picas
- D. La J de picas

62.

www.riolearning.com

¿Qué carta pondría en el hueco en blanco?




- A. El 6 de corazones
- B. El 4 de corazones
- C. El 5 de corazones
- D. Ninguna es correcta.

63.

www.riolearning.com

Elija la que continua la serie.

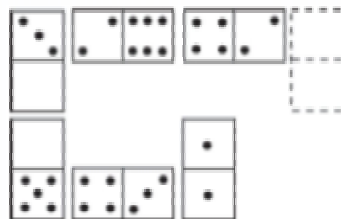


- A. El 4 de picas
- B. El 3 de corazones
- C. Ninguna de las anteriores es la correct
- D. El 4 de tréboles

64.

www.riolearning.com

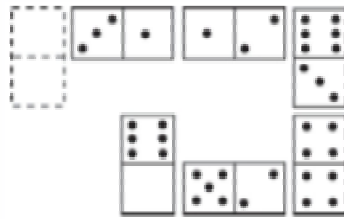
Elegir, de entre las opciones propuestas, la que completa la serie:



- A. 0/5
- B. 6/5
- C. 5/4
- D. 1/3

65. www.riolearning.com


Elegir, de entre las opciones propuestas, la que completa la serie:



- A. 1/6
- B. 2/5
- C. 0/4
- D. 0/5

66. www.riolearning.com

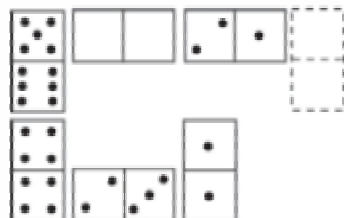
¿Qué carta continua la serie?



- A. Ninguna de las anteriores es correcta
- B. La J de tréboles
- C. La J de diamantes
- D. La J de picas

67. www.riolearning.com

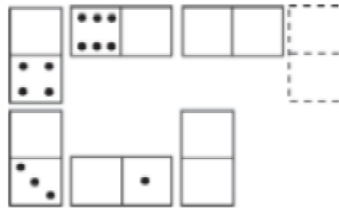
Elegir, de entre las opciones propuestas, la que completa la serie:



- A. 3/3
- B. 3/4
- C. 1/3
- D. 2/2

68. www.riollearning.com

Elegir, de entre las opciones propuestas, la que completa la serie:



- A. 1/0
- B. 2/0
- C. 1/1
- D. 0/0

69. www.riollearning.com


Señalar el número que sigue en cada serie de entre las soluciones propuestas.

15 - 14 - 17 - 12 - 11 - 14 -

- A. 17
- B. 11
- C. 15
- D. 9

70. www.riollearning.com

Señalar, de entre las propuestas, qué figura falta en cada una de las series.




- A.
- B.
- C.
- D.
- E.

71.

www.riolearning.com

Elija la que continua la serie.




- A. 12 de picas
- B. 11 de corazones
- C. 3 diamantes
- D. 10 de picas

72.

www.riolearning.com

Señalar, de entre las propuestas, qué figura completa cada una de las series.




- A.
- B.
- C.
- D.

73.

www.riolearning.com

En este prueba se trata de completar las series con las figuras de domino, eligiendo de las cuatro opciones que se les da ¿cuál es la correcta?

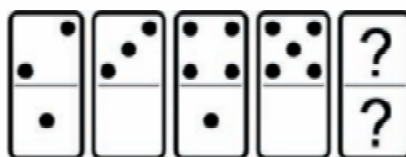


- A. 4-3
- B. 2-4
- C. 1-4
- D. 3-4

74.

www.riolearning.com

En este prueba se trata de completar las series con las figuras de domino, eligiendo de las cuatro opciones que se les da ¿cuál es la correcta?

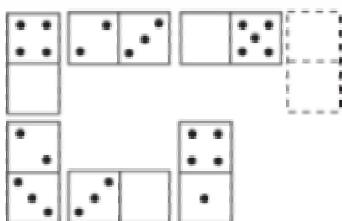


- A. Blanca-1
- B. 6-1
- C. 1-blanca
- D. 1-1

75.

www.riolearning.com

Elegir, de entre las opciones propuestas, la que completa la serie:



- A. 1/4
- B. 1/5
- C. 2/3
- D. 3/5

76.

www.riolearning.com

Señalar, de entre las propuestas, la letra que sigue en cada serie. (En este test no cuentan las letras CH, LL, W).


d - g - k - o -

- A. t
- B. u
- C. s
- D. p

77.

www.riolearning.com

¿Qué 2 cartas faltan?



- A. Ninguna es correcta
- B. Delante la K de diamantes y detrás el 10 de diamantes
- C. Delante el 10 de corazones y detrás la K de tréboles
- D. Delante el 10 de picas y detrás la K de corazones

78. www.riolearning.com

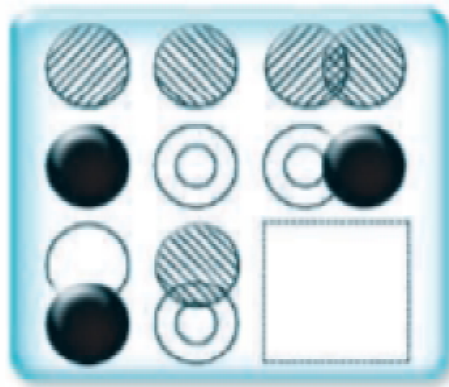
Señalar, de entre las propuestas, la letra que sigue en cada serie. (En este test no cuentan las letras CH, LL, W).


r - g - p - e - ñ - c -

- A. m
- B. k
- C. a
- D. n

79. www.riolearning.com

Señalar, de entre las propuestas, qué figura completa cada una de las series.



- A. 
- B. 
- C. 
- D. 

80. www.riolearning.com

Señalar el número que sigue en cada serie de entre las soluciones propuestas.


8 - 11 - 9 - 12 - 10 - 13 -

- A. 11
- B. 8
- C. 16
- D. 15

81.

www.riolearning.com

En este prueba se trata de completar las series con las figuras de domino, eligiendo de las cuatro opciones que se les da ¿cuál es la correcta?

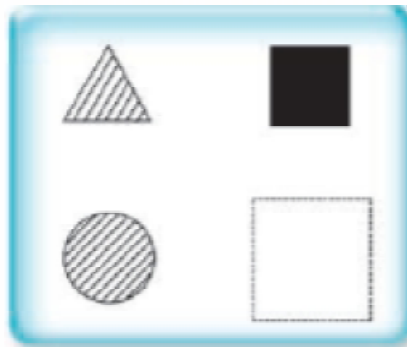



- A. Blanca-1
- B. Blanca-5
- C. 6-5
- D. 5-5



82.

www.riolearning.com

Señalar, de entre las propuestas, qué figura falta en cada una de las series.



- A. 
- B. 

- C. 
- D. 

83.

www.riolearning.com

Señalar el número que sigue en cada serie de entre las soluciones propuestas.

6 - 7 - 6 - 8 - 7 - 7 - 7 - 8 - 8 - 7 -

- A. 8
- B. 6
- C. 7
- D. 9

84.

www.riolearning.com

Señalar, de entre las propuestas, la letra que sigue en cada serie. (En este test no cuentan las letras CH, LL, W).


d - h - f - i - h - l - j - m - l -

- A. k
- B. j
- C. ñ
- D. o

85.

www.riolearning.com

En este prueba se trata de completar las series con las figuras de domino, eligiendo de las cuatro opciones que se les da ¿cuál es la correcta?

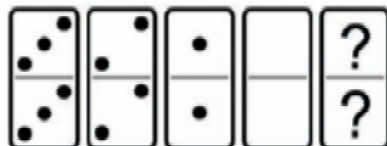


- A. 4-4
- B. 3-3
- C. 2-4
- D. Blanca-blanca

86.

www.riolearning.com

En este prueba se trata de completar las series con las figuras de domino, eligiendo de las cuatro opciones que se les da ¿cuál es la correcta?




- A. 4-5
- B. 5-5
- C. 5-4
- D. Ninguna es correcta

91.

www.riolearning.com

En este prueba se trata de completar las series con las figuras de domino, eligiendo de las cuatro opciones que se les da ¿cuál es la correcta?

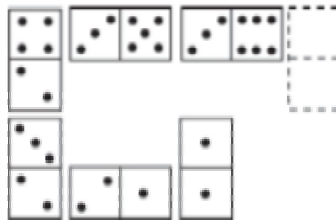


- A. Blanca-1
- B. 1-blanca
- C. 2-1
- D. 1-2

92.

www.riolearning.com

Elegir, de entre las opciones propuestas, la que completa la serie:



- A. 3/0
- B. 5/6
- C. 4/0
- D. 3/1

93.

www.riolearning.com

Señalar el número que sigue en cada serie de entre las soluciones propuestas.

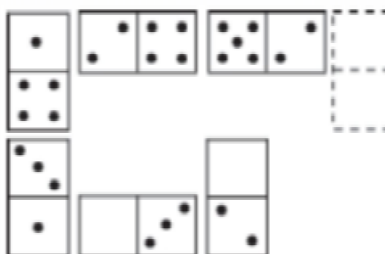
14 - 15 - 16 - 15 - 16 - 17 - 16 - 17 - 18 -

- A. 17
- B. 14
- C. 15
- D. 19

94.

www.riolearning.com

Elegir, de entre las opciones propuestas, la que completa la serie:


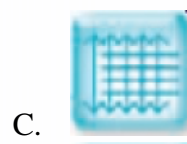
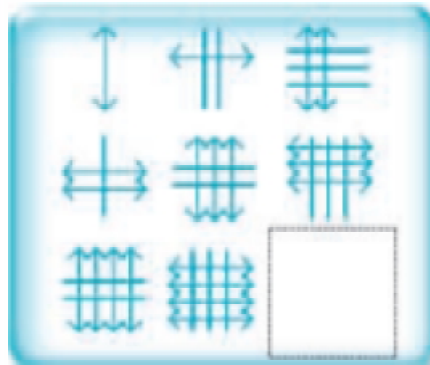


- A. $\frac{4}{3}$
- B. $\frac{3}{5}$
- C. $\frac{2}{0}$
- D. $\frac{3}{6}$

95.

www.riollearning.com

Señalar, de entre las propuestas, qué figura completa cada una de las series.



96.

www.riollearning.com

Señalar el número que sigue en cada serie de entre las soluciones propuestas.



17 - 21 - 27 - 35 - 45 -

- A. 50
- B. 49
- C. 53
- D. 57

97.

www.riolearning.com

Señalar, de entre las propuestas, qué figura completa cada una de las series.



98.

www.riolearning.com

Señalar el número que sigue en cada serie de entre las soluciones propuestas.





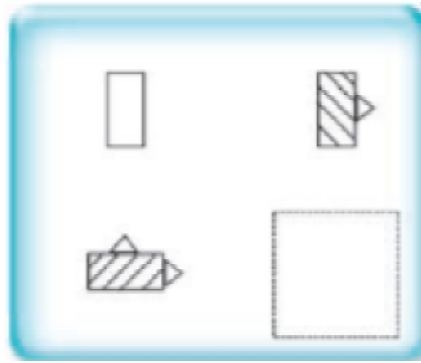
17 - 19 - 22 - 24 - 27 -

- A. 30
- B. 32
- C. 28
- D. 29

99.

www.riolearning.com

Señalar, de entre las propuestas, qué figura falta en cada una de las series.



100.

www.riolearning.com

Señalar, de entre las propuestas, la letra que sigue en cada serie. (En este test no cuentan las letras CH, LL, W).

b - z - u - o - h -

- A. x
- B. v
- C. y
- D. z

Razonamiento Numérico
Answer Section**MULTIPLE CHOICE**

- | | |
|------------|--------|
| 1. ANS: D | PTS: 1 |
| 2. ANS: B | PTS: 1 |
| 3. ANS: C | PTS: 1 |
| 4. ANS: B | PTS: 1 |
| 5. ANS: B | PTS: 1 |
| 6. ANS: B | PTS: 1 |
| 7. ANS: C | PTS: 1 |
| 8. ANS: A | PTS: 1 |
| 9. ANS: C | PTS: 1 |
| 10. ANS: A | PTS: 1 |
| 11. ANS: B | PTS: 1 |
| 12. ANS: A | PTS: 1 |
| 13. ANS: C | PTS: 1 |
| 14. ANS: C | PTS: 1 |
| 15. ANS: A | PTS: 1 |
| 16. ANS: D | PTS: 1 |
| 17. ANS: E | PTS: 1 |
| 18. ANS: A | PTS: 1 |
| 19. ANS: D | PTS: 1 |
| 20. ANS: B | PTS: 1 |
| 21. ANS: C | PTS: 1 |
| 22. ANS: D | PTS: 1 |
| 23. ANS: D | PTS: 1 |
| 24. ANS: C | PTS: 1 |
| 25. ANS: B | PTS: 1 |
| 26. ANS: B | PTS: 1 |
| 27. ANS: A | PTS: 1 |
| 28. ANS: B | PTS: 1 |
| 29. ANS: D | PTS: 1 |
| 30. ANS: D | PTS: 1 |
| 31. ANS: B | PTS: 1 |
| 32. ANS: C | PTS: 1 |
| 33. ANS: A | PTS: 1 |
| 34. ANS: C | PTS: 1 |
| 35. ANS: A | PTS: 1 |
| 36. ANS: D | PTS: 1 |
| 37. ANS: D | PTS: 1 |
| 38. ANS: C | PTS: 1 |
| 39. ANS: A | PTS: 1 |
| 40. ANS: A | PTS: 1 |

41.	ANS: B	PTS: 1
42.	ANS: A	PTS: 1
43.	ANS: A	PTS: 1
44.	ANS: D	PTS: 1
45.	ANS: C	PTS: 1
46.	ANS: D	PTS: 1
47.	ANS: A	PTS: 1
48.	ANS: A	PTS: 1
49.	ANS: B	PTS: 1
50.	ANS: B	PTS: 1
51.	ANS: C	PTS: 1
52.	ANS: A	PTS: 1
53.	ANS: A	PTS: 1
54.	ANS: C	PTS: 1
55.	ANS: B	PTS: 1
56.	ANS: A	PTS: 1
57.	ANS: B	PTS: 1
58.	ANS: D	PTS: 1
59.	ANS: B	PTS: 1
60.	ANS: B	PTS: 1
61.	ANS: C	PTS: 1
62.	ANS: C	PTS: 1
63.	ANS: C	PTS: 1
64.	ANS: B	PTS: 1
65.	ANS: D	PTS: 1
66.	ANS: B	PTS: 1
67.	ANS: A	PTS: 1
68.	ANS: B	PTS: 1
69.	ANS: D	PTS: 1
70.	ANS: D	PTS: 1
71.	ANS: C	PTS: 1
72.	ANS: D	PTS: 1
73.	ANS: C	PTS: 1
74.	ANS: B	PTS: 1
75.	ANS: A	PTS: 1
76.	ANS: B	PTS: 1
77.	ANS: A	PTS: 1
78.	ANS: A	PTS: 1
79.	ANS: D	PTS: 1
80.	ANS: A	PTS: 1
81.	ANS: B	PTS: 1
82.	ANS: B	PTS: 1
83.	ANS: A	PTS: 1
84.	ANS: D	PTS: 1
85.	ANS: A	PTS: 1

86.	ANS: D	PTS: 1
87.	ANS: C	PTS: 1
88.	ANS: A	PTS: 1
89.	ANS: B	PTS: 1
90.	ANS: A	PTS: 1
91.	ANS: D	PTS: 1
92.	ANS: C	PTS: 1
93.	ANS: A	PTS: 1
94.	ANS: B	PTS: 1
95.	ANS: C	PTS: 1
96.	ANS: D	PTS: 1
97.	ANS: C	PTS: 1
98.	ANS: D	PTS: 1
99.	ANS: C	PTS: 1
100.	ANS: A	PTS: 1

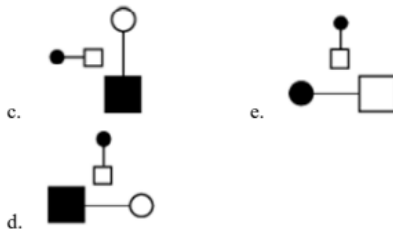
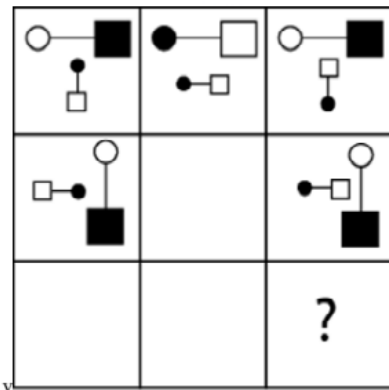
Anexo

TAE20_001_001 ID:A

Modelo de Examen de Acceso a la Educación Superior TAE20_001_001 ID: A

www.riolcarning.com

¿qué falta?



En la parte superior derecha del documento se muestra un código que indica el tipo de examen, número de preguntas y el ID del TEST (se cuenta con cuatro A, B, C, D)

Esta información te permitirá buscar el solucionario.

El solucionario lo puedes encontrar en nuestras redes sociales o en la página www.multimevi.com en la sección DESCARGAS

Aula virtual

www.riolearning.com



Ejercicios Acceso a la Educación Superior tiene licencia [CC BY-NC 4.0](https://creativecommons.org/licenses/by-nc/4.0/) © 2 por EdFr@MeVi



Forma

Test Version

Grid for Test Version

Nombre: _____

Asignatura: _____

Fecha: _____

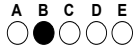
- A B C D

Cédula - Código

Grid for Cédula - Código (0-9)

- Utilice lápiz para marcar la respuesta.
Marque un círculo completo
Borre completamente el círculo para marcar una nueva respuesta

Ejemplo



Calificación

Empty box for Calificación

Main grid of 100 questions (1-100) with options A-E



ENLACE	DETALLE	QR
http://www.multimevi.com/	Página web MULTIMEVI, donde encontrarás noticias y recursos	
https://t.me/+Klr3YaM42_ZhZTIx	Grupo de apoyo en TELEGRAM	
https://chat.whatsapp.com/IQuCCcZjtLjIkLfgzXo68Y	<u>GRUPO DE WHATSAPP</u>	
https://whatsapp.com/channel/0029VaBB2zQHwXb5Vhn9Yw1W	Canal de noticias WhatsApp	
https://www.facebook.com/multimevi.ec/	Perfil de facebook	
https://www.facebook.com/groups/multimevi	Grupo FULL Rectivos	
https://www.tiktok.com/@multimevi	Canal de TIK TOK	
https://www.instagram.com/multimevi.ec/	Canal de Instagram	
https://twitter.com/multimevi	Red X	

Modelo R

Plataforma MOODLE

 www.riolearning.com

Página Web



www.multimevi.com

Redes Sociales



Procesos



ACCESO a la Educación Superior
SENESCYT

QUIERO SER MAESTRO
Ministerio de Educación