

Razonamiento Numérico

Opción Múltiple

Elige la opción que complete mejor el enunciado o que responda mejor a la pregunta.

1. 

Señalar el número que sigue en cada serie de entre las soluciones propuestas.

3 - 5 - 4 - 6 - 5 - 7 -

- A. 6
- B. 9
- C. 8
- D. 5

2. 

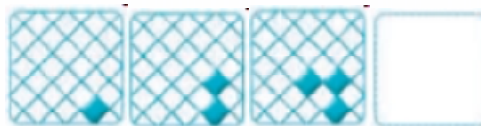
Señalar el número que sigue en cada serie de entre las soluciones propuestas.



86 - 89 - 91 - 94 - 96 -

- A. 100
- B. 87
- C. 99
- D. 97

3. 

Señalar, de entre las propuestas, qué figura completa cada una de las series.




- A. 
- B. 

- C. 
- D. 

4. www.riolearning.com

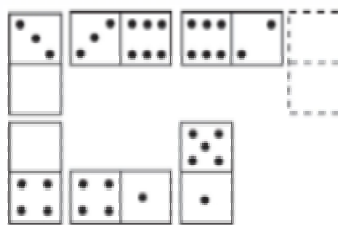
¿Qué carta pondría en el hueco en blanco?



- A. El 5 de corazones
- B. El 4 de corazones
- C. Ninguna es correcta.
- D. El 6 de corazones

5. www.riolearning.com

Elegir, de entre las opciones propuestas, la que completa la serie:



- A. 2/5
- B. 1/4
- C. 2/5
- D. 3/4

6. www.riolearning.com

Señalar, de entre las propuestas, la letra que sigue en cada serie. (En este test no cuentan las letras CH, LL, W).


r - g - p - e - ñ - c -

- A. a
- B. m
- C. k
- D. n

7.

www.riolearning.com

En este prueba se trata de completar las series con las figuras de domino, eligiendo de las cuatro opciones que se les da ¿cuál es la correcta?

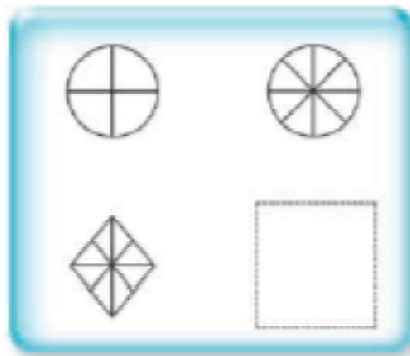




- A. 2-5
- B. 6-5
- C. Blanca-5
- D. 5-5



8.

www.riolearning.com

Señalar, de entre las propuestas, qué figura falta en cada una de las series.




- A. 
- B. 

- C. 
- D. 

9.

www.riolearning.com

Señalar, de entre las propuestas, qué figura falta en cada una de las series.



A.



C.



B.



D.



10.

www.riolearning.com

Señalar el número que sigue en cada serie de entre las soluciones propuestas.

12 - 13 - 16 - 17 - 20 - 21 -

- A. 27
- B. 25
- C. 24
- D. 22

11.

www.riolearning.com

Señalar, de entre las propuestas, la letra que sigue en cada serie. (En este test no cuentan las letras CH, LL, W).



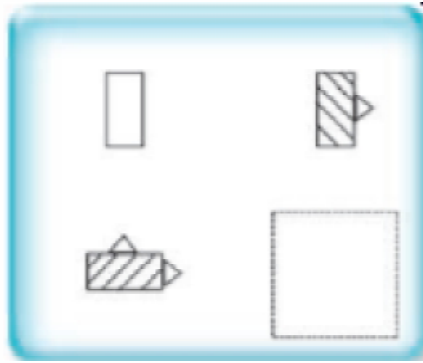
m - m - ñ - p - p - r - t -

- A. u
- B. v
- C. s
- D. t

12.

www.riolearning.com


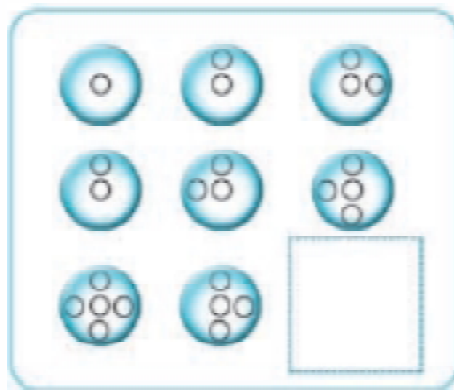
Señalar, de entre las propuestas, qué figura falta en cada una de las series.



13.

www.riolearning.com


Señalar, de entre las propuestas, qué figura completa cada una de las series.



14.

www.riollearning.com

¿Qué carta continua la serie?





- A. El 2 de corazones
- B. El 2 de diamantes
- C. El 3 de corazones
- D. El 3 de diamantes


15.

www.riollearning.com

Señalar, de entre las propuestas, qué figura completa cada una de las series.



- A. 
- B. 


- C. 
- D. 

Modelo P



Razonamiento Matemático

Preguntas modelo
examen de acceso a la educación superior




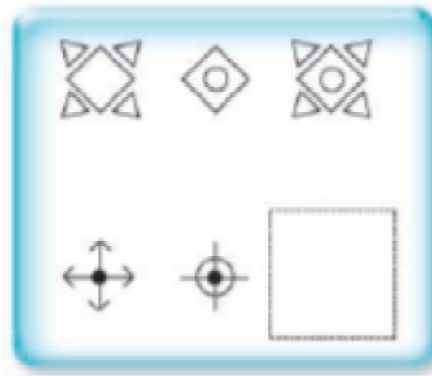
ACCESO a la Educación Superior
SENESCYT

QUIERO SER MAESTRO
Ministerio de Educación

16.

www.riolearning.com


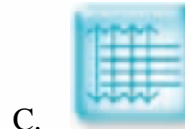

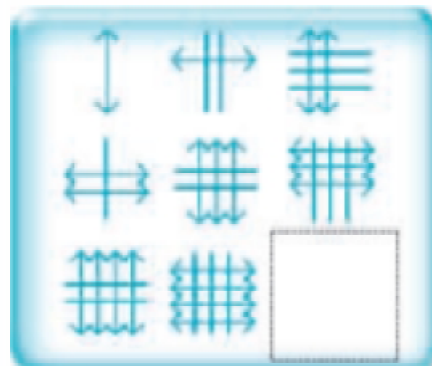
Señalar, de entre las propuestas, qué figura falta en cada una de las series.



17.

www.riolearning.com

Señalar, de entre las propuestas, qué figura completa cada una de las series.




18. www.riolearning.com
 Señalar, de entre las propuestas, la letra que sigue en cada serie. (En este test no cuentan las letras CH, LL, W).

k - o - s - v -

- A. y
- B. x
- C. t
- D. u

19. www.riolearning.com
 En este prueba se trata de completar las series con las figuras de domino, eligiendo de las cuatro opciones que se les da ¿cuál es la correcta?



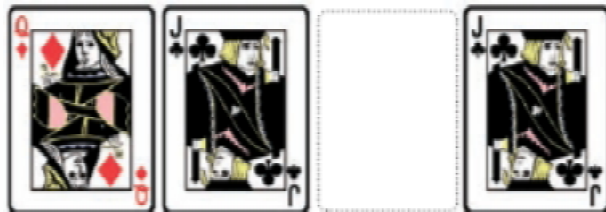
- A. 5-5
- B. 4-4
- C. Blanca-blanca
- D. 1-1

20. www.riolearning.com
 Señalar el número que sigue en cada serie de entre las soluciones propuestas.

59 - 57 - 54 - 50 - 45 -

- A. 41
- B. 40
- C. 39
- D. 44

21. www.riolearning.com
Continúa la serie



- A. La Q de picas
- B. La J de tréboles
- C. La J de picas
- D. La Q de corazones

22. www.riolearning.com


Señalar el número que sigue en cada serie de entre las soluciones propuestas.

15 - 14 - 17 - 12 - 11 - 14 -

- A. 17
- B. 9
- C. 15
- D. 11

23. www.riolearning.com

¿Qué carta continua la serie?




- A. La J de diamantes
- B. Ninguna de las anteriores es correcta
- C. La J de tréboles
- D. La J de picas

24. www.riolearning.com

NAIPES

Elija la que continua la serie.



- A. 6 de picas
- B. 7 de diamantes
- C. 6 de corazones
- D. 7 de corazones

25. www.riolearning.com

Señalar el número que sigue en cada serie de entre las soluciones propuestas.


17 - 21 - 27 - 35 - 45 -

- A. 50
- B. 57
- C. 49
- D. 53

26.

www.riolearning.com

En este prueba se trata de completar las series con las figuras de domino, eligiendo de las cuatro opciones que se les da ¿cuál es la correcta?

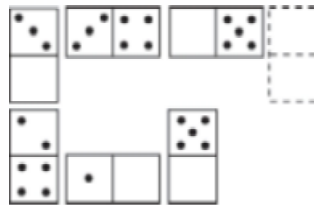


- A. 1-2
- B. 1-blanca
- C. Blanca-1
- D. 2-1

27.

www.riolearning.com

Elegir, de entre las opciones propuestas, la que completa la serie:

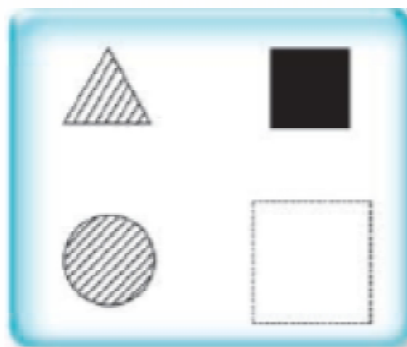


- A. $\frac{2}{6}$
- B. $\frac{3}{5}$
- C. $\frac{1}{6}$
- D. $\frac{3}{0}$

28.

www.riolearning.com

Señalar, de entre las propuestas, qué figura falta en cada una de las series.




- A. 
- B. 
- C. 
- D. 

29.

www.riolearning.com

En este prueba se trata de completar las series con las figuras de domino, eligiendo de las cuatro opciones que se les da ¿cuál es la correcta?




- A. 1-1
- B. Blanca-1
- C. 2-blanca
- D. 1-blanca

30.

www.riolearning.com

En este prueba se trata de completar las series con las figuras de domino, eligiendo de las cuatro opciones que se les da ¿cuál es la correcta?

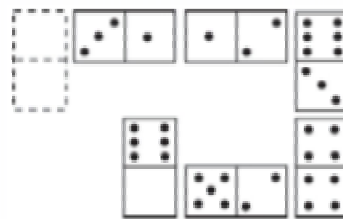


- A. 5-5
- B. Blanca-5
- C. Blanca-1
- D. 6-5

31.

www.riolearning.com

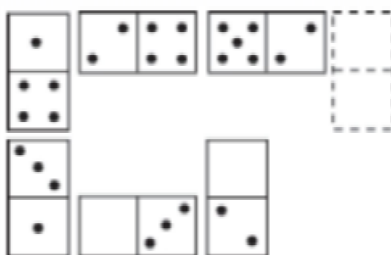
Elegir, de entre las opciones propuestas, la que completa la serie:



- A. 2/5
- B. 0/4
- C. 1/6
- D. 0/5

32. www.riolearning.com

Elegir, de entre las opciones propuestas, la que completa la serie:



- A. $\frac{4}{3}$
- B. $\frac{3}{6}$
- C. $\frac{2}{0}$
- D. $\frac{3}{5}$

33. www.riolearning.com

Señalar, de entre las propuestas, la letra que sigue en cada serie. (En este test no cuentan las letras CH, LL, W).

b - d - h - n - u -

- A. c
- B. y
- C. f
- D. z

34. www.riolearning.com

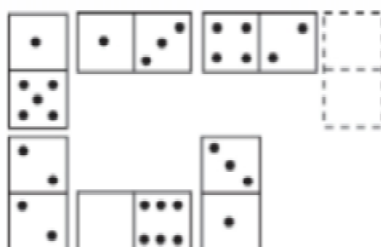
Señalar el número que sigue en cada serie de entre las soluciones propuestas.

9 - 8 - 10 - 7 - 6 - 8 - 5 - 4 -

- A. 6
- B. 7
- C. 8
- D. 1

35. www.riolearning.com

Elegir, de entre las opciones propuestas, la que completa la serie:




- A. $\frac{6}{3}$
- B. $\frac{0}{4}$
- C. $\frac{6}{2}$
- D. $\frac{1}{4}$

36.

www.riolearning.com

Continúa la serie

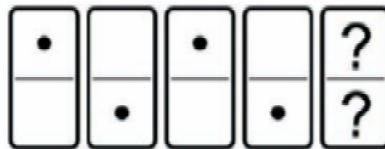


- A. 6 de corazones
- B. Ninguna es correcta
- C. 6 de diamantes
- D. 6 de tréboles

37.

www.riolearning.com

En este prueba se trata de completar las series con las figuras de domino, eligiendo de las cuatro opciones que se les da ¿cuál es la correcta?




- A. Blanca-1
- B. Blanca-blanca
- C. 1-blanca
- D. 1-1

38.

www.riolearning.com

Elija la que continua la serie.



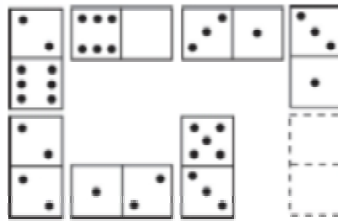
- A. Ninguna de las anteriores es la correct
- B. El 3 de corazones
- C. El 4 de picas
- D. El 4 de tréboles

39. www.riolearning.com
 Señalar, de entre las propuestas, la letra que sigue en cada serie. (En este test no cuentan las letras CH, LL, W).

l - u - n - t - o - r - q - o -

- A. n
- B. t
- C. s
- D. r

40. www.riolearning.com
 Elegir, de entre las opciones propuestas, la que completa la serie:



- A. 1/3
- B. 0/6
- C. 3/6
- D. 2/0

41. www.riolearning.com
 Señalar, de entre las propuestas, la letra que sigue en cada serie. (En este test no cuentan las letras CH, LL, W).



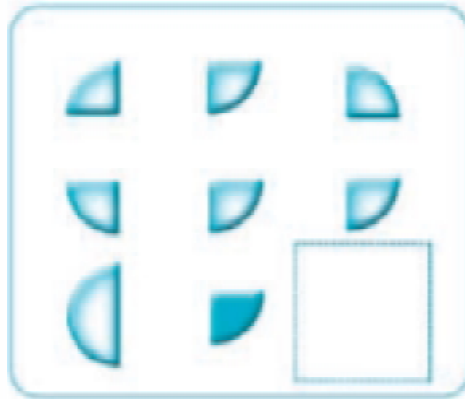
ñ - f - n - e - m - d - l - c -

- A. a
- B. k
- C. b
- D. j

42.

www.riolearning.com

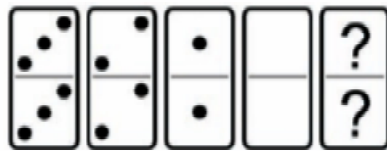
Señalar, de entre las propuestas, qué figura completa cada una de las series.



43.

www.riolearning.com

En este prueba se trata de completar las series con las figuras de domino, eligiendo de las cuatro opciones que se les da ¿cuál es la correcta?



- A. 5-5
- B. 4-5
- C. Ninguna es correcta
- D. 5-4

44. www.riolearning.com

Señalar, de entre las propuestas, qué figura completa cada una de las series.



45. www.riolearning.com


Señalar el número que sigue en cada serie de entre las soluciones propuestas.

17 - 19 - 22 - 24 - 27 -

- A. 30
- B. 29
- C. 28
- D. 32

46. www.riolearning.com

En este prueba se trata de completar las series con las figuras de domino, eligiendo de las cuatro opciones que se les da ¿cuál es la correcta?



- A. 3-3
- B. 2-3
- C. Ninguna es correcta
- D. 2-4

47. www.riolearning.com

Señalar, de entre las propuestas, la letra que sigue en cada serie. (En este test no cuentan las letras CH, LL, W).


l - k - i - h - g - e - d - c - b -

- A. y
- B. e
- C. a
- D. z

48.

www.riolearning.com


Señalar, de entre las propuestas, qué figura falta en cada una de las series.



49.

www.riolearning.com

En este prueba se trata de completar las series con las figuras de domino, eligiendo de las cuatro opciones que se les da ¿cuál es la correcta?



- A. Blanca-blanca
- B. 3-3
- C. 4-4
- D. 2-4

50.

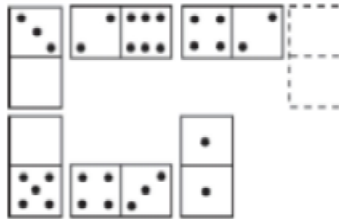
www.riolearning.com

Señalar, de entre las propuestas, qué figura completa cada una de las series.



51. www.riolearning.com

Elegir, de entre las opciones propuestas, la que completa la serie:



- A. 5/4
- B. 6/5
- C. 1/3
- D. 0/5

52. www.riolearning.com

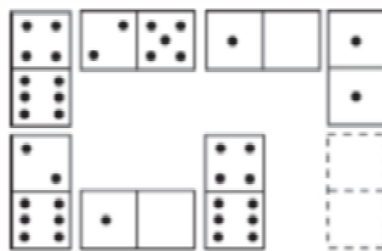
Elija la que continua la serie.



- A. 10 de diamantes
- B. 10 de corazones
- C. 10 de picas
- D. 11 de tréboles

53. www.riolearning.com

Elegir, de entre las opciones propuestas, la que completa la serie:



- A. 5/1
- B. 4/3
- C. 4/2
- D. 6/3

54. www.riolearning.com

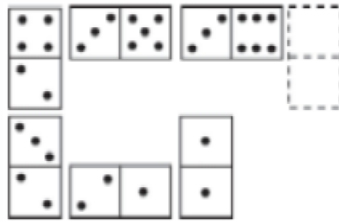
Señalar, de entre las propuestas, la letra que sigue en cada serie. (En este test no cuentan las letras CH, LL, W).

i - b - k - z - m - x

- A. u
- B. n
- C. ñ
- D. v

55. www.riolearning.com

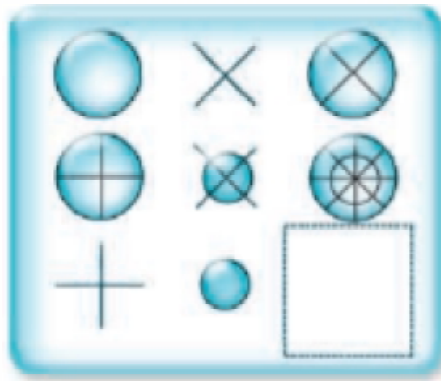
Elegir, de entre las opciones propuestas, la que completa la serie:



- A. 4/0
- B. 5/6
- C. 3/0
- D. 3/1

56. www.riolearning.com


Señalar, de entre las propuestas, qué figura completa cada una de las series.



- A.
- B.
- C.
- D.

57. www.riolearning.com

¿Qué carta pondría en el hueco en blanco?




- A. El 5 de corazones
- B. El K de corazones
- C. El 6 de corazones
- D. La J de corazones

58.

www.riolearning.com

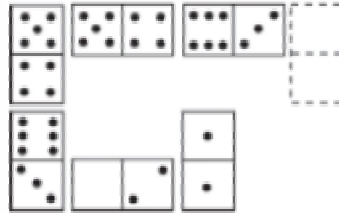
Señalar, de entre las propuestas, qué figura completa cada una de las series.



59.

www.riolearning.com

Elegir, de entre las opciones propuestas, la que completa la serie:



A. 0/2

C. 5/4

B. 1/2

D. 0/3

60.

www.riolearning.com

Señalar el número que sigue en cada serie de entre las soluciones propuestas.

7 - 9 - 5 - 6 - 8 - 4 - 5 - 7 -

A. 4

B. 9


C. 3

D. 6

61.

www.riolearning.com

Elija la que continua la serie.




- A. 12 de picas
- B. 10 de picas
- C. 3 diamantes
- D. 11 de corazones

62.

www.riolearning.com

En este prueba se trata de completar las series con las figuras de domino, eligiendo de las cuatro opciones que se les da ¿cuál es la correcta?



- A. 1-4
- B. 4-3
- C. 3-4
- D. 2-4

63.

www.riolearning.com

Señalar el número que sigue en cada serie de entre las soluciones propuestas.


6 - 7 - 6 - 8 - 7 - 7 - 7 - 8 - 8 - 7 -

- A. 8
- B. 7
- C. 9
- D. 6

64.

www.riolearning.com

Señalar, de entre las propuestas, qué figura completa cada una de las series.



A.



C.



B.



D.



65.

www.riolearning.com

Señalar, de entre las propuestas, qué figura falta en cada una de las series.



A.



C.



E.



B.



D.


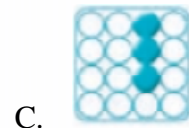

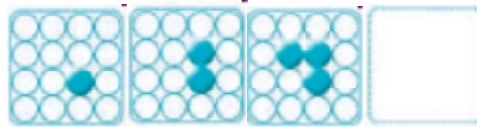


66. www.riolearning.com
 Señalar, de entre las propuestas, la letra que sigue en cada serie. (En este test no cuentan las letras CH, LL, W).

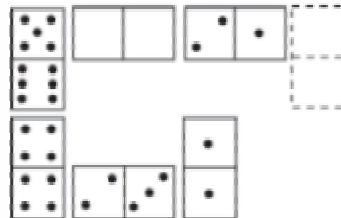
b - z - u - o - h -

- A. x
- B. v
- C. y
- D. z

67. www.riolearning.com
 Señalar, de entre las propuestas, qué figura completa cada una de las series.



68. www.riolearning.com
 Elegir, de entre las opciones propuestas, la que completa la serie:



- A. 2/2
- B. 3/4

- C. 3/3
- D. 1/3

69. www.riolearning.com

Señalar, de entre las propuestas, qué figura completa cada una de las series.



70. www.riolearning.com

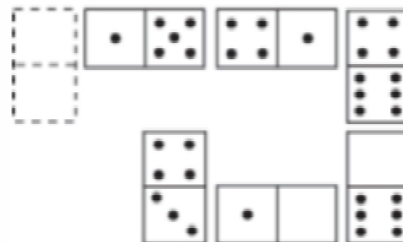
Señalar, de entre las propuestas, la letra que sigue en cada serie. (En este test no cuentan las letras CH, LL, W).

v - u - t - r - q - p - n - m - l -

- A. k
- B. i
- C. c
- D. h

71. www.riolearning.com

Elegir, de entre las opciones propuestas, la que completa la serie:



- A. 2/0
- B. 1/1
- C. 3/2
- D. 5/1

72. www.riolearning.com

Señalar el número que sigue en cada serie de entre las soluciones propuestas.


52 - 53 - 55 - 58 - 62 -

- A. 65
- B. 67
- C. 66
- D. 68

73.

www.riolearning.com

¿Qué carta continua la serie?




- A. 9 de diamantes
- B. As de picas
- C. As de tréboles
- D. 9 de corazones

74.

www.riolearning.com

En este prueba se trata de completar las series con las figuras de domino, eligiendo de las cuatro opciones que se les da ¿cuál es la correcta?




- A. Blanca-4
- B. 4-blanca
- C. 4-6
- D. 6-4

75.

www.riolearning.com

Señalar, de entre las propuestas, qué figura falta en cada una de las series.



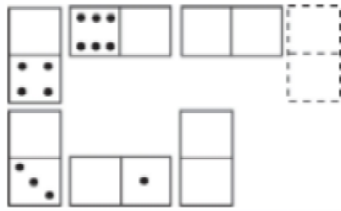
- A.
- B.

- C.
- D.

- E.

76. www.riolearning.com


Elegir, de entre las opciones propuestas, la que completa la serie:



- A. 1/0
- B. 1/1
- C. 2/0
- D. 0/0

77. www.riolearning.com

Señalar, de entre las propuestas, qué figura completa cada una de las series.



- A. 
- B. 
- C. 
- D. 

78. www.riolearning.com

Señalar, de entre las propuestas, la letra que sigue en cada serie. (En este test no cuentan las letras CH, LL, W).

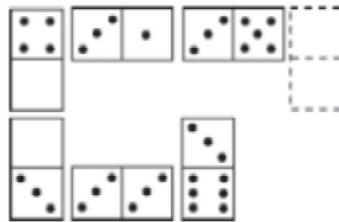
d - g - k - o -

- A. p
- B. u
- C. t
- D. s

79.

www.riolearning.com

Elegir, de entre las opciones propuestas, la que completa la serie:



- A. 3/2
- B. 4/2
- C. 3/5
- D. 3/3

80.

www.riolearning.com

Señalar, de entre las propuestas, la letra que sigue en cada serie. (En este test no cuentan las letras CH, LL, W).

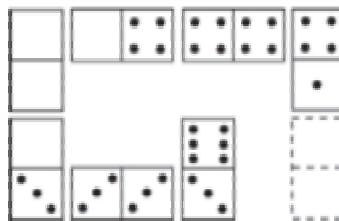
m - n - o - p - q - s - t - u - v -

- A. y
- B. z
- C. m
- D. x

81.

www.riolearning.com

Elegir, de entre las opciones propuestas, la que completa la serie:



- A. 1/4
- B. 1/5
- C. 4/4
- D. 1/1

82.

www.riolearning.com

Señalar el número que sigue en cada serie de entre las soluciones propuestas.

14 - 15 - 16 - 15 - 16 - 17 - 16 - 17 - 18 -

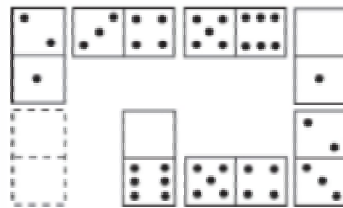
- A. 14
- B. 15
- C. 19
- D. 17

83. www.riolearning.com
 Señalar, de entre las propuestas, la letra que sigue en cada serie. (En este test no cuentan las letras CH, LL, W).

d - h - f - i - h - l - j - m - l -

- A. j
- B. o
- C. k
- D. ñ

84. www.riolearning.com
 Elegir, de entre las opciones propuestas, la que completa la serie:



- A. 0/6
- B. 1/6
- C. 0/0
- D. 1/5

85. www.riolearning.com
 Señalar el número que sigue en cada serie de entre las soluciones propuestas.

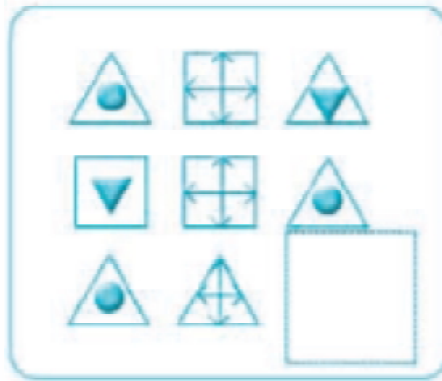
8 - 11 - 9 - 12 - 10 - 13 -

- A. 15
- B. 8
- C. 16
- D. 11

86.

www.riollearning.com

Señalar, de entre las propuestas, qué figura completa cada una de las series.



A.



C.



B.



D.



87.

www.riollearning.com

Señalar, de entre las propuestas, la letra que sigue en cada serie. (En este test no cuentan las letras CH, LL, W).

d - g - j - e - h - k - f -

- A. i
- B. c
- C. j
- D. g

88.

www.riollearning.com

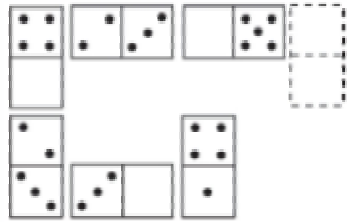
Señalar, de entre las propuestas, la letra que sigue en cada serie. (En este test no cuentan las letras CH, LL, W).

b - f - y - c - u - z -

- A. r
- B. d
- C. g
- D. u

89. www.riolearning.com

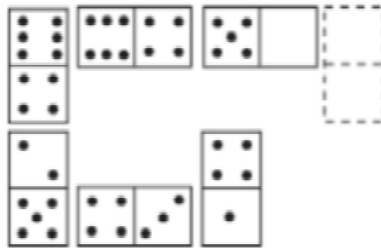
Elegir, de entre las opciones propuestas, la que completa la serie:



- A. $1/5$
- B. $2/3$
- C. $3/5$
- D. $1/4$

90. www.riolearning.com


Elegir, de entre las opciones propuestas, la que completa la serie:



- A. $6/5$
- B. $0/5$
- C. $2/6$
- D. $1/4$

91. www.riolearning.com

Señalar, de entre las propuestas, qué figura falta en cada una de las series.



- A. 
- B. 
- C. 
- D. 

92. www.riolearning.com
 Señalar, de entre las propuestas, la letra que sigue en cada serie. (En este test no cuentan las letras CH, LL, W).

c - c - c - d - e - c - c - f - g - h - c - c - c -

- A. j
- B. h
- C. i
- D. c

93. www.riolearning.com
 Señalar, de entre las propuestas, la letra que sigue en cada serie. (En este test no cuentan las letras CH, LL, W).

m - m - m - n - n - ñ - o - o - o - p - p

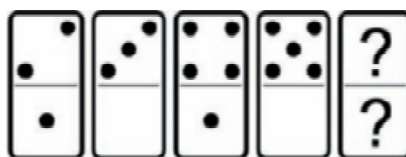
- A. q
- B. o
- C. m
- D. p

94. www.riolearning.com
 Señalar el número que sigue en cada serie de entre las soluciones propuestas.

27 - 28 - 29 - 25 - 24 - 30 - 31 - 32 - 23 - 22 -

- A. 32
- B. 33
- C. 23
- D. 21

95. www.riolearning.com
 En este prueba se trata de completar las series con las figuras de domino, eligiendo de las cuatro opciones que se les da ¿cuál es la correcta?




- A. 6-1
- B. 1-blanca
- C. 1-1
- D. Blanca-1

96.

www.riolearning.com

¿Qué 2 cartas faltan?





- A. Delante el 10 de picas y detrás la K de corazones
- B. Delante el 10 de corazones y detrás la K de tréboles
- C. Delante la K de diamantes y detrás el 10 de diamantes
- D. Ninguna es correcta



97.

www.riolearning.com

Señalar, de entre las propuestas, qué figura completa cada una de las series.



- A. 
- B. 

- C. 
- D. 

98.

www.riolearning.com

Señalar el número que sigue en cada serie de entre las soluciones propuestas.


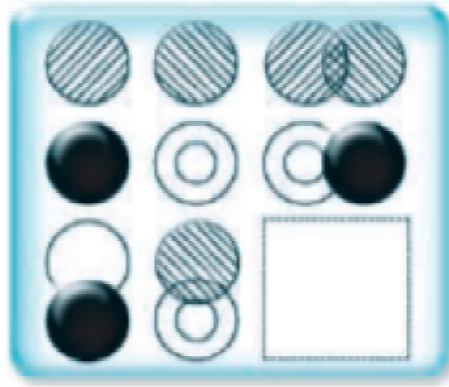
6 - 8 - 7 - 10 - 8 - 12 -

- A. 8
- B. 9
- C. 15
- D. 14

99.

www.riolearning.com

Señalar, de entre las propuestas, qué figura completa cada una de las series.



100.

www.riolearning.com

Señalar el número que sigue en cada serie de entre las soluciones propuestas.

20 - 22 - 25 - 28 - 30 - 33 - 36 - 38 -

- A. 42
- B. 41
- C. 39
- D. 40

Razonamiento Numérico
Answer Section**MULTIPLE CHOICE**

- | | |
|------------|--------|
| 1. ANS: A | PTS: 1 |
| 2. ANS: C | PTS: 1 |
| 3. ANS: C | PTS: 1 |
| 4. ANS: A | PTS: 1 |
| 5. ANS: C | PTS: 1 |
| 6. ANS: B | PTS: 1 |
| 7. ANS: A | PTS: 1 |
| 8. ANS: C | PTS: 1 |
| 9. ANS: D | PTS: 1 |
| 10. ANS: C | PTS: 1 |
| 11. ANS: D | PTS: 1 |
| 12. ANS: C | PTS: 1 |
| 13. ANS: B | PTS: 1 |
| 14. ANS: B | PTS: 1 |
| 15. ANS: B | PTS: 1 |
| 16. ANS: C | PTS: 1 |
| 17. ANS: A | PTS: 1 |
| 18. ANS: A | PTS: 1 |
| 19. ANS: B | PTS: 1 |
| 20. ANS: C | PTS: 1 |
| 21. ANS: A | PTS: 1 |
| 22. ANS: B | PTS: 1 |
| 23. ANS: C | PTS: 1 |
| 24. ANS: B | PTS: 1 |
| 25. ANS: B | PTS: 1 |
| 26. ANS: A | PTS: 1 |
| 27. ANS: A | PTS: 1 |
| 28. ANS: D | PTS: 1 |
| 29. ANS: D | PTS: 1 |
| 30. ANS: B | PTS: 1 |
| 31. ANS: D | PTS: 1 |
| 32. ANS: D | PTS: 1 |
| 33. ANS: C | PTS: 1 |
| 34. ANS: A | PTS: 1 |
| 35. ANS: B | PTS: 1 |
| 36. ANS: D | PTS: 1 |
| 37. ANS: C | PTS: 1 |
| 38. ANS: A | PTS: 1 |
| 39. ANS: C | PTS: 1 |
| 40. ANS: B | PTS: 1 |

41.	ANS: B	PTS: 1
42.	ANS: A	PTS: 1
43.	ANS: C	PTS: 1
44.	ANS: A	PTS: 1
45.	ANS: B	PTS: 1
46.	ANS: A	PTS: 1
47.	ANS: D	PTS: 1
48.	ANS: A	PTS: 1
49.	ANS: C	PTS: 1
50.	ANS: B	PTS: 1
51.	ANS: B	PTS: 1
52.	ANS: A	PTS: 1
53.	ANS: B	PTS: 1
54.	ANS: C	PTS: 1
55.	ANS: A	PTS: 1
56.	ANS: C	PTS: 1
57.	ANS: C	PTS: 1
58.	ANS: D	PTS: 1
59.	ANS: A	PTS: 1
60.	ANS: C	PTS: 1
61.	ANS: C	PTS: 1
62.	ANS: A	PTS: 1
63.	ANS: A	PTS: 1
64.	ANS: A	PTS: 1
65.	ANS: C	PTS: 1
66.	ANS: A	PTS: 1
67.	ANS: A	PTS: 1
68.	ANS: C	PTS: 1
69.	ANS: A	PTS: 1
70.	ANS: D	PTS: 1
71.	ANS: D	PTS: 1
72.	ANS: B	PTS: 1
73.	ANS: B	PTS: 1
74.	ANS: C	PTS: 1
75.	ANS: B	PTS: 1
76.	ANS: C	PTS: 1
77.	ANS: D	PTS: 1
78.	ANS: B	PTS: 1
79.	ANS: A	PTS: 1
80.	ANS: A	PTS: 1
81.	ANS: D	PTS: 1
82.	ANS: D	PTS: 1
83.	ANS: B	PTS: 1
84.	ANS: A	PTS: 1
85.	ANS: D	PTS: 1

86.	ANS: D	PTS: 1
87.	ANS: A	PTS: 1
88.	ANS: A	PTS: 1
89.	ANS: D	PTS: 1
90.	ANS: B	PTS: 1
91.	ANS: A	PTS: 1
92.	ANS: C	PTS: 1
93.	ANS: A	PTS: 1
94.	ANS: B	PTS: 1
95.	ANS: A	PTS: 1
96.	ANS: D	PTS: 1
97.	ANS: B	PTS: 1
98.	ANS: B	PTS: 1
99.	ANS: A	PTS: 1
100.	ANS: B	PTS: 1

Anexo

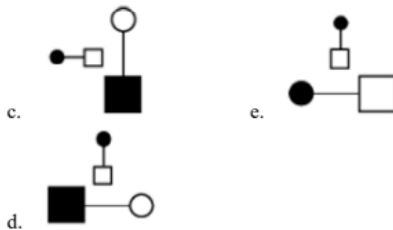
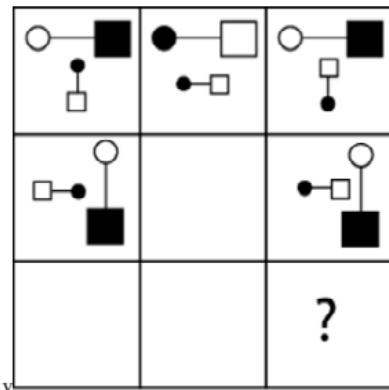
TAE20_001_001 ID:A

Modelo de Examen de Acceso a la Educación Superior

TAE20_001_001 ID: A

www.riolcarning.com

¿qué falta?



En la parte superior derecha del documento se muestra un código que indica el tipo de examen, número de preguntas y el ID del TEST (se cuenta con cuatro A, B, C, D)

Esta información te permitirá buscar el solucionario.

El solucionario lo puedes encontrar en nuestras redes sociales o en la página www.multimevi.com en la sección DESCARGAS

Aula virtual

www.riolearning.com



Ejercicios Acceso a la Educación Superior tiene licencia [CC BY-NC 4.0](https://creativecommons.org/licenses/by-nc/4.0/) © 2 por EdFr@MeVi



Forma

Test Version

--	--	--	--	--	--	--	--	--	--

Nombre: _____

Asignatura: _____

Fecha: _____

A

B

C

D

0 0 0 0 0 0 0 0 0

1 1 1 1 1 1 1 1 1

2 2 2 2 2 2 2 2 2

3 3 3 3 3 3 3 3 3

4 4 4 4 4 4 4 4 4

5 5 5 5 5 5 5 5 5

6 6 6 6 6 6 6 6 6

7 7 7 7 7 7 7 7 7

8 8 8 8 8 8 8 8 8

9 9 9 9 9 9 9 9 9

Cédula - Código

Ejemplo

A B C D E

Calificación

- Utilice lápiz para marcar la respuesta.
- Marque un círculo completo
- Borre completamente el círculo para marcar una nueva respuesta

1 A B C D E

2 A B C D E

3 A B C D E

4 A B C D E

5 A B C D E

6 A B C D E

7 A B C D E

8 A B C D E

9 A B C D E

10 A B C D E

11 A B C D E

12 A B C D E

13 A B C D E

14 A B C D E

15 A B C D E

16 A B C D E

17 A B C D E

18 A B C D E

19 A B C D E

20 A B C D E

21 A B C D E

22 A B C D E

23 A B C D E

24 A B C D E

25 A B C D E

26 A B C D E

27 A B C D E

28 A B C D E

29 A B C D E

30 A B C D E

31 A B C D E

32 A B C D E

33 A B C D E

34 A B C D E

35 A B C D E

36 A B C D E

37 A B C D E

38 A B C D E

39 A B C D E

40 A B C D E

41 A B C D E

42 A B C D E

43 A B C D E

44 A B C D E

45 A B C D E

46 A B C D E

47 A B C D E

48 A B C D E

49 A B C D E

50 A B C D E

51 A B C D E

52 A B C D E

53 A B C D E

54 A B C D E

55 A B C D E

56 A B C D E

57 A B C D E

58 A B C D E

59 A B C D E

60 A B C D E

61 A B C D E

62 A B C D E

63 A B C D E

64 A B C D E

65 A B C D E

66 A B C D E

67 A B C D E

68 A B C D E

69 A B C D E

70 A B C D E

71 A B C D E

72 A B C D E

73 A B C D E

74 A B C D E

75 A B C D E

76 A B C D E

77 A B C D E

78 A B C D E

79 A B C D E

80 A B C D E

81 A B C D E

82 A B C D E

83 A B C D E

84 A B C D E

85 A B C D E

86 A B C D E

87 A B C D E

88 A B C D E

89 A B C D E

90 A B C D E

91 A B C D E

92 A B C D E

93 A B C D E

94 A B C D E

95 A B C D E

96 A B C D E

97 A B C D E

98 A B C D E

99 A B C D E

100 A B C D E



ENLACE	DETALLE	QR
http://www.multimevi.com/	Página web MULTIMEVI, donde encontrarás noticias y recursos	
https://t.me/+Klr3YaM42_ZhZTIx	Grupo de apoyo en TELEGRAM	
https://chat.whatsapp.com/IQuCCcZjtLjIkLfgzXo68Y	<u>GRUPO DE WHATSAPP</u>	
https://whatsapp.com/channel/0029VaBB2zQHwXb5Vhn9Yw1W	Canal de noticias WhatsApp	
https://www.facebook.com/multimevi.ec/	Perfil de facebook	
https://www.facebook.com/groups/multimevi	Grupo FULL Rectivos	
https://www.tiktok.com/@multimevi	Canal de TIK TOK	
https://www.instagram.com/multimevi.ec/	Canal de Instagram	
https://twitter.com/multimevi	Red X	

Modelo P

Plataforma MOODLE

 www.riolearning.com

Página Web



www.multimevi.com

Redes Sociales



Procesos



ACCESO a la Educación Superior
SENESCYT

QUIERO SER MAESTRO
Ministerio de Educación