



Razonamiento Matemático

Preguntas modelo
examen de acceso a la educación superior



ACCESO a la Educación Superior
SENESCYT

QUIERO SER MAESTRO
Ministerio de Educación

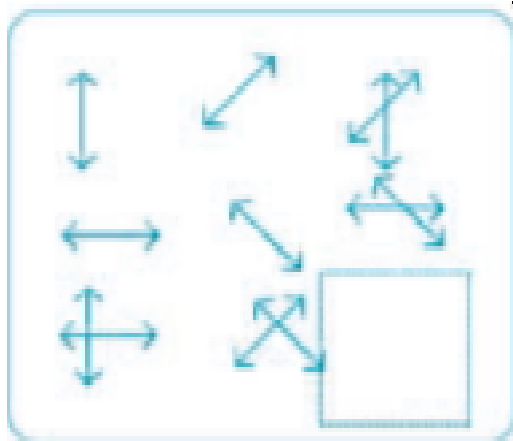
RAZONAMIENTO MATEMATICO





Opción Múltiple

Elige la opción que complete mejor el enunciado o que responda mejor a la pregunta.

1. www.riolearning.com

Señalar, de entre las propuestas, qué figura completa cada una de las series.



- a. 
- b. 
- c. 
- d. 

2. www.riolearning.com

Señalar, de entre las propuestas, la letra que sigue en cada serie. (En este test no cuentan las letras CH, LL, W).

s - t - u - h - i - j - s - t - u - k - l - m - s - t - u -


- a. n
- b. g
- c. ñ
- d. v

3. www.riolearning.com
 Señalar el número que sigue en cada serie de entre las soluciones propuestas.

29 - 32 - 35 -


- a. 42
- b. 37
- c. 38
- d. 40

4. www.riolearning.com
 Elija la que continua la serie.



- a. 12 de picas
- b. 10 de picas
- c. 11 de corazones
- d. 3 diamantes


5. www.riolearning.com
 En este prueba se trata de completar las series con las figuras de domino, eligiendo de las cuatro opciones que se les da ¿cuál es la correcta?



- a. Blanca-1
- b. 5-5
- c. 6-5
- d. Blanca-5

6. www.riolearning.com


En este prueba se trata de completar las series con las figuras de domino, eligiendo de las cuatro opciones que se les da ¿cuál es la correcta?



- a. 4-blanca
- b. Blanca-4
- c. 6-4
- d. 4-6

7. www.riolearning.com

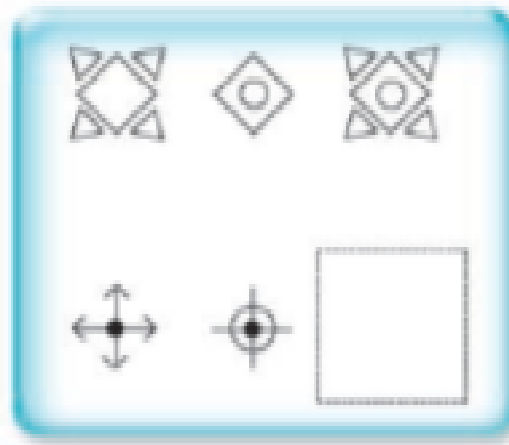
Continúa la serie



- a. 6 de diamantes
- b. As de picas
- c. 6 de corazones
- d. Ninguna es correcta

8. www.riolearning.com

Señalar, de entre las propuestas, qué figura falta en cada una de las series.



a.




b.



c.

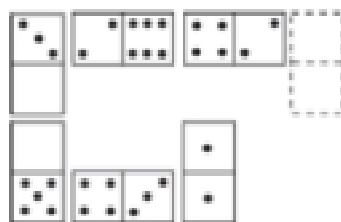


d.



9. www.riolearning.com

Elegir, de entre las opciones propuestas, la que completa la serie:



- a. 6/5
- b. 5/4
- c. 1/3
- d. 0/5





10.  Señalar el número que sigue en cada serie de entre las soluciones propuestas.

15 - 14 - 17 - 12 - 11 - 14 -

- a. 15
- b. 17
- c. 9
- d. 11

11.  Señalar, de entre las propuestas, qué figura completa cada una de las series.



- a. 
- b. 
- c. 
- d. 

12.  Señalar el número que sigue en cada serie de entre las soluciones propuestas.

9 - 8 - 10 - 7 - 6 - 8 - 5 - 4 -


- a. 8
- b. 1
- c. 7
- d. 6





13. www.riolearning.com
 Señalar, de entre las propuestas, la letra que sigue en cada serie. (En este test no cuentan las letras CH, LL, W).

f - h - l - n - q -

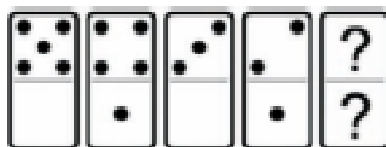
- a. s
- b. t
- c. p
- d. u

14. www.riolearning.com
 Señalar, de entre las propuestas, qué figura completa cada una de las series.



- a. 
- b. 
- c. 
- d. 


15. www.riolearning.com
 En este prueba se trata de completar las series con las figuras de domino, eligiendo de las cuatro opciones que se les da ¿cuál es la correcta?



- a. 2-blanca
- b. Blanca-1
- c. 1-1
- d. 1-blanca

16. www.riolearning.com

Señalar, de entre las propuestas, qué figura completa cada una de las series.



a.



b.



c.

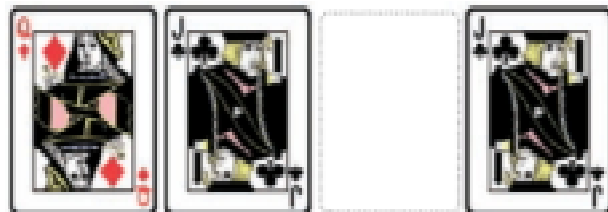


d.



17. www.riolearning.com


Continúa la serie



- a. La J de tréboles
- b. La Q de corazones
- c. La J de picas
- d. La Q de picas

18. www.riolearning.com

Continúa la serie



- a. 6 de diamantes
- b. 6 de corazones
- c. Ninguna es correcta
- d. 6 de tréboles

19. www.riolearning.com

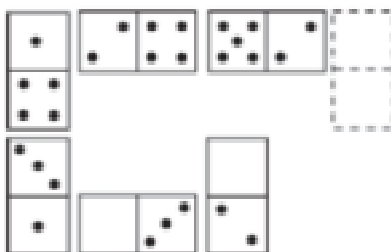
Señalar, de entre las propuestas, la letra que sigue en cada serie. (En este test no cuentan las letras CH, LL, W).

b - d - h - n - u -

- a. y
- b. c
- c. z
- d. f

20. www.riolearning.com

Elegir, de entre las opciones propuestas, la que completa la serie:



- a. $\frac{4}{3}$
- b. $\frac{3}{5}$
- c. $\frac{2}{0}$
- d. $\frac{3}{6}$

21. www.riolearning.com


Señalar, de entre las propuestas, la letra que sigue en cada serie. (En este test no cuentan las letras CH, LL, W).





g - h - n - ñ - t - u -

- a. c
- b. x
- c. b
- d. g

22. www.riolearning.com

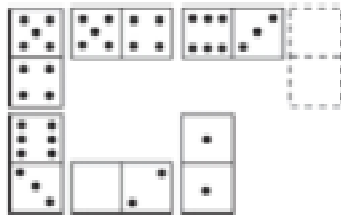
Señalar, de entre las propuestas, qué figura falta en cada una de las series.



- a. 
- b. 
- c. 
- d. 

23. www.riolearning.com

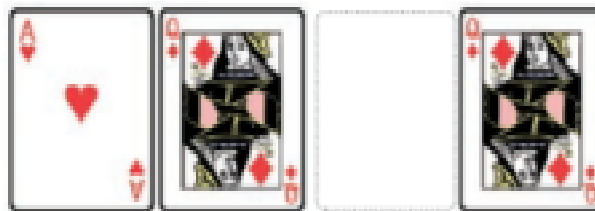
Elegir, de entre las opciones propuestas, la que completa la serie:



- a. 1/2
- b. 0/2
- c. 5/4
- d. 0/3

24. www.riolearning.com

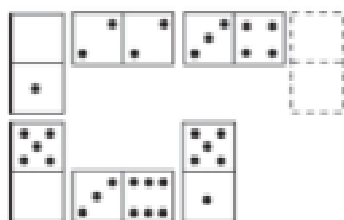
Elija la que continua la serie.



- a. La J de picas
- b. La Q de corazones
- c. La Q de picas
- d. El As de corazones

25. www.riolearning.com

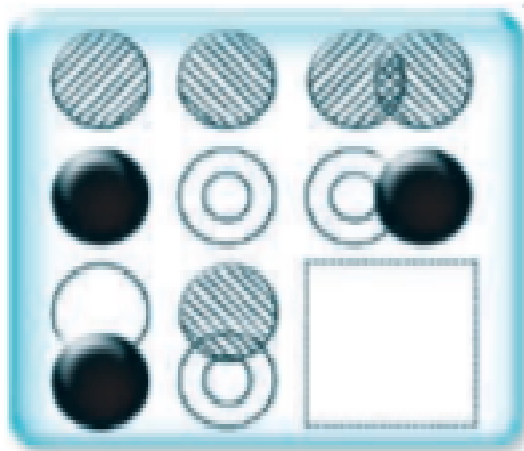
Elegir, de entre las opciones propuestas, la que completa la serie:







- a. 5/6
- b. 4/6
- c. 3/0
- d. 4/5

26. www.riolearning.com

Señalar, de entre las propuestas, qué figura completa cada una de las series.



- a. 
- b. 
- c. 
- d. 

27. www.riolearning.com

Señalar el número que sigue en cada serie de entre las soluciones propuestas.

14 - 15 - 16 - 15 - 16 - 17 - 16 - 17 - 18 -

- a. 14
- b. 19
- c. 17
- d. 15

28. www.riolearning.com


Señalar, de entre las propuestas, la letra que sigue en cada serie. (En este test no cuentan las letras CH, LL, W).

b - z - u - o - h -

- a. y
- b. z
- c. v
- d. x

29. www.riolearning.com

En este prueba se trata de completar las series con las figuras de domino, eligiendo de las cuatro opciones que se les da ¿cuál es la correcta?



- a. Ninguna es correcta
- b. 2-4
- c. 3-3
- d. 2-3

30. www.riolearning.com

Señalar, de entre las propuestas, la letra que sigue en cada serie. (En este test no cuentan las letras CH, LL, W).

m - m - ñ - p - p - r - t -

- a. u
- b. s
- c. v
- d. t

31. www.riolearning.com

Señalar el número que sigue en cada serie de entre las soluciones propuestas.

8 - 11 - 9 - 12 - 10 - 13 -

- a. 16
- b. 11
- c. 8
- d. 15

32. www.riolearning.com

Señalar, de entre las propuestas, la letra que sigue en cada serie. (En este test no cuentan las letras CH, LL, W).

l - n - j - l - h - j - f - h -

- a. j
- b. i
- c. c
- d. d



33. www.riolearning.com


Señalar, de entre las propuestas, la letra que sigue en cada serie. (En este test no cuentan las letras CH, LL, W).

k - t - e -

- a. z
- b. l
- c. ñ
- d. s

34. www.riolearning.com


Continúe la serie



- a. El 3 de tréboles
- b. El As de picas
- c. El As de corazones
- d. El 2 de diamantes

35. www.riolearning.com


¿Qué carta continua la serie?



- a. El As de diamantes
- b. El As de corazones
- c. El As de tréboles
- d. El As de picas

36. www.riolearning.com

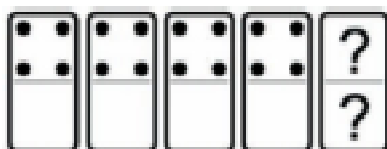
¿Qué carta pondría en el hueco en blanco?



- a. Ninguna es correcta.
- b. El 6 de corazones
- c. El 4 de corazones
- d. El 5 de corazones

37. www.riolearning.com

En este prueba se trata de completar las series con las figuras de domino, eligiendo de las cuatro opciones que se les da ¿cuál es la correcta?



- a. Blanca-4
- b. Blanca-1
- c. 4-blanca
- d. 4-1

38. www.riolearning.com

Señalar, de entre las propuestas, la letra que sigue en cada serie. (En este test no cuentan las letras CH, LL, W).

c - c - c - d - e - c - c - f - g - h - c - c - c -

- a. h
- b. i
- c. j
- d. c

39. www.riolearning.com

Señalar, de entre las propuestas, la letra que sigue en cada serie. (En este test no cuentan las letras CH, LL, W).


f - n - t - a -





- a. z
- b. d
- c. g
- d. f

40.

www.riolearning.com

Señalar, de entre las propuestas, qué figura completa cada una de las series.

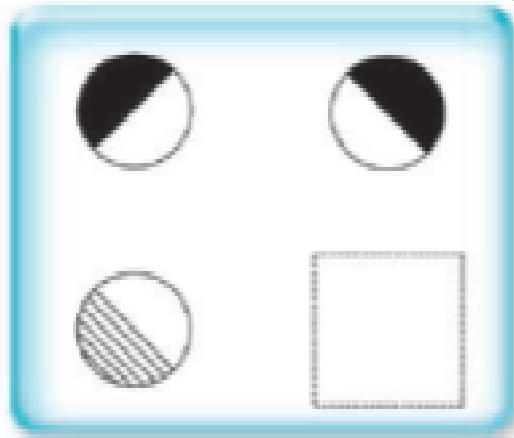


- a. 
- b. 
- c. 
- d. 

41.

www.riolearning.com

Señalar, de entre las propuestas, qué figura falta en cada una de las series.



a.



b.



c.



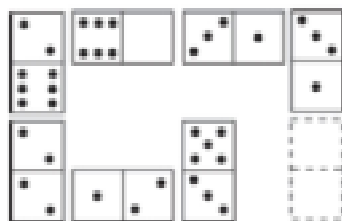
d.



42.

www.riolearning.com

Elegir, de entre las opciones propuestas, la que completa la serie:



a. 0/6

b. 3/6


c. 1/3

d. 2/0

43.

www.riolearning.com

Elija la que continua la serie.

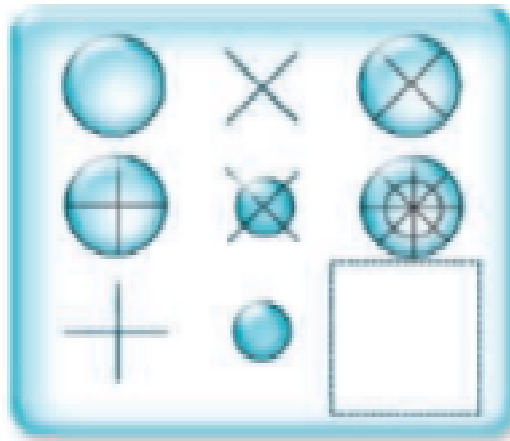


- a. J de picas
- b. J de corazones
- c. Q de picas
- d. Ninguna de las anteriores es correcta.


44.

www.riolearning.com

Señalar, de entre las propuestas, qué figura completa cada una de las series.



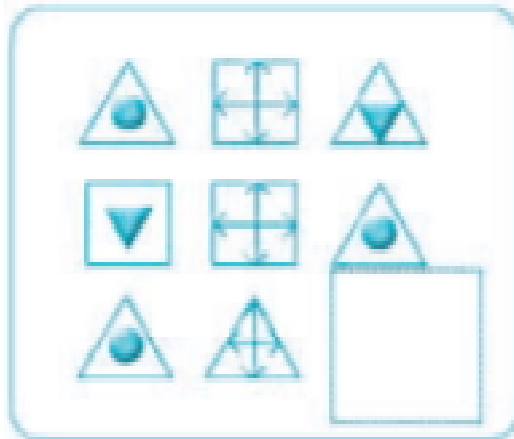
- a.
- b.
- c.
- d.



45.

www.riolearning.com

Señalar, de entre las propuestas, qué figura completa cada una de las series.



a.



b.



c.



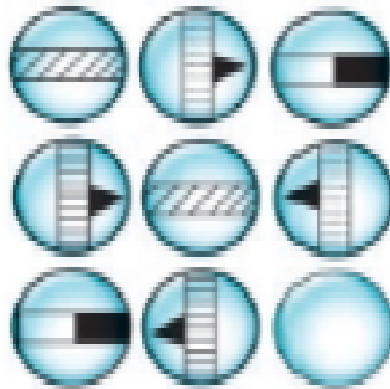
d.



46.

www.riolearning.com

Señalar, de entre las propuestas, qué figura falta en cada una de las series.



a.



b.



c.



d.




e.



47.

www.riolearning.com

Elegir, de entre las opciones propuestas, la que completa la serie:




a. $3/5$

b. $1/4$

c. $2/3$

d. $1/5$

48.  Señalar, de entre las propuestas, la letra que sigue en cada serie. (En este test no cuentan las letras CH, LL, W).

i - b - k - z - m - x

- a. u
- b. n
- c. ñ
- d. v

49.  Señalar el número que sigue en cada serie de entre las soluciones propuestas.

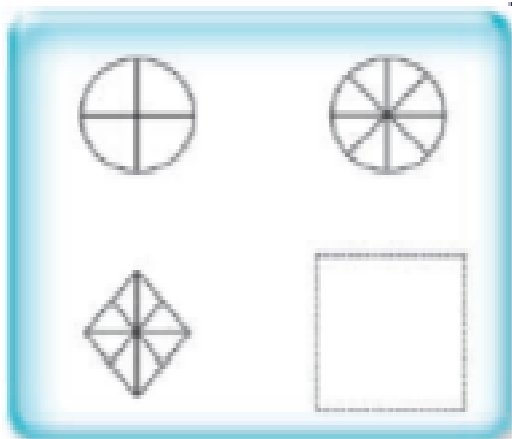
20 - 22 - 25 - 28 - 30 - 33 - 36 - 38 -

- a. 41
- b. 39
- c. 42
- d. 40


50.

www.riolearning.com

Señalar, de entre las propuestas, qué figura falta en cada una de las series.



a.



b.



c.




d.



51.

www.riolearning.com

¿Qué carta continua la serie?



a. 9 de diamantes

b. 9 de picas


c. Ninguna de las anteriores es correcta

d. 9 de corazones

52. www.riolearning.com

DOMINÓ

En esta prueba se trata de completar las series con las figuras de domino, eligiendo de las cuatro opciones que se les da ¿cuál es la correcta?



- a. 4-4
- b. 4-5
- c. 5-5
- d. 5-4

53. www.riolearning.com

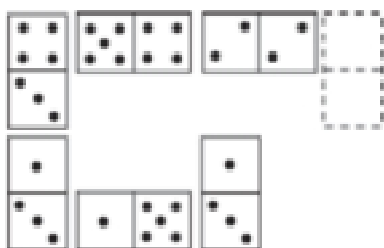
Señalar el número que sigue en cada serie de entre las soluciones propuestas.

12 - 13 - 16 - 17 - 20 - 21 -

- a. 25
- b. 22
- c. 24
- d. 27

54. www.riolearning.com

Elegir, de entre las opciones propuestas, la que completa la serie:



- a. 6/3
- b. 1/4
- c. 6/2
- d. 5/4

55. www.riolearning.com

Señalar el número que sigue en cada serie de entre las soluciones propuestas.

52 - 53 - 55 - 58 - 62 -

- a. 68
- b. 66
- c. 67
- d. 65

56. www.riolearning.com

Señalar, de entre las propuestas, la letra que sigue en cada serie. (En este test no cuentan las letras CH, LL, W).

d - g - k - o -

- a. u
- b. s
- c. t
- d. p

57. www.riolearning.com

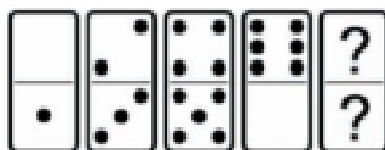
Señalar, de entre las propuestas, la letra que sigue en cada serie. (En este test no cuentan las letras CH, LL, W).

o - t - y - b -

- a. d
- b. c
- c. f
- d. z

58. www.riolearning.com

En este prueba se trata de completar las series con las figuras de domino, eligiendo de las cuatro opciones que se les da ¿cuál es la correcta?



- a. Blanca-1
- b. 1-2
- c. 2-1
- d. 1-blanca

59. www.riolearning.com

Señalar, de entre las propuestas, la letra que sigue en cada serie. (En este test no cuentan las letras CH, LL, W).

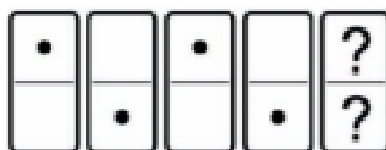
m - n - o - p - q - s - t - u - v -

- a. m
- b. x
- c. y
- d. z

60.

www.riolearning.com

En este prueba se trata de completar las series con las figuras de domino, eligiendo de las cuatro opciones que se les da ¿cuál es la correcta?




- a. Blanca-1
- b. 1-1
- c. 1-blanca
- d. Blanca-blanca

61.

www.riolearning.com

Señalar, de entre las propuestas, qué figura falta en cada una de las series.



- a.
- b.
- c.
- d.
- e.

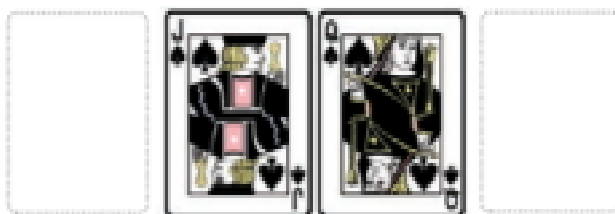
62. www.riolearning.com
 Señalar el número que sigue en cada serie de entre las soluciones propuestas.

5 - 10 - 12 - 36 -

- a. 35
- b. 39
- c. 38
- d. 40



63. www.riolearning.com
 ¿Qué 2 cartas faltan?



- a. Delante la K de diamantes y detrás el 10 de diamantes
- b. Delante el 10 de corazones y detrás la K de tréboles
- c. Delante el 10 de picas y detrás la K de corazones
- d. Ninguna es correcta


64. www.riolearning.com
 Señalar, de entre las propuestas, la letra que sigue en cada serie. (En este test no cuentan las letras CH, LL, W).





j - r - l - t - n - v -

- a. p
- b. o
- c. y
- d. q

65. www.riolearning.com

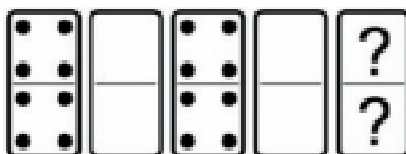
Señalar, de entre las propuestas, qué figura completa cada una de las series.



- a. 
- b. 
- c. 
- d. 

66. www.riolearning.com

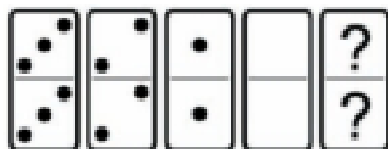
En este prueba se trata de completar las series con las figuras de domino, eligiendo de las cuatro opciones que se les da ¿cuál es la correcta?



- a. 2-4
- b. 3-3
- c. 4-4
- d. Blanca-blanca

67. www.riolearning.com

En este prueba se trata de completar las series con las figuras de domino, eligiendo de las cuatro opciones que se les da ¿cuál es la correcta?



- a. Ninguna es correcta
- b. 5-5
- c. 5-4
- d. 4-5

68. www.riolearning.com


Señalar el número que sigue en cada serie de entre las soluciones propuestas.

22 - 21 - 20 - 18 - 17 - 16 - 14 - 13 - 12 -

- a. 11
- b. 10
- c. 6
- d. 8

69. www.riolearning.com

¿Qué carta continua la serie?



- a. 9 de diamantes
- b. As de tréboles
- c. As de picas
- d. 9 de corazones

70. www.riolearning.com

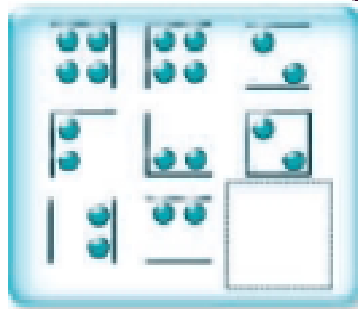
Señalar, de entre las propuestas, la letra que sigue en cada serie. (En este test no cuentan las letras CH, LL, W).





r - g - p - e - ñ - c -

- a. n
- b. a
- c. m
- d. k

71. www.riolearning.com

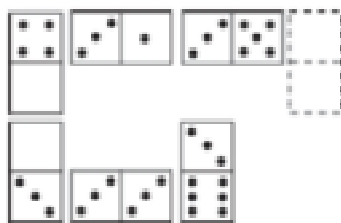
Señalar, de entre las propuestas, qué figura completa cada una de las series.



- a. 
- b. 
- c. 
- d. 

72. www.riolearning.com

Elegir, de entre las opciones propuestas, la que completa la serie:









- a. 4/2
- b. 3/5
- c. 3/2
- d. 3/3

73.

www.riolearning.com

Señalar, de entre las propuestas, qué figura falta en cada una de las series.

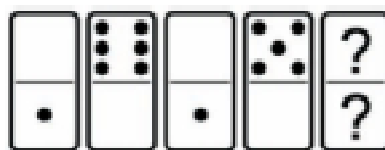


- a. 
- b. 
- c. 
- d. 
- e. 

74.

www.riolearning.com

En este prueba se trata de completar las series con las figuras de domino, eligiendo de las cuatro opciones que se les da ¿cuál es la correcta?




- a. 2-1
- b. 1-1
- c. 1-blanca
- d. Blanca-1

75.

www.riolearning.com

Elija la que continua la serie.




- a. 11 de picas
- b. 10 de picas
- c. 11 de corazones
- d. 12 de picas

76.

www.riolearning.com

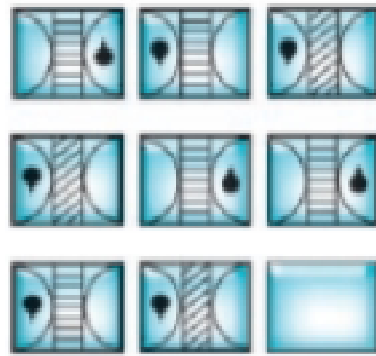
¿Qué carta continua la serie?








- a. El 3 de corazones
- b. El 3 de diamantes
- c. El 2 de corazones
- d. El 2 de diamantes

77. www.riolearning.com

Señalar, de entre las propuestas, qué figura falta en cada una de las series.



- a. 
- b. 
- c. 
- d. 
- e. 

78. www.riolearning.com

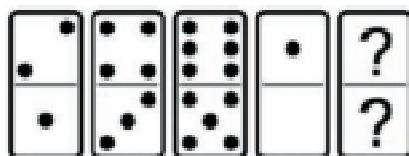
Señalar, de entre las propuestas, la letra que sigue en cada serie. (En este test no cuentan las letras CH, LL, W).

b - f - y - c - u - z -

- a. g
- b. u
- c. d
- d. r

79. www.riolearning.com

En este prueba se trata de completar las series con las figuras de domino, eligiendo de las cuatro opciones que se les da ¿cuál es la correcta?



- a. 2-2
- b. 1-1
- c. Blanca-blanca
- d. 3-2

80. www.riolearning.com

Señalar, de entre las propuestas, la letra que sigue en cada serie. (En este test no cuentan las letras CH, LL, W).

v - c - h - x - d - i - y - e -

- a. k
- b. z
- c. f
- d. j

81. www.riolearning.com

Señalar el número que sigue en cada serie de entre las soluciones propuestas.

47 - 48 - 46 - 47 - 45 -

- a. 43
- b. 41
- c. 46
- d. 47

82. www.riolearning.com


Señalar, de entre las propuestas, la letra que sigue en cada serie. (En este test no cuentan las letras CH, LL, W).

m - m - m - n - n - ñ - o - o - o - p - p

- a. m
- b. o
- c. p
- d. q

83. www.riolearning.com

¿Qué carta continua la serie?



- a. El 10 de diamantes
- b. El 10 de picas
- c. El 8 de corazones
- d. El 10 de corazones

84. www.riolearning.com


Señalar el número que sigue en cada serie de entre las soluciones propuestas.

62 - 58 - 55 - 53 -

- a. 49
- b. 47
- c. 52
- d. 50

85. www.riolearning.com

Continua la serie



- a. 3 de diamantes
- b. K de picas
- c. 4 de diamantes
- d. 3 de corazones

86. www.riolearning.com

Señalar el número que sigue en cada serie de entre las soluciones propuestas.

38 - 34 - 30 -

- a. 26
- b. 28
- c. 32
- d. 29

87. www.riolearning.com

Señalar el número que sigue en cada serie de entre las soluciones propuestas.


50 - 15 - 40 - 25 - 30 - 35 -

- a. 40
- b. 20
- c. 45
- d. 30



88. www.riolearning.com

Señalar, de entre las propuestas, qué figura completa cada una de las series.



- a.
- b.
- c.
- d.

89. www.riolearning.com

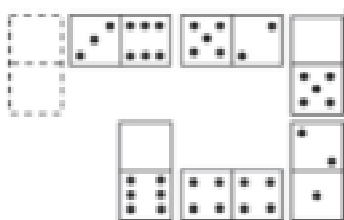
Señalar, de entre las propuestas, la letra que sigue en cada serie. (En este test no cuentan las letras CH, LL, W).

p - q - p - r - s - p - t - u - v - p -

- a. y
- b. p
- c. x
- d. g

90. www.riolearning.com

Elegir, de entre las opciones propuestas, la que completa la serie:



- a. 3/1
- b. 4/2
- c. 3/0
- d. 2/0

91. www.riolearning.com

Señalar el número que sigue en cada serie de entre las soluciones propuestas.

11 - 15 - 19 - 23 -

- a. 30
- b. 27
- c. 29
- d. 25

92. www.riolearning.com

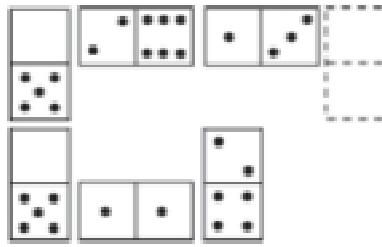
Señalar el número que sigue en cada serie de entre las soluciones propuestas.

20 - 21 - 22 - 3 - 23 - 24 - 25 - 4 -

- a. 27
- b. 26
- c. 2
- d. 5

93. www.riolearning.com


Elegir, de entre las opciones propuestas, la que completa la serie:



- a. 6/1
- b. 4/2
- c. 5/1
- d. 1/3

94. www.riolearning.com


Señalar, de entre las propuestas, qué figura completa cada una de las series.



- a.
- b.
- c.
- d.

95. www.riolearning.com


En este prueba se trata de completar las series con las figuras de domino, eligiendo de las cuatro opciones que se les da ¿cuál es la correcta?



- a. 1-2
- b. 1-blanca
- c. 5-Blanca
- d. Blanca-1

96. www.riolearning.com


En este prueba se trata de completar las series con las figuras de domino, eligiendo de las cuatro opciones que se les da ¿cuál es la correcta?



- a. Blanca-5
- b. 2-5
- c. 5-5
- d. 6-5

97. www.riolearning.com

Señalar, de entre las propuestas, qué figura completa cada una de las series.



- a.
- b.
- c.
- d.

98. www.riolearning.com

Señalar, de entre las propuestas, la letra que sigue en cada serie. (En este test no cuentan las letras CH, LL, W).

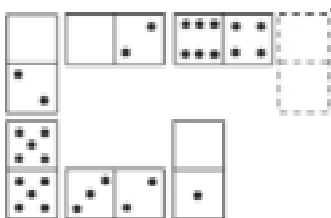
ñ - f - n - e - m - d - l - c -

- a. j
- b. k
- c. a
- d. b



99. www.riolearning.com

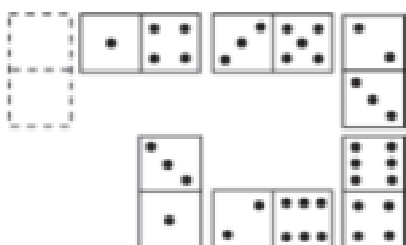
Elegir, de entre las opciones propuestas, la que completa la serie:



- a. 0/0
- b. 6/6
- c. 5/6
- d. 5/1

100. www.riolearning.com

Elegir, de entre las opciones propuestas, la que completa la serie:



- a. 5/1
- b. 4/0
- c. 6/1
- d. 1/1

RAZONAMIENTO MATEMATICO**Answer Section****MULTIPLE CHOICE**

- | | |
|------------|--------|
| 1. ANS: C | PTS: 1 |
| 2. ANS: A | PTS: 1 |
| 3. ANS: C | PTS: 1 |
| 4. ANS: D | PTS: 1 |
| 5. ANS: D | PTS: 1 |
| 6. ANS: D | PTS: 1 |
| 7. ANS: A | PTS: 1 |
| 8. ANS: C | PTS: 1 |
| 9. ANS: A | PTS: 1 |
| 10. ANS: C | PTS: 1 |
| 11. ANS: A | PTS: 1 |
| 12. ANS: D | PTS: 1 |
| 13. ANS: A | PTS: 1 |
| 14. ANS: D | PTS: 1 |
| 15. ANS: D | PTS: 1 |
| 16. ANS: B | PTS: 1 |
| 17. ANS: D | PTS: 1 |
| 18. ANS: C | PTS: 1 |
| 19. ANS: D | PTS: 1 |
| 20. ANS: B | PTS: 1 |
| 21. ANS: C | PTS: 1 |
| 22. ANS: D | PTS: 1 |
| 23. ANS: B | PTS: 1 |
| 24. ANS: D | PTS: 1 |
| 25. ANS: B | PTS: 1 |
| 26. ANS: B | PTS: 1 |
| 27. ANS: C | PTS: 1 |
| 28. ANS: D | PTS: 1 |
| 29. ANS: C | PTS: 1 |
| 30. ANS: D | PTS: 1 |
| 31. ANS: B | PTS: 1 |
| 32. ANS: D | PTS: 1 |
| 33. ANS: C | PTS: 1 |
| 34. ANS: D | PTS: 1 |
| 35. ANS: D | PTS: 1 |
| 36. ANS: D | PTS: 1 |
| 37. ANS: C | PTS: 1 |
| 38. ANS: B | PTS: 1 |
| 39. ANS: D | PTS: 1 |
| 40. ANS: A | PTS: 1 |

41.	ANS: D	PTS: 1
42.	ANS: A	PTS: 1
43.	ANS: D	PTS: 1
44.	ANS: A	PTS: 1
45.	ANS: D	PTS: 1
46.	ANS: E	PTS: 1
47.	ANS: B	PTS: 1
48.	ANS: C	PTS: 1
49.	ANS: A	PTS: 1
50.	ANS: C	PTS: 1
51.	ANS: C	PTS: 1
52.	ANS: B	PTS: 1
53.	ANS: C	PTS: 1
54.	ANS: D	PTS: 1
55.	ANS: C	PTS: 1
56.	ANS: A	PTS: 1
57.	ANS: A	PTS: 1
58.	ANS: B	PTS: 1
59.	ANS: C	PTS: 1
60.	ANS: C	PTS: 1
61.	ANS: D	PTS: 1
62.	ANS: B	PTS: 1
63.	ANS: D	PTS: 1
64.	ANS: C	PTS: 1
65.	ANS: A	PTS: 1
66.	ANS: C	PTS: 1
67.	ANS: A	PTS: 1
68.	ANS: B	PTS: 1
69.	ANS: C	PTS: 1
70.	ANS: C	PTS: 1
71.	ANS: C	PTS: 1
72.	ANS: C	PTS: 1
73.	ANS: B	PTS: 1
74.	ANS: D	PTS: 1
75.	ANS: A	PTS: 1
76.	ANS: D	PTS: 1
77.	ANS: B	PTS: 1
78.	ANS: D	PTS: 1
79.	ANS: D	PTS: 1
80.	ANS: D	PTS: 1
81.	ANS: C	PTS: 1
82.	ANS: D	PTS: 1
83.	ANS: B	PTS: 1
84.	ANS: C	PTS: 1
85.	ANS: B	PTS: 1

- | | | |
|------|--------|--------|
| 86. | ANS: A | PTS: 1 |
| 87. | ANS: B | PTS: 1 |
| 88. | ANS: D | PTS: 1 |
| 89. | ANS: C | PTS: 1 |
| 90. | ANS: A | PTS: 1 |
| 91. | ANS: B | PTS: 1 |
| 92. | ANS: B | PTS: 1 |
| 93. | ANS: D | PTS: 1 |
| 94. | ANS: D | PTS: 1 |
| 95. | ANS: C | PTS: 1 |
| 96. | ANS: B | PTS: 1 |
| 97. | ANS: D | PTS: 1 |
| 98. | ANS: B | PTS: 1 |
| 99. | ANS: B | PTS: 1 |
| 100. | ANS: C | PTS: 1 |





Forma

Test Version

--	--	--	--	--	--	--	--	--	--	--

Nombre: _____

Asignatura: _____

Fecha: _____

A

B

C

D

Cédula - Código

0 0 0 0 0 0 0 0 0

1 1 1 1 1 1 1 1 1

2 2 2 2 2 2 2 2 2

3 3 3 3 3 3 3 3 3

4 4 4 4 4 4 4 4 4

5 5 5 5 5 5 5 5 5

6 6 6 6 6 6 6 6 6

7 7 7 7 7 7 7 7 7

8 8 8 8 8 8 8 8 8

9 9 9 9 9 9 9 9 9

Ejemplo

A B C D E

Calificación

--

- Utilice lápiz para marcar la respuesta.
- Marque un círculo completo
- Borre completamente el círculo para marcar una nueva respuesta

1 A B C D E

2 A B C D E

3 A B C D E

4 A B C D E

5 A B C D E

6 A B C D E

7 A B C D E

8 A B C D E

9 A B C D E

10 A B C D E

11 A B C D E

12 A B C D E

13 A B C D E

14 A B C D E

15 A B C D E

16 A B C D E

17 A B C D E

18 A B C D E

19 A B C D E

20 A B C D E

21 A B C D E

22 A B C D E

23 A B C D E

24 A B C D E

25 A B C D E

26 A B C D E

27 A B C D E

28 A B C D E

29 A B C D E

30 A B C D E

31 A B C D E

32 A B C D E

33 A B C D E

34 A B C D E

35 A B C D E

36 A B C D E

37 A B C D E

38 A B C D E

39 A B C D E

40 A B C D E

41 A B C D E

42 A B C D E

43 A B C D E

44 A B C D E

45 A B C D E

46 A B C D E

47 A B C D E

48 A B C D E

49 A B C D E

50 A B C D E

51 A B C D E

52 A B C D E

53 A B C D E

54 A B C D E

55 A B C D E

56 A B C D E

57 A B C D E

58 A B C D E

59 A B C D E

60 A B C D E

61 A B C D E

62 A B C D E

63 A B C D E

64 A B C D E

65 A B C D E

66 A B C D E

67 A B C D E

68 A B C D E

69 A B C D E

70 A B C D E

71 A B C D E

72 A B C D E

73 A B C D E

74 A B C D E

75 A B C D E

76 A B C D E

77 A B C D E

78 A B C D E

79 A B C D E

80 A B C D E

81 A B C D E

82 A B C D E

83 A B C D E

84 A B C D E

85 A B C D E

86 A B C D E

87 A B C D E

88 A B C D E

89 A B C D E

90 A B C D E

91 A B C D E

92 A B C D E

93 A B C D E

94 A B C D E

95 A B C D E

96 A B C D E

97 A B C D E

98 A B C D E

99 A B C D E

100 A B C D E



ENLACE	DETALLE	QR
http://www.multimevi.com/	Página web MULTIMEVI, donde encontrarás noticias y recursos	
https://t.me/+Klr3YaM42_ZhZTIx	Grupo de apoyo en TELEGRAM	
https://chat.whatsapp.com/IQuCCcZjtLjIkLfgzXo68Y	<u>GRUPO DE WHATSAPP</u>	
https://whatsapp.com/channel/0029VaBB2zQHwXb5Vhn9Yw1W	Canal de noticias WhatsApp	
https://www.facebook.com/multimevi.ec/	Perfil de facebook	
https://www.facebook.com/groups/multimevi	Grupo FULL Rectivos	
https://www.tiktok.com/@multimevi	Canal de TIK TOK	
https://www.instagram.com/multimevi.ec/	Canal de Instagram	
https://twitter.com/multimevi	Red X	

Plataforma MOODLE

 www.riolearning.com

Página Web



www.multimevi.com

Redes Sociales



Procesos



ACCESO a la Educación Superior
SENESCYT

QUIERO SER MAESTRO
Ministerio de Educación