



Ejercicios



# Razonamiento Abstracto

Preguntas modelo  
examen de acceso a la educación superior

**Modelo Q**



**ACCESO** a la Educación Superior  
SENESCYT

**QUIERO SER MAESTRO**  
Ministerio de Educación

ACCESO A LA EDUCACIÓN SUPERIOR TAE100\_001

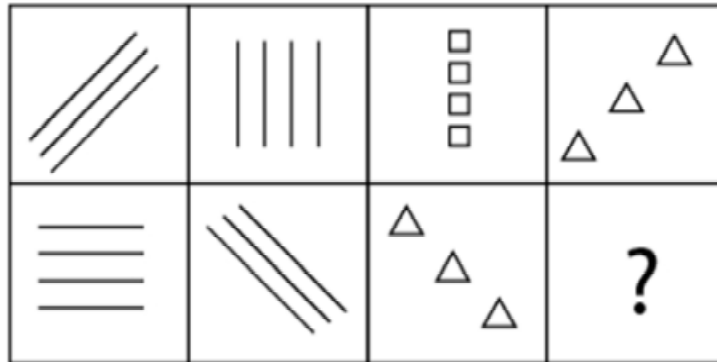
**Opción Múltiple**

Elige la opción que complete mejor el enunciado o que responda mejor a la pregunta.

[www.riolearning.com](http://www.riolearning.com)

1.

¿Cuál es la figura que falta?



A.



C.



E.



B.



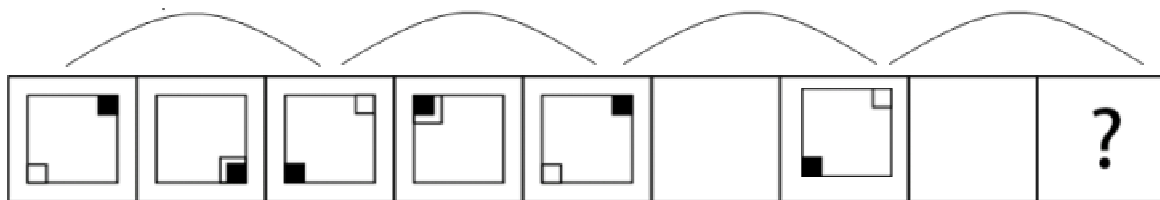
D.



[www.riolearning.com](http://www.riolearning.com)

2.

¿Cuál es la figura que falta?



A.



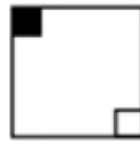
B.



C.



D.



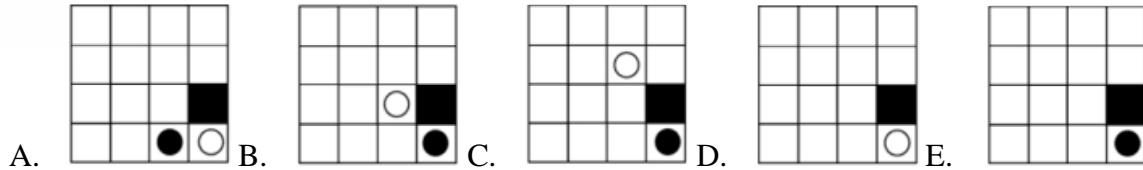
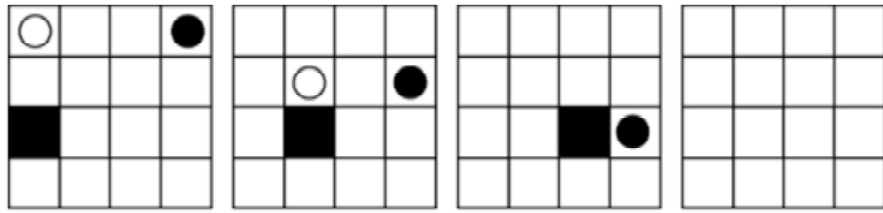
E.



[www.riolearning.com](http://www.riolearning.com)

3.

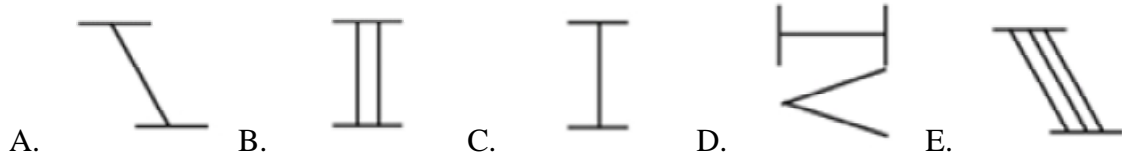
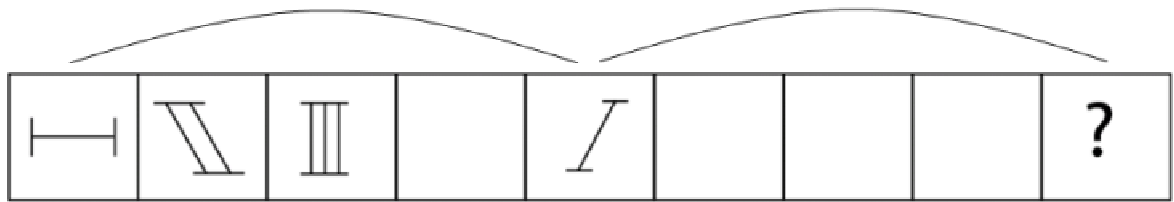
¿Cuál es la figura que falta?



4.

¿Cuál es la figura que falta?

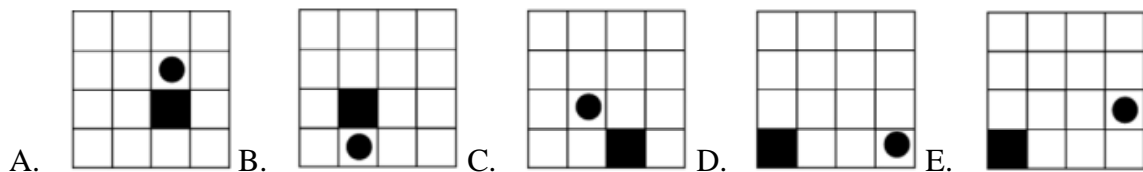
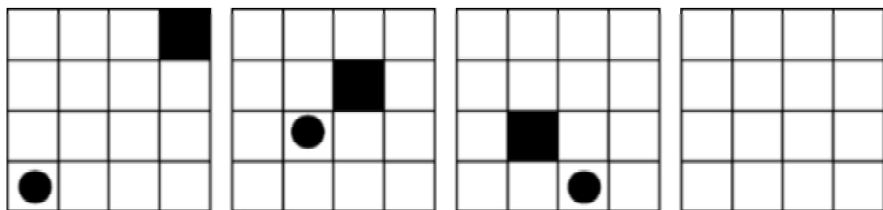
[www.riolearning.com](http://www.riolearning.com)



5.

¿Cuál es la figura que falta?

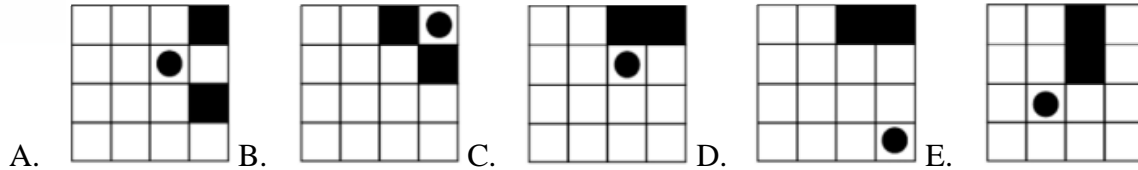
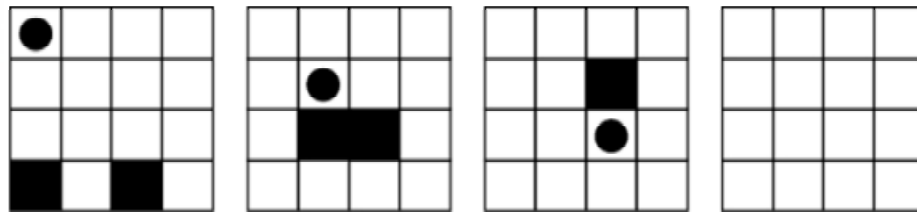
[www.riolearning.com](http://www.riolearning.com)



www.riolearning.com

6.



¿Cuál es la figura que falta?



www.riolearning.com

7.


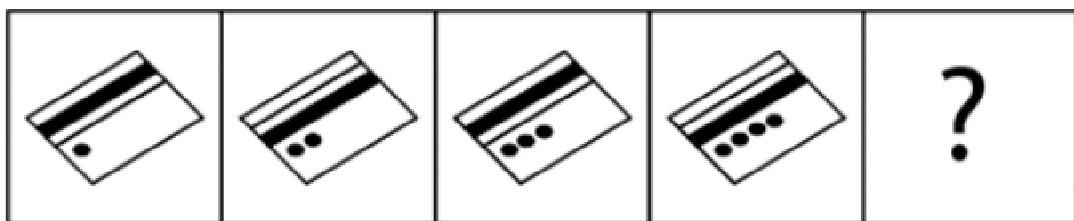
¿Cuál es la figura que falta?



www.riolearning.com

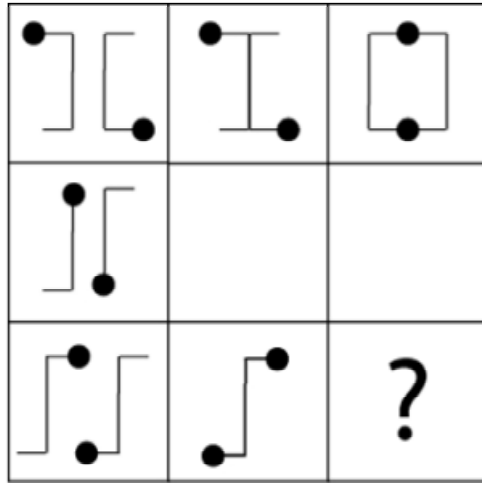
8.

¿Cuál es la figura que falta?



9.


¿Cuál es la figura que falta?



- A.
- B.
- C.
- D.
- E.

10.

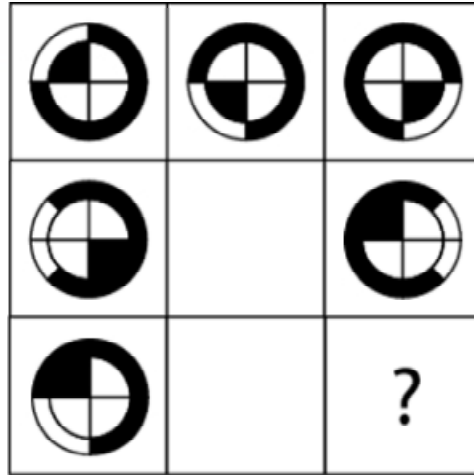
¿Cuál es la figura que falta?



- A.
- B.
- C.
- D.
- E.

11.

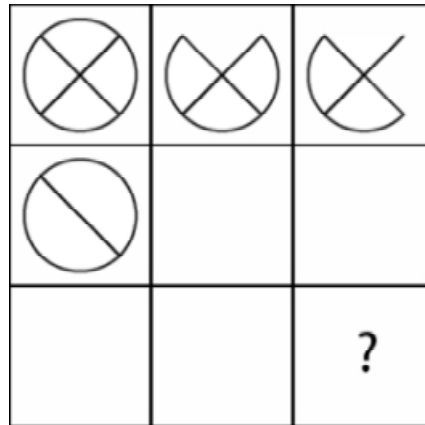
¿Cuál es la figura que falta?



- A.  B.  C.  D.  E. 

12.

¿Cuál es la figura que falta?

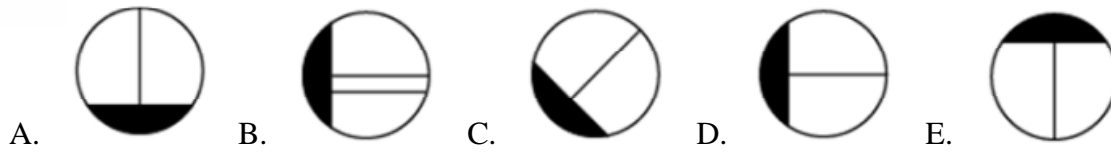
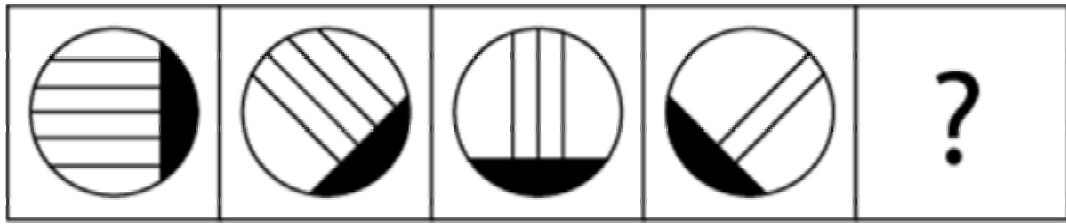


- A.  B.  C.  D.  E. 

[www.riolearning.com](http://www.riolearning.com)

13.

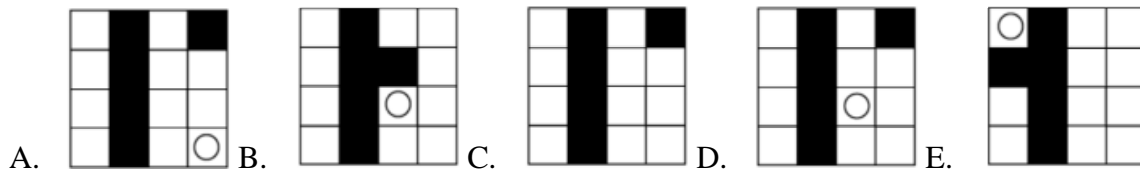
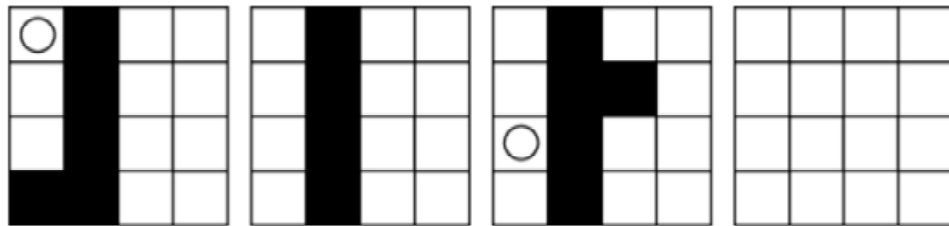
¿Cuál es la figura que falta?



[www.riolearning.com](http://www.riolearning.com)

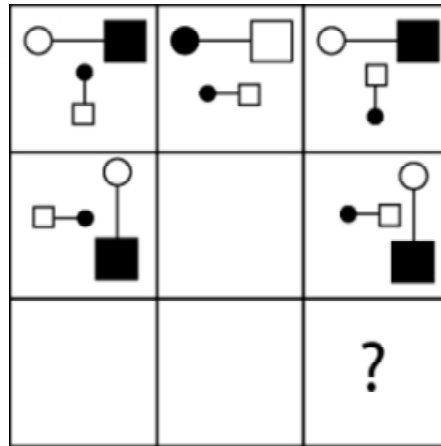
14.

¿Cuál es la figura que falta?



15.

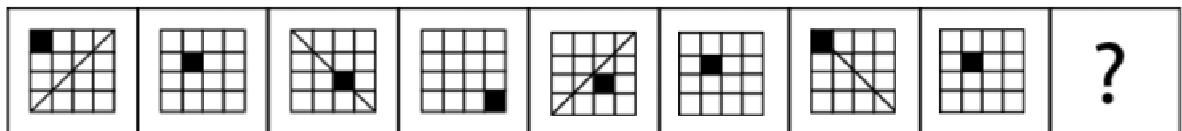
¿Cuál es la figura que falta?



- A.
- B.
- C.
- D.
- E.

16.


¿Cuál es la figura que falta?








- A.
- B.
- C.
- D.
- E.

17.

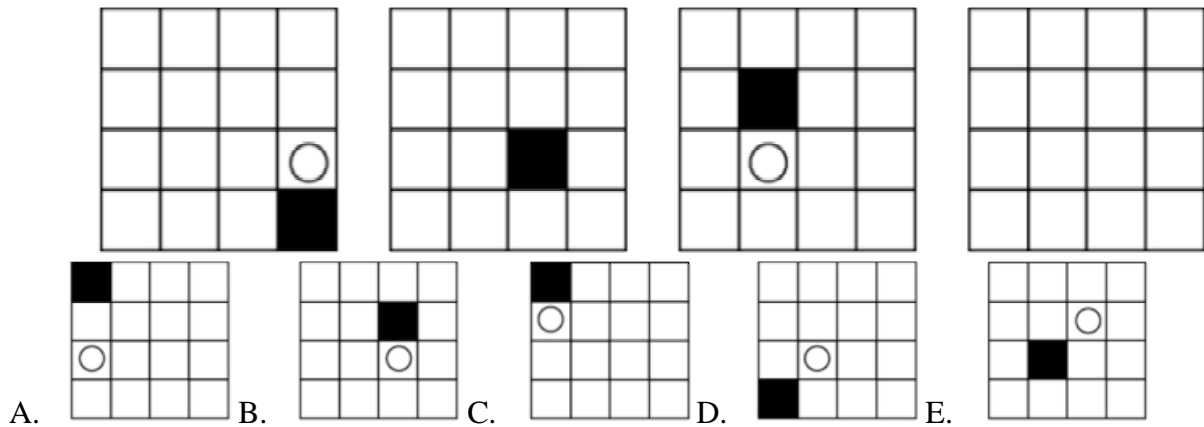
¿Cuál es la figura que falta?



- A.  B.  C.  D.  E. 

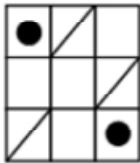
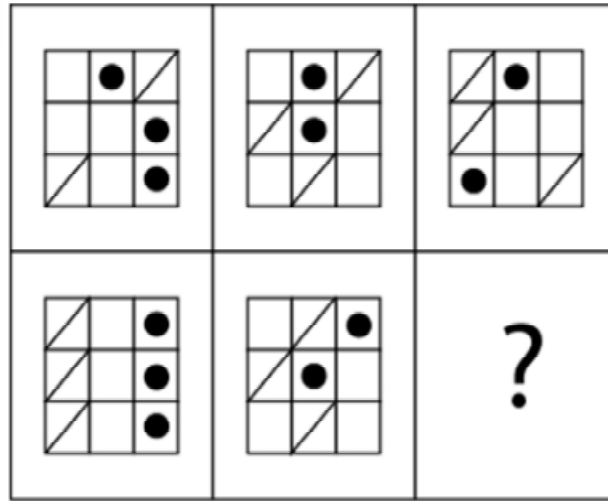
18.

¿Cuál es la figura que falta?

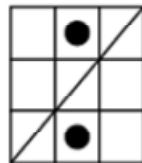


19.

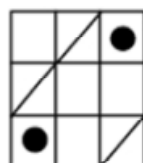
¿Cuál es la figura que falta?



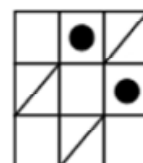
A.



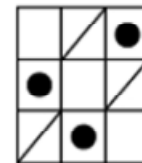
B.



C.



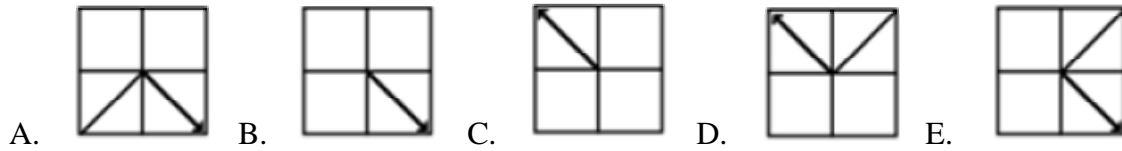
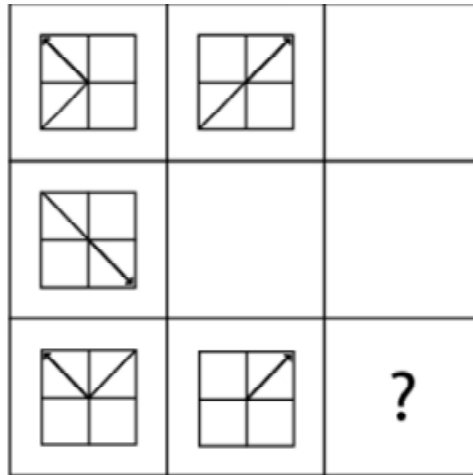
D.



E.

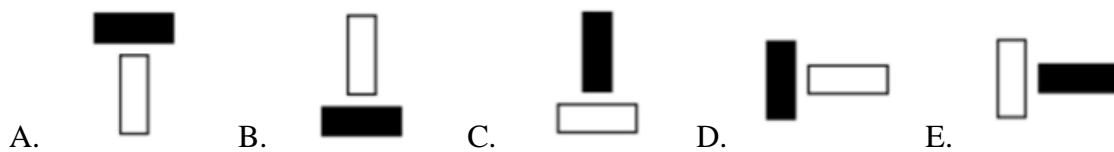
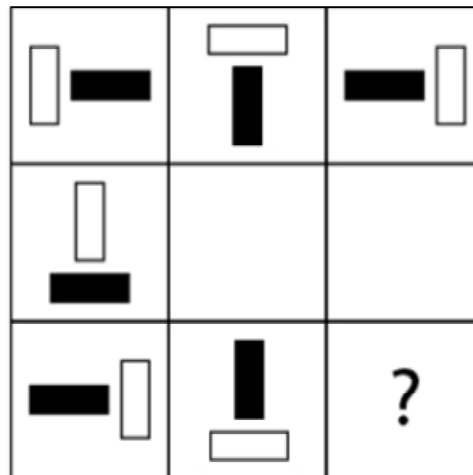
20.

¿Cuál es la figura que falta?



21.

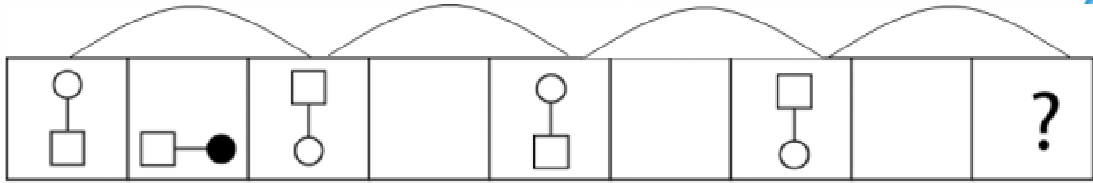
¿Cuál es la figura que falta?








[www.riolearning.com](http://www.riolearning.com)

22.

¿Cuál es la figura que falta?

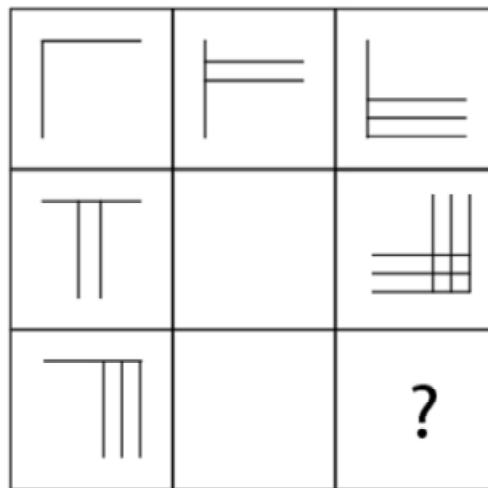







- A.  B.  C.  D.  E. 

[www.riolearning.com](http://www.riolearning.com)

23.

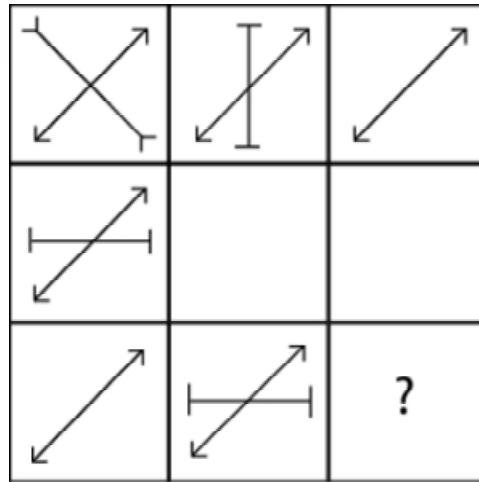
¿Cuál es la figura que falta?


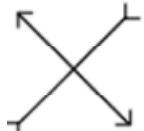
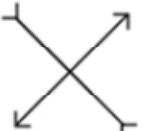




- A.  B.  C.  D.  E. 

24.

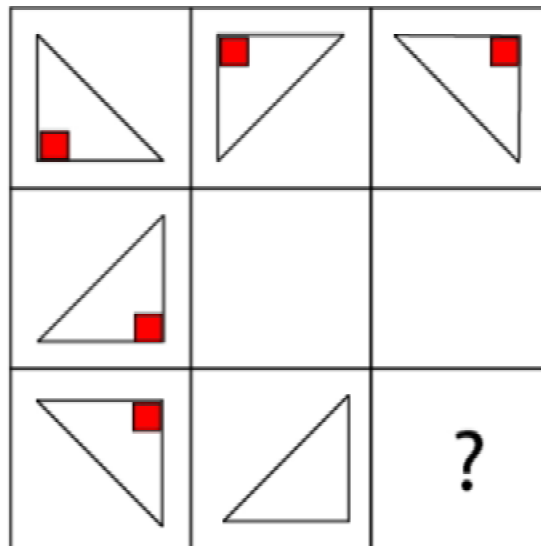
¿Cuál es la figura que falta?

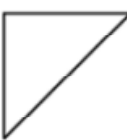

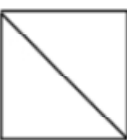




- A.  B.  C.  D.  E. 

25.

¿Cuál es la figura que falta?

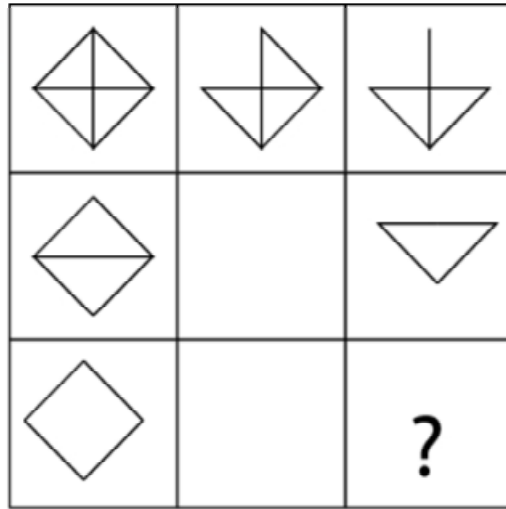


- A.  B.  C.  D.  E. 


[www.riolearning.com](http://www.riolearning.com)

26.

¿Cuál es la figura que falta?



A.



B.



C.



D.




E.



[www.riolearning.com](http://www.riolearning.com)

27.

¿Cuál es la figura que falta?



A.



B.



C.



D.

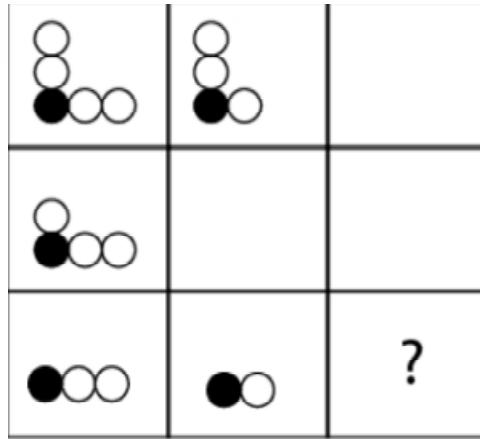


E.



28.

¿Cuál es la figura que falta?



A.



B.



C.



D.

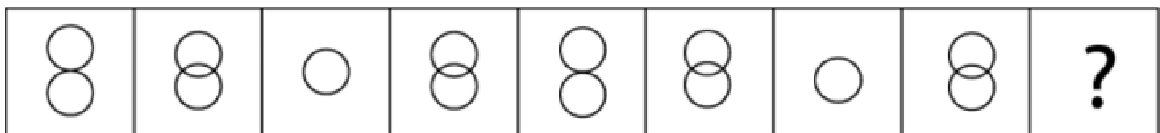


E.



29.

¿Cuál es la figura que falta?



A.



B.



C.



D.

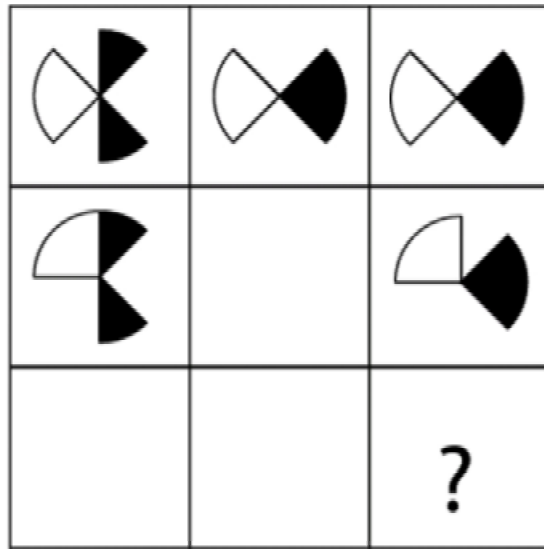




E.



30.

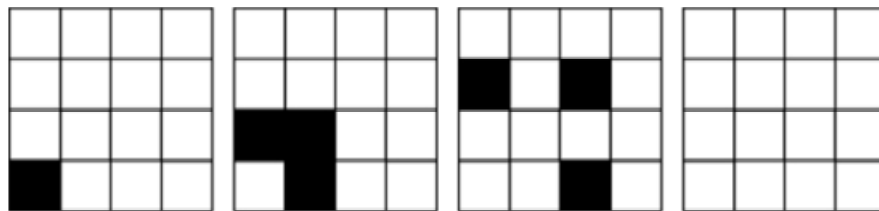
¿Cuál es la figura que falta?





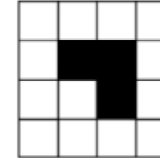


- A.  B.  C.  D.  E. 

31.

¿Cuál es la figura que falta?

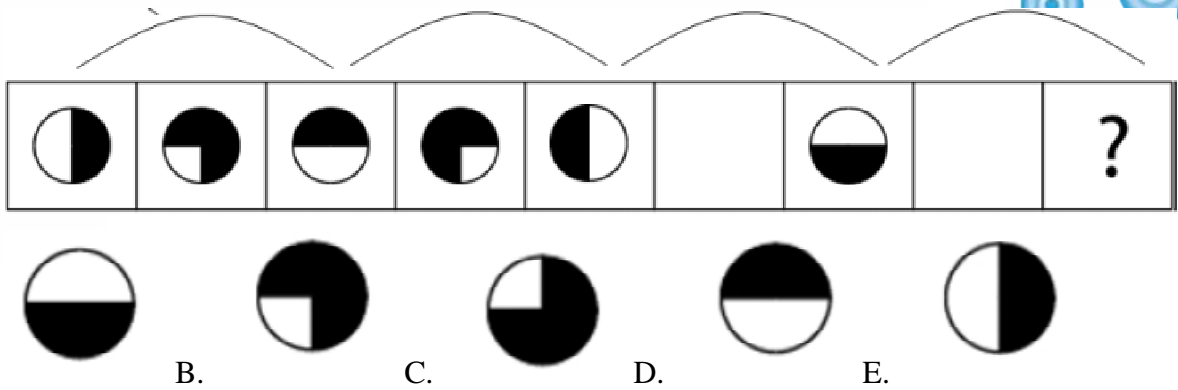


- A.  B.  C.  D.  E. 

[www.riolearning.com](http://www.riolearning.com)

32.

¿Cuál es la figura que falta?

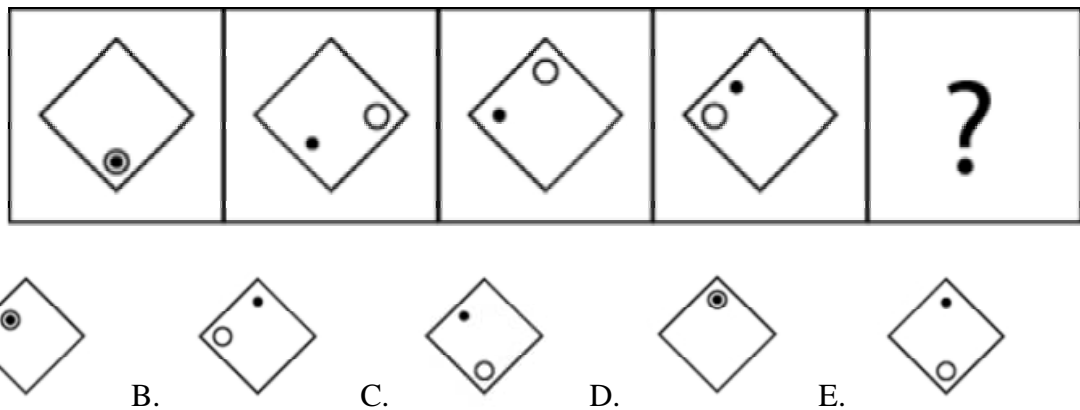


A sequence of nine boxes. The first five boxes contain circles with different shaded regions: 1. Left half black, right half white. 2. Top-left quadrant black, rest white. 3. Top half black, bottom half white. 4. Top-right quadrant black, rest white. 5. Right half black, left half white. The sixth box is empty. The seventh box contains a circle with the bottom half shaded black. The eighth box is empty. The ninth box contains a question mark. Below the sequence are five options: A. Circle with bottom half shaded black. B. Circle with top-left quadrant shaded black. C. Circle with top-right quadrant shaded black. D. Circle with top half shaded black. E. Circle with right half shaded black.

[www.riolearning.com](http://www.riolearning.com)

33.

¿Cuál es la figura que falta?

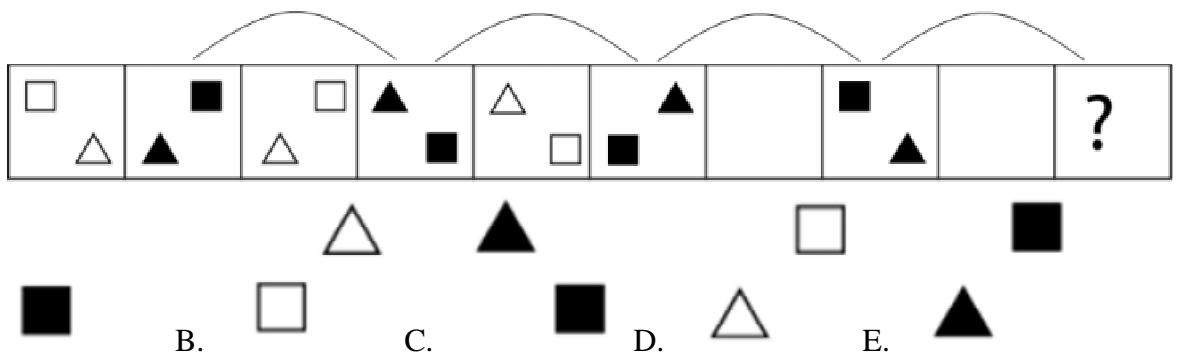


A sequence of five boxes. Each box contains a diamond shape. Box 1: One small circle with a dot inside, located at the bottom vertex. Box 2: One small circle with a dot inside, located at the right vertex. Box 3: Two small circles with dots inside, one at the top vertex and one at the left vertex. Box 4: Two small circles with dots inside, one at the top vertex and one at the bottom vertex. The fifth box contains a question mark. Below the sequence are five options: A. Diamond with one small circle with a dot inside at the top vertex. B. Diamond with one small circle with a dot inside at the left vertex. C. Diamond with two small circles with dots inside at the top and bottom vertices. D. Diamond with one small circle with a dot inside at the top vertex. E. Diamond with one small circle with a dot inside at the bottom vertex.

[www.riolearning.com](http://www.riolearning.com)

34.

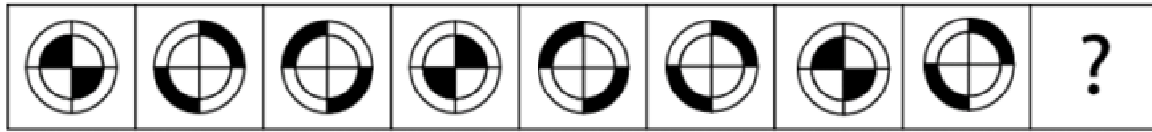
¿Cuál es la figura que falta?



A sequence of ten boxes. Each box contains two shapes: a square and a triangle. Box 1: White square, white triangle. Box 2: Black square, black triangle. Box 3: White square, white triangle. Box 4: Black square, black triangle. Box 5: White square, white triangle. Box 6: Black square, black triangle. The seventh box is empty. The eighth box contains a black square and a black triangle. The ninth box is empty. The tenth box contains a question mark. Below the sequence are five options: A. Black square. B. White square. C. Black square. D. White triangle. E. Black triangle.

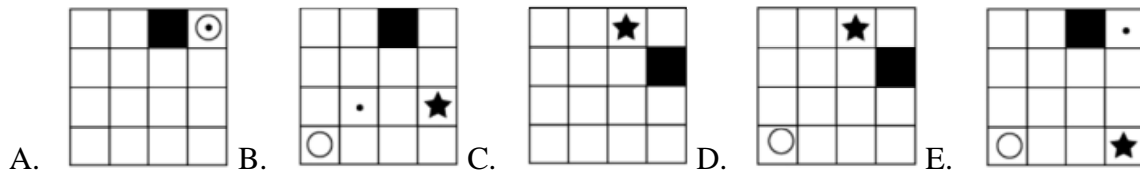
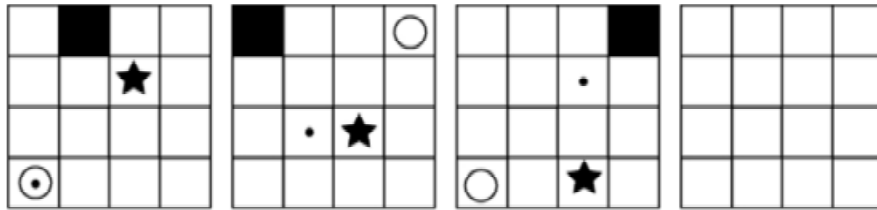
35.

¿Cuál es la figura que falta?



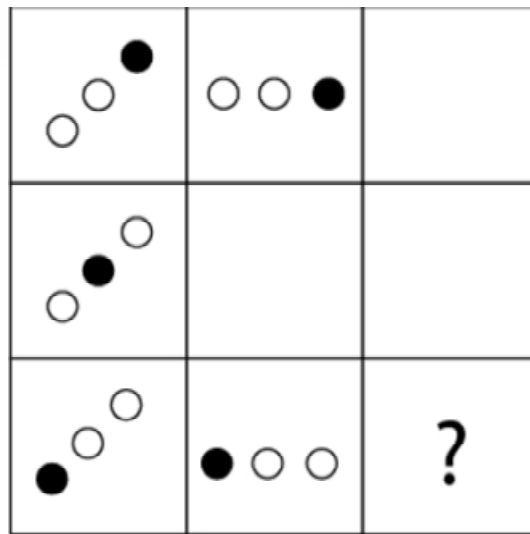
36.

¿Cuál es la figura que falta?



37.

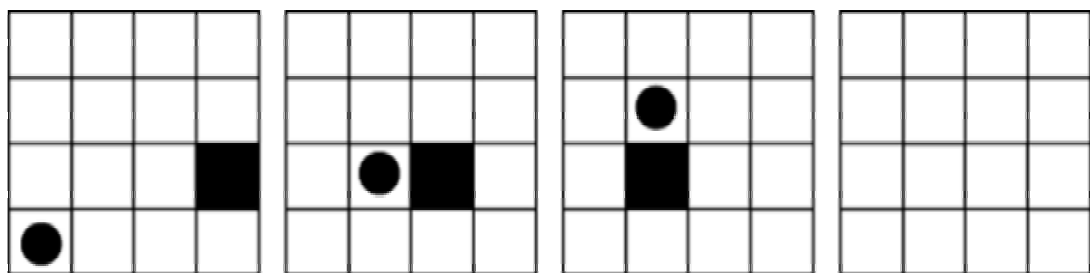
¿Cuál es la figura que falta?



- A.
- B.
- C.
- D.
- E.

38.

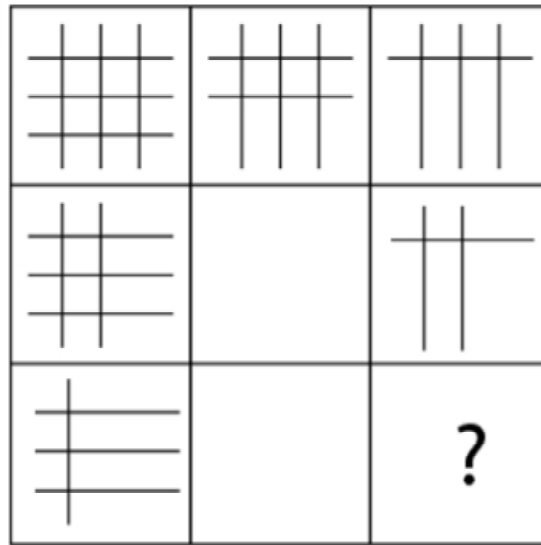
¿Cuál es la figura que falta?



- A.
- B.
- C.
- D.
- E.

39.

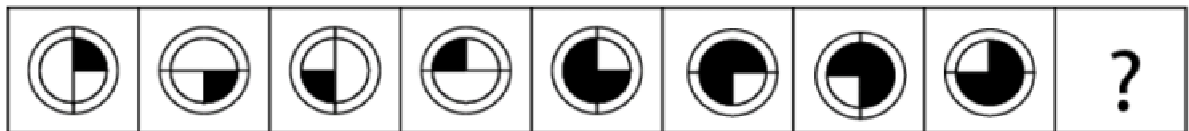
¿Cuál es la figura que falta?



- A.
- B.
- C.
- D.
- E.

40.


¿Cuál es la figura que falta?



- A.
- B.
- C.
- D.
- E.

41.

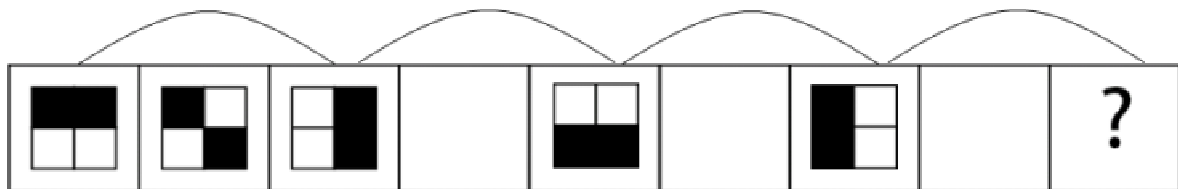
¿Cuál es la figura que falta?






- A.  B.  C.  D.  E. 

42.


¿Cuál es la figura que falta?



- A.  B.  C.  D.  E. 

43.

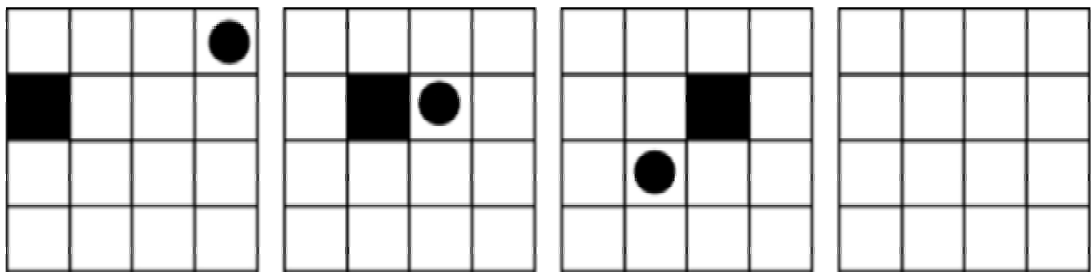
¿Cuál es la figura que falta?



- A.
- B.
- C.
- D.
- E.

44.


¿Cuál es la figura que falta?



- A.
- B.
- C.
- D.
- E.

45.

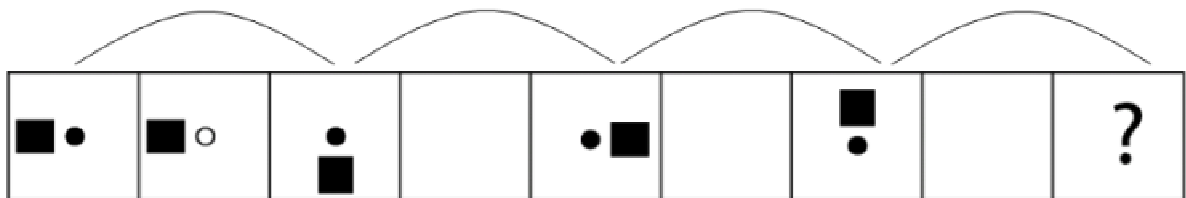
¿Cuál es la figura que falta?








- A.  B.  C.  D.  E. 

46.

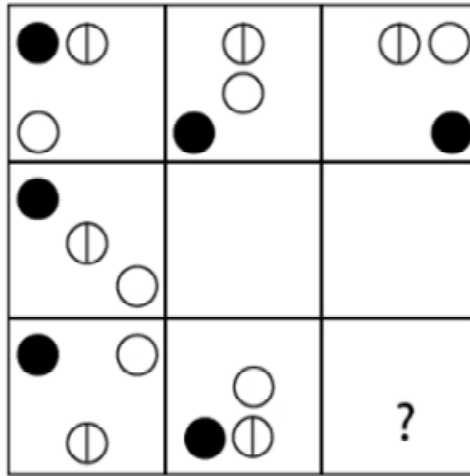
¿Cuál es la figura que falta?








- A.  B.  C.  D.  E. 

47.

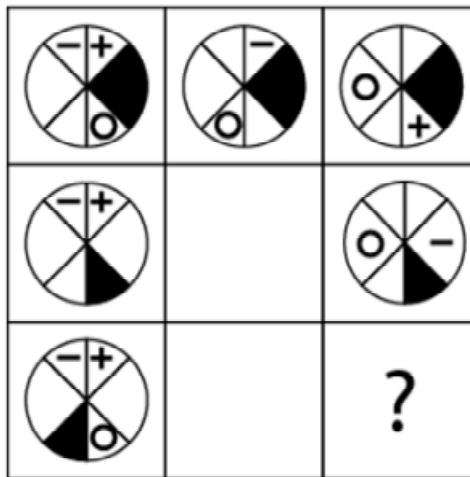
¿Cuál es la figura que falta?



- A.  B.  C.  D.  E. 

48.

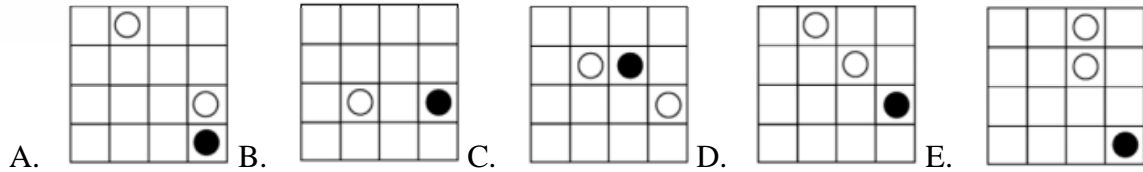
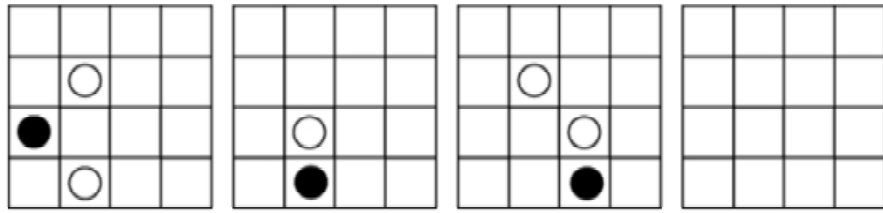
¿Cuál es la figura que falta?



- A.  B.  C.  D.  E. 

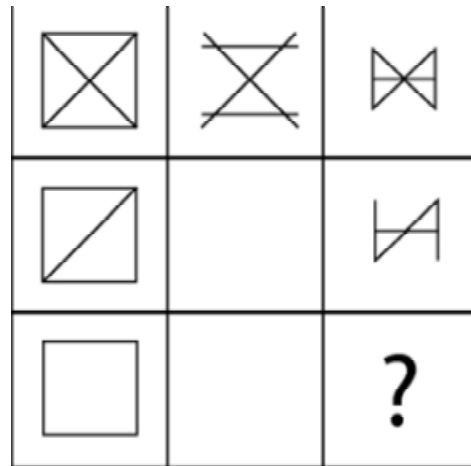
49.

¿Cuál es la figura que falta?



50.

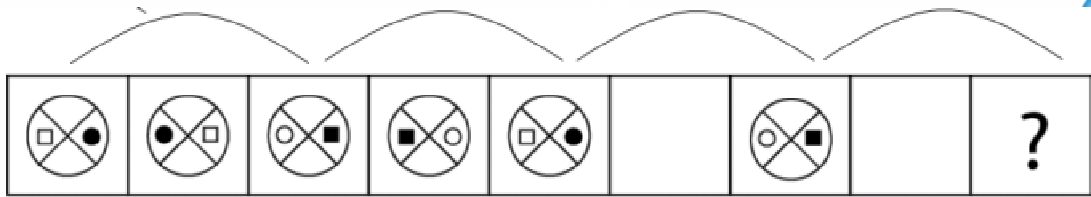
¿Cuál es la figura que falta?








[www.riolearning.com](http://www.riolearning.com)

51.

¿Cuál es la figura que falta?




- A.  B.  C.  D.  E. 

[www.riolearning.com](http://www.riolearning.com)

52.

¿Cuál es la figura que falta?

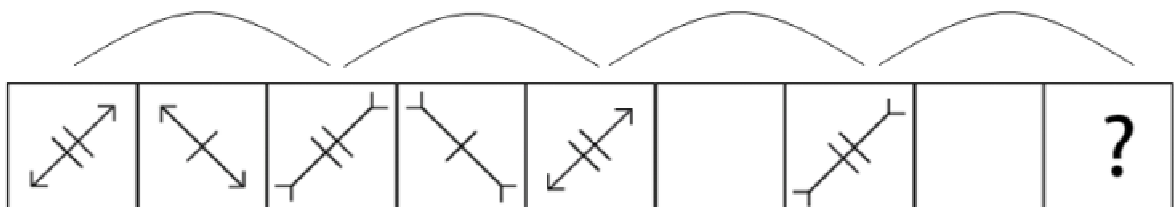


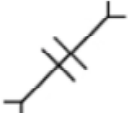
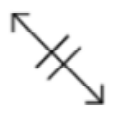
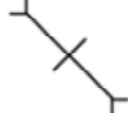
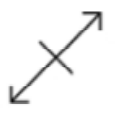

- A.  B.  C.  D.  E. 

[www.riolearning.com](http://www.riolearning.com)

53.

¿Cuál es la figura que falta?

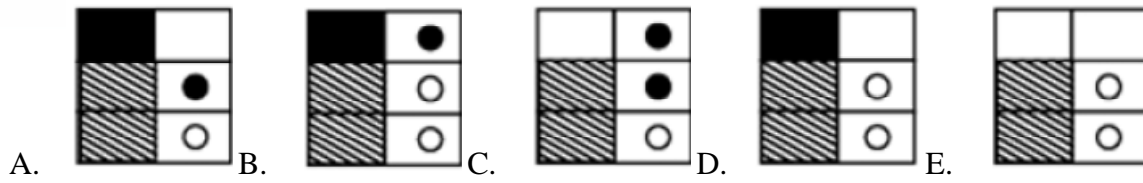
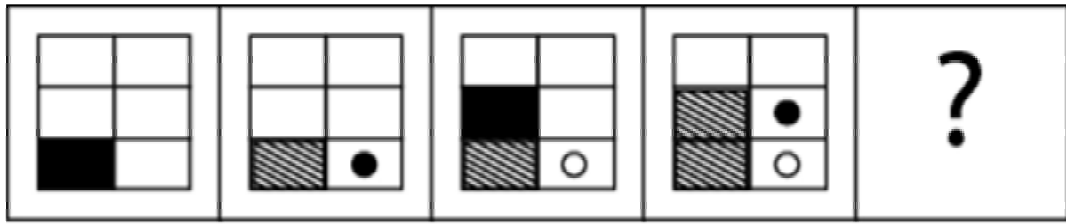


- A.  B.  C.  D.  E. 

[www.riolearning.com](http://www.riolearning.com)

54.

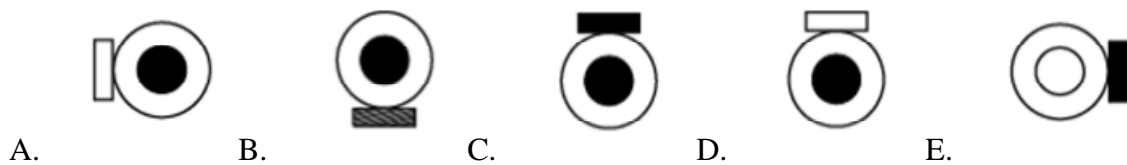

¿Cuál es la figura que falta?



[www.riolearning.com](http://www.riolearning.com)

55.

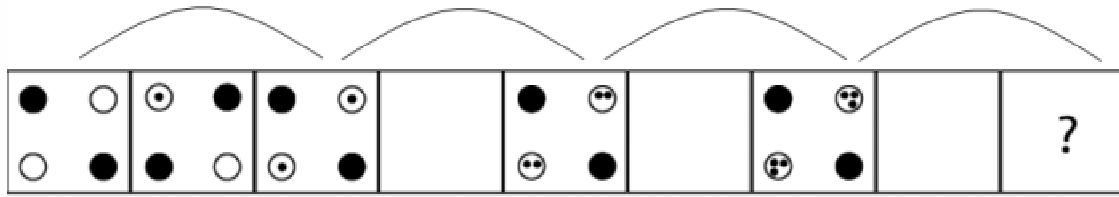
¿Cuál es la figura que falta?



[www.riolearning.com](http://www.riolearning.com)

56.

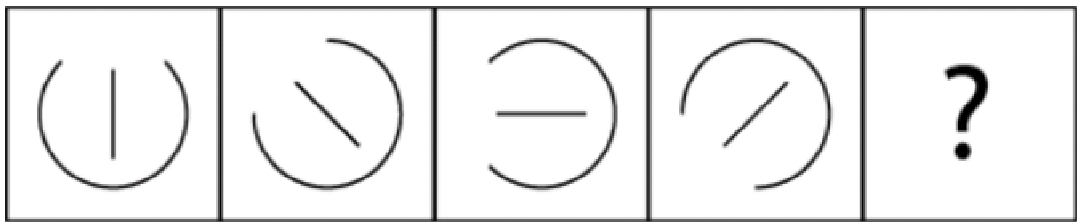
¿Cuál es la figura que falta?



[www.riolearning.com](http://www.riolearning.com)


57.

¿Cuál es la figura que falta?



58.

¿Cuál es la figura que falta?



A.



B.



C.



D.

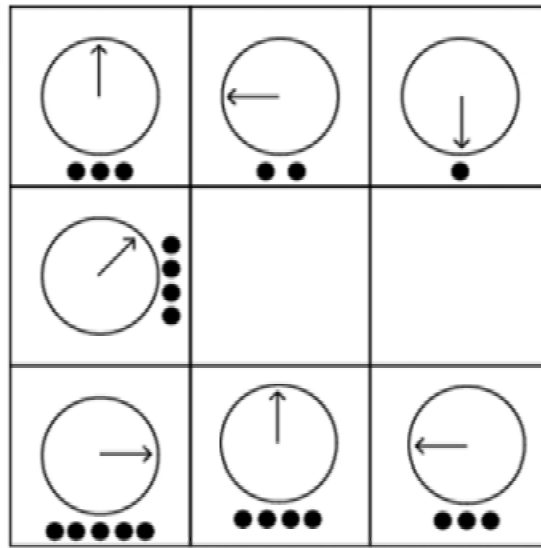


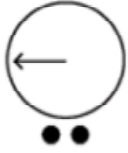

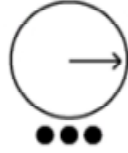
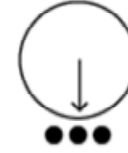
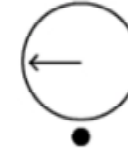
E.



59.

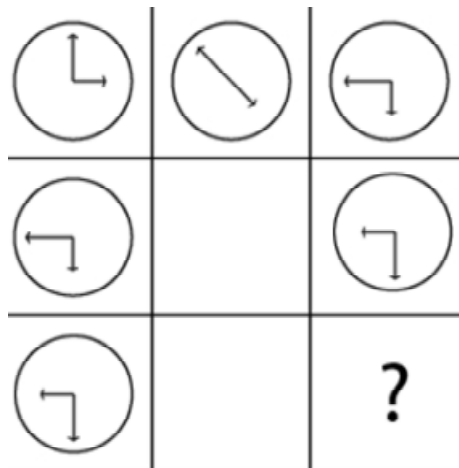
¿Cuál es la figura que falta?








- A.  B.  C.  D.  E. 

60.

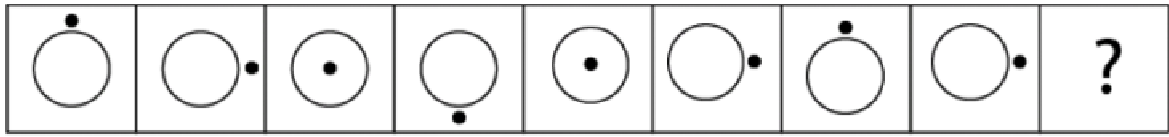
¿Cuál es la figura que falta?



- A.  B.  C.  D.  E. 


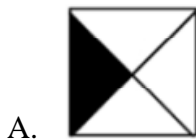

61.

¿Cuál es la figura que falta?



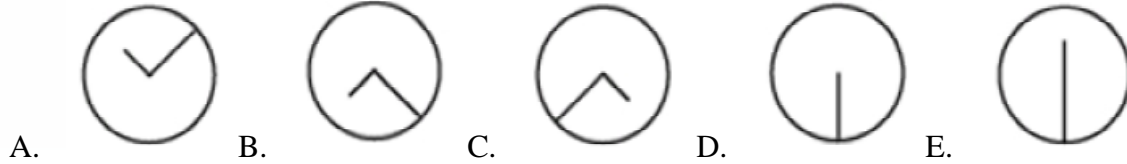
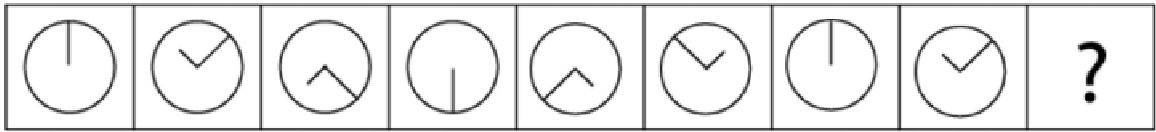
62.

¿Cuál es la figura que falta?



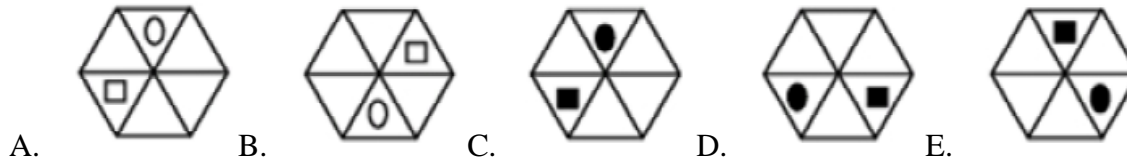
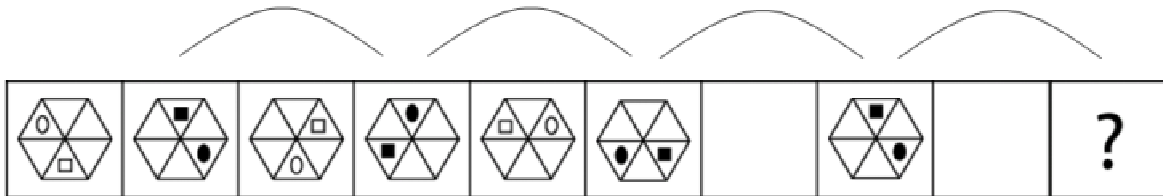
63.

¿Cuál es la figura que falta?



64.


¿Cuál es la figura que falta?



www.riolearning.com

65.

¿Cuál es la figura que falta?



A.



B.



C.



D.



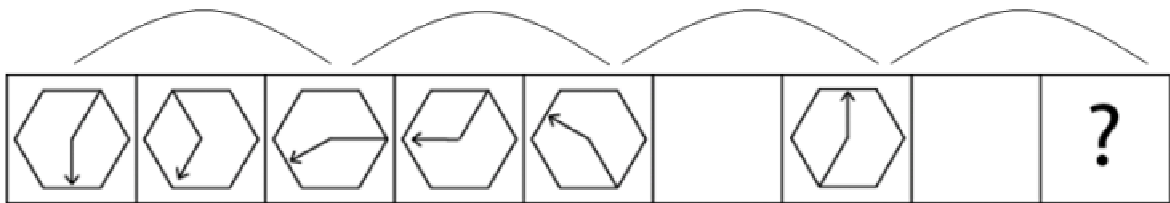
E.



www.riolearning.com

66.

¿Cuál es la figura que falta?



A.



B.



C.



D.



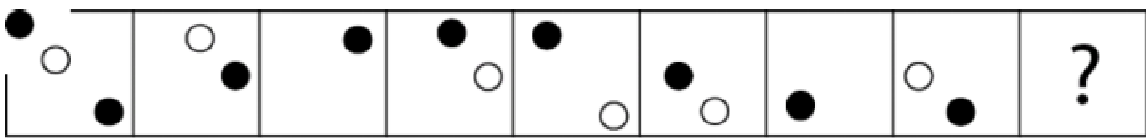
E.



www.riolearning.com

67.

¿Cuál es la figura que falta?



A.



B.



C.



D.

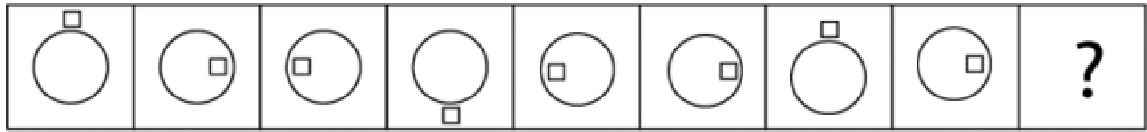







E.



68.

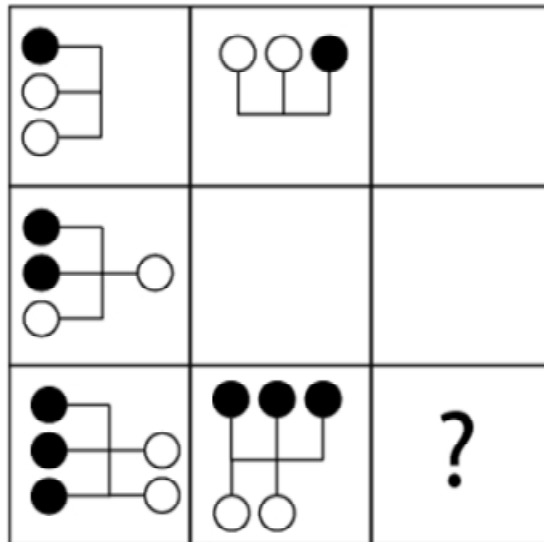
¿Cuál es la figura que falta?

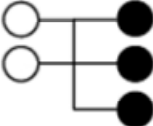
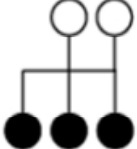
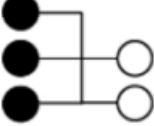
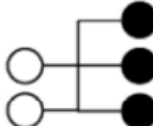
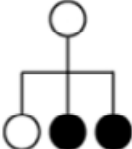


- A.  B.  C.  D.  E. 

69.


¿Cuál es la figura que falta?



- A.  B.  C.  D.  E. 

70.

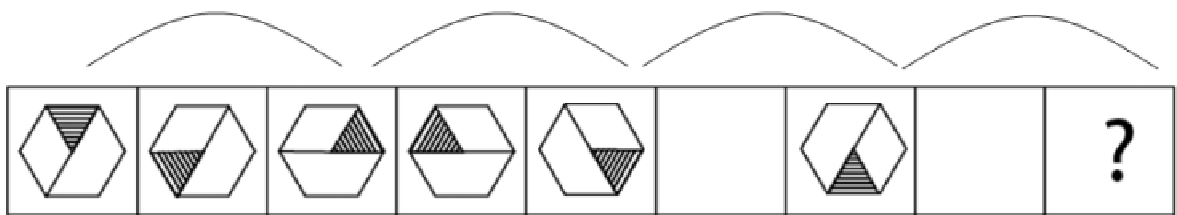
¿Cuál es la figura que falta?








- A.  B.  C.  D.  E. 

71.

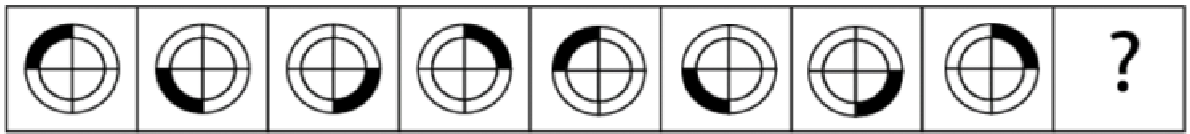
¿Cuál es la figura que falta?



- A.  B.  C.  D.  E. 

72.

¿Cuál es la figura que falta?



73.

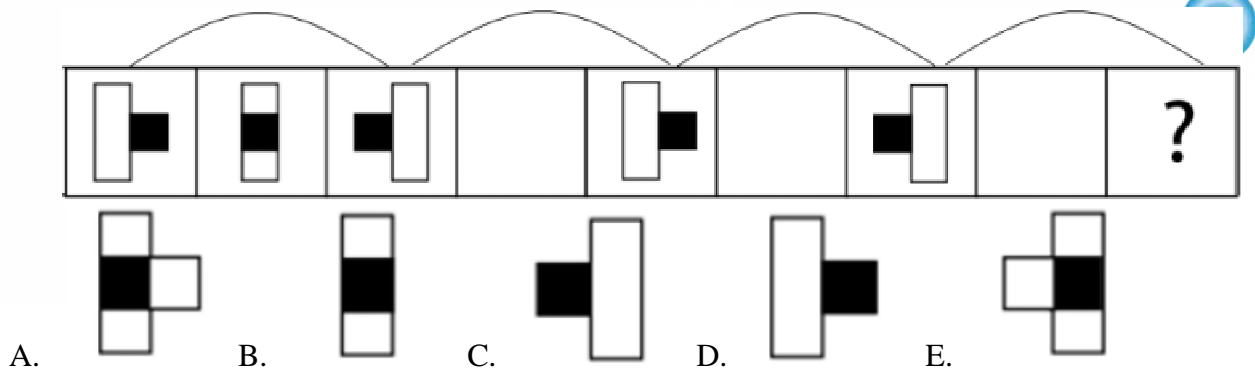
¿Cuál es la figura que falta?



[www.riolearning.com](http://www.riolearning.com)

74.

¿Cuál es la figura que falta?



A.

B.

C.

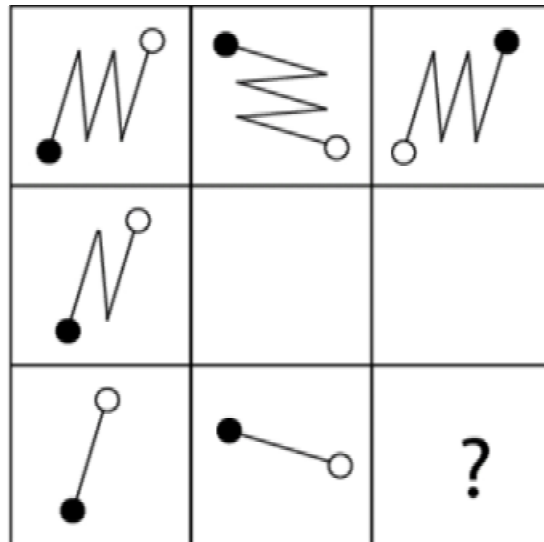
D.

E.

[www.riolearning.com](http://www.riolearning.com)

75.

¿Cuál es la figura que falta?



A.

B.

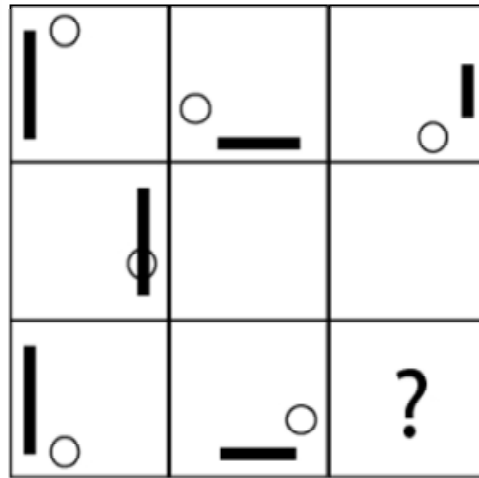
C.






D.

E.

76.

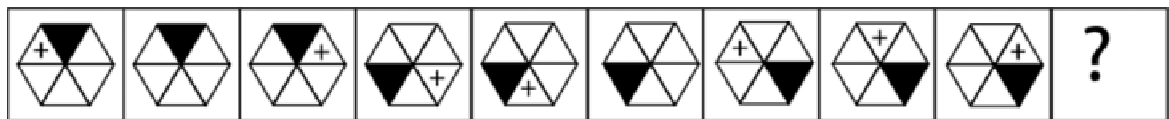
¿Cuál es la figura que falta?



- A.       B.       C.       D.       E. 

77.

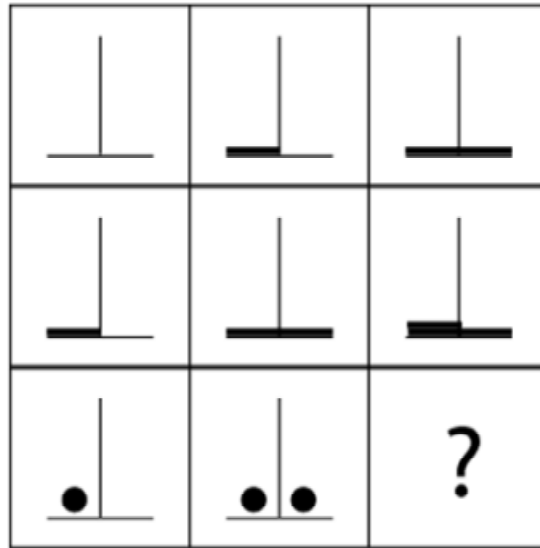
¿Cuál es la figura que falta?








- A.       B.       C.       D.       E. 

78.

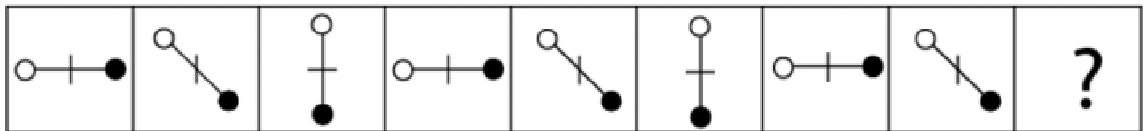
¿Cuál es la figura que falta?





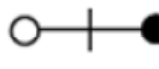


- A.  B.  C.  D.  E. 

79.

¿Cuál es la figura que falta?

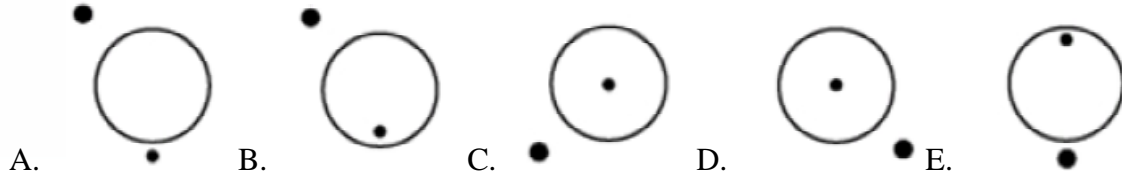
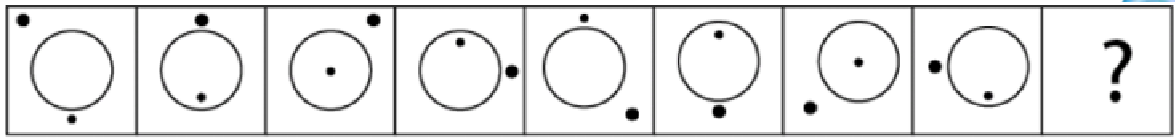


- A.  B.  C.  D.  E. 

[www.riolearning.com](http://www.riolearning.com)

80.

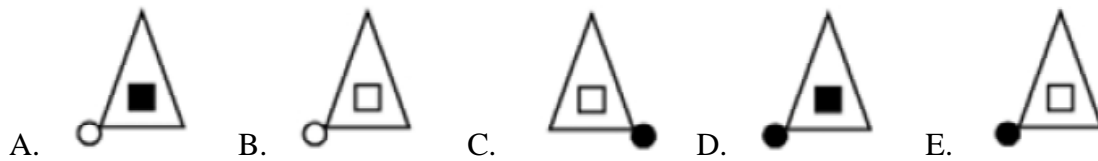
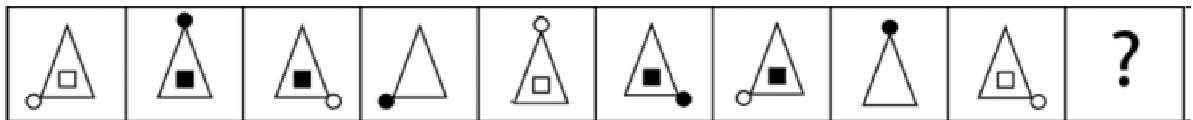
¿Cuál es la figura que falta?



[www.riolearning.com](http://www.riolearning.com)

81.

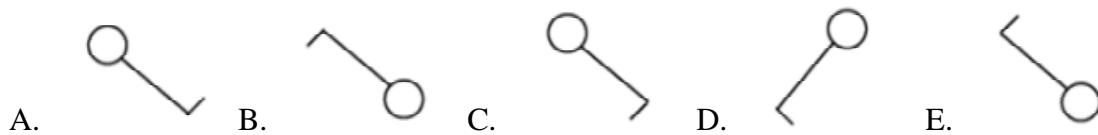
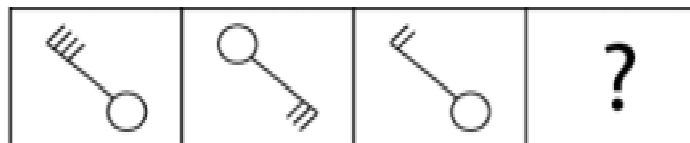
¿Cuál es la figura que falta?



[www.riolearning.com](http://www.riolearning.com)

82.

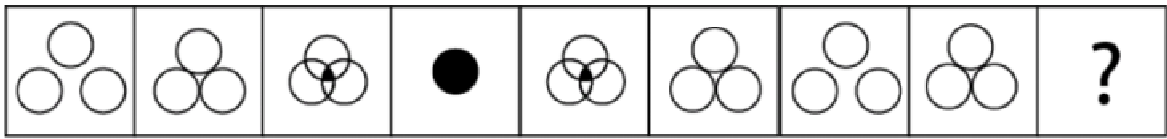
¿Cuál es la figura que falta?



[www.riolearning.com](http://www.riolearning.com)

83.

¿Cuál es la figura que falta?

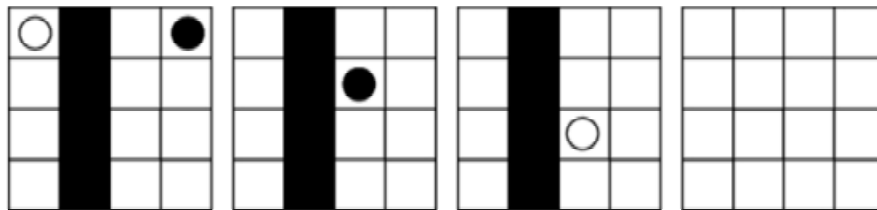


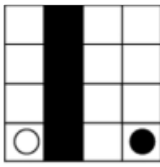
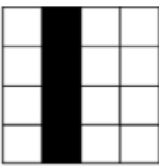
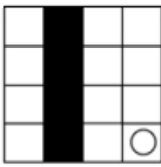
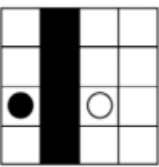
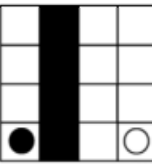
- A.  B.  C.  D.  E. 

[www.riolearning.com](http://www.riolearning.com)

84.

¿Cuál es la figura que falta?

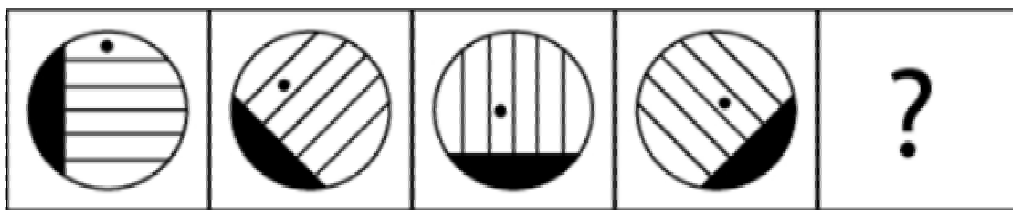







- A.  B.  C.  D.  E. 

[www.riolearning.com](http://www.riolearning.com)

85.

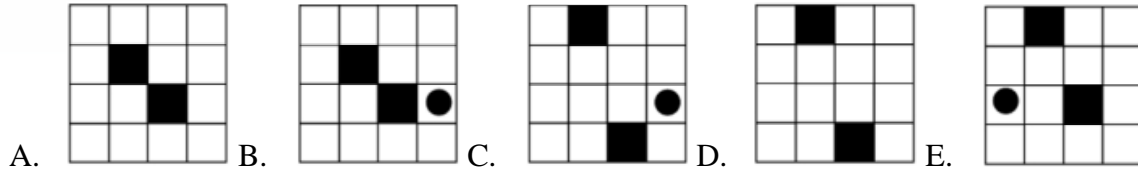
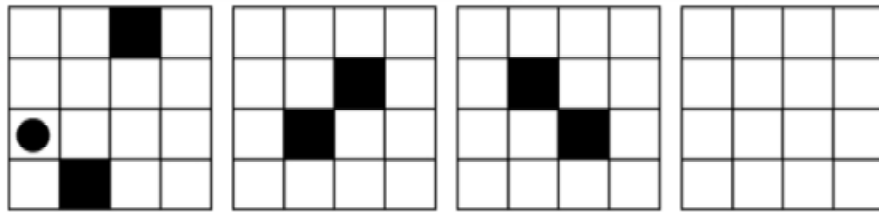
¿Cuál es la figura que falta?



- A.  B.  C.  D.  E. 


86.

¿Cuál es la figura que falta?



87.

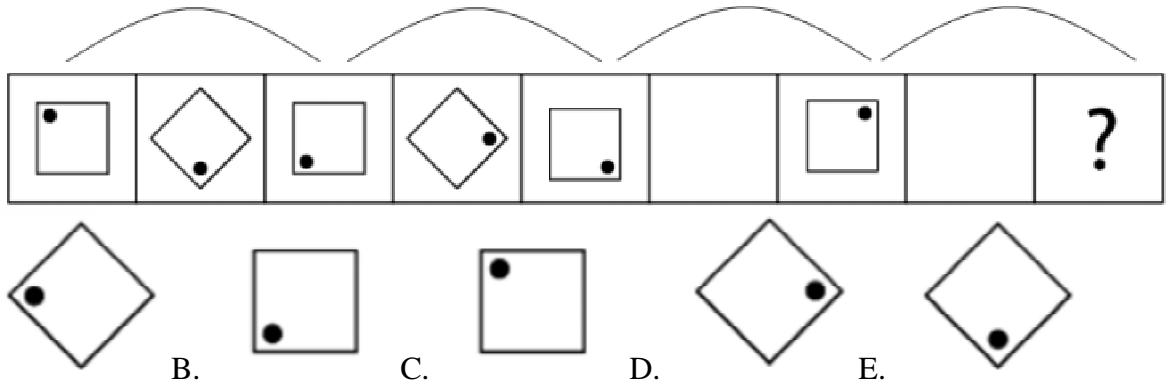
¿Cuál es la figura que falta?



[www.riolearning.com](http://www.riolearning.com)

88.

¿Cuál es la figura que falta?



A.

B.

C.

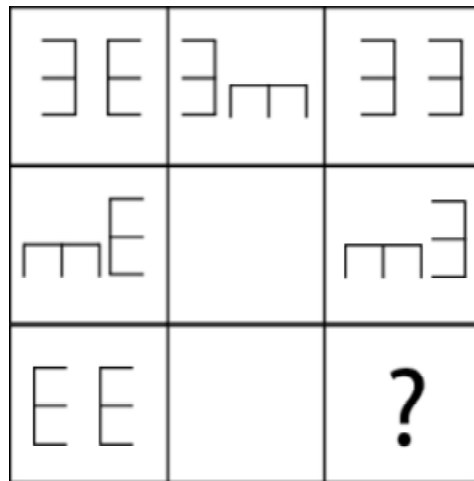
D.

E.

[www.riolearning.com](http://www.riolearning.com)

89.

¿Cuál es la figura que falta?



A.

B.

C.

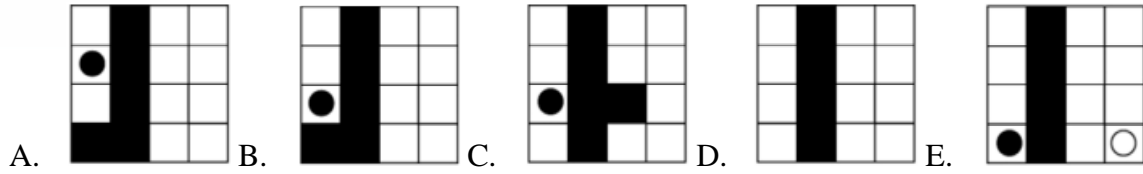
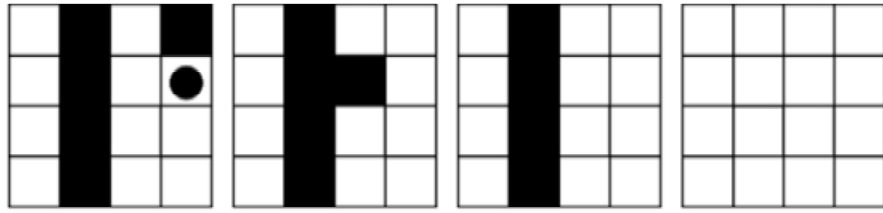
D.

E.

[www.riolearning.com](http://www.riolearning.com)

90.

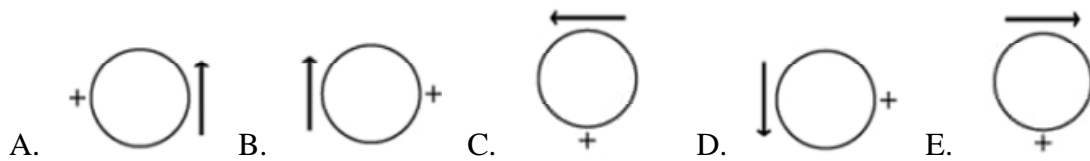
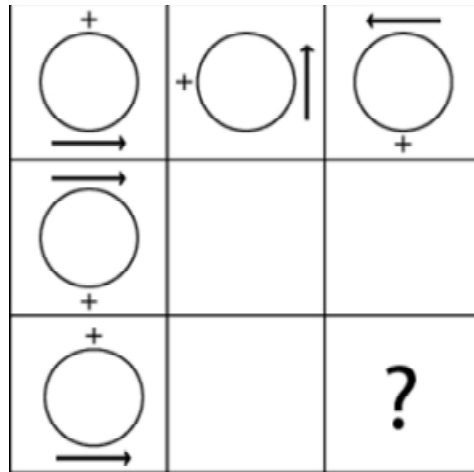
¿Cuál es la figura que falta?



[www.riolearning.com](http://www.riolearning.com)

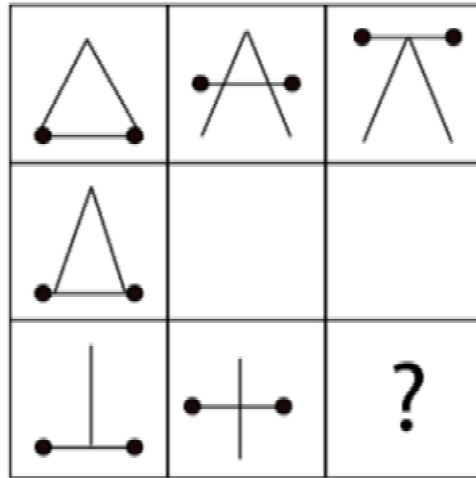
91.






¿Cuál es la figura que falta?



92.


¿Cuál es la figura que falta?








- A.  B.  C.  D.  E. 

93.

¿Cuál es la figura que falta?

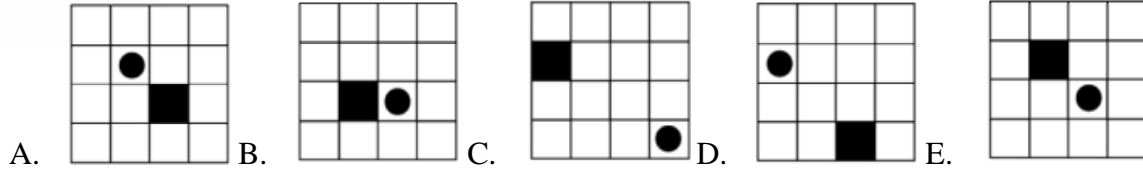
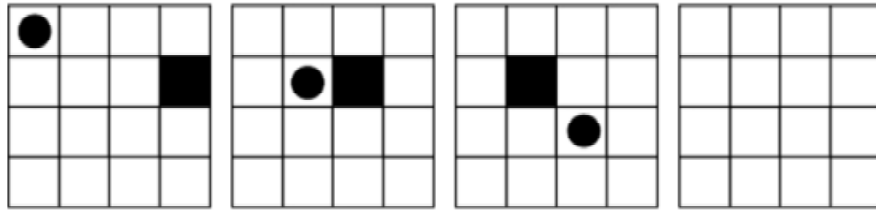


- A.  B.  C.  D.  E. 

[www.riolearning.com](http://www.riolearning.com)

94.

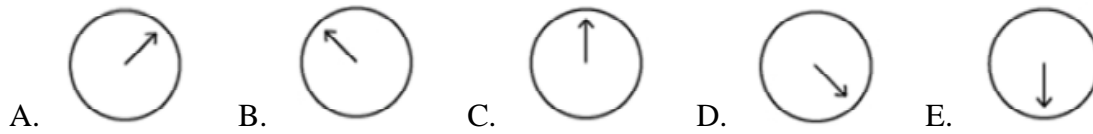
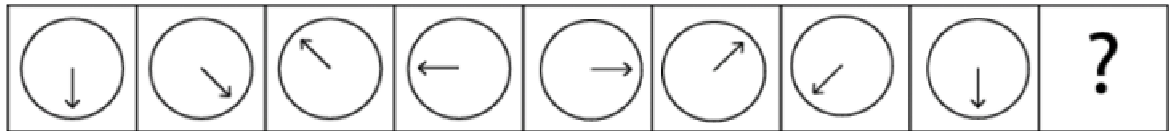
¿Cuál es la figura que falta?



[www.riolearning.com](http://www.riolearning.com)


95.






¿Cuál es la figura que falta?



96.

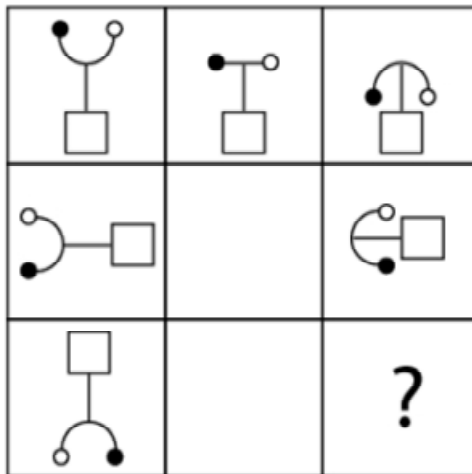
¿Cuál es la figura que falta?

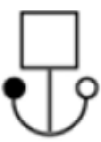
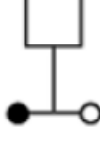





- A.  B.  C.  D.  E. 

97.

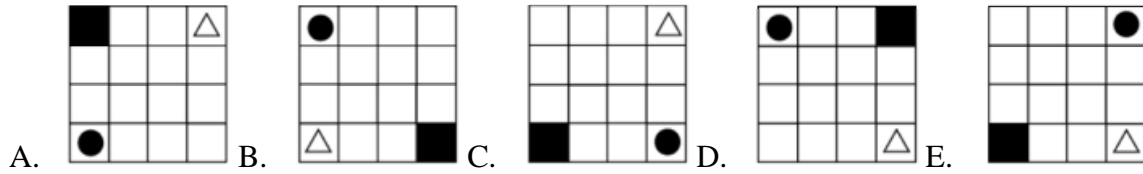
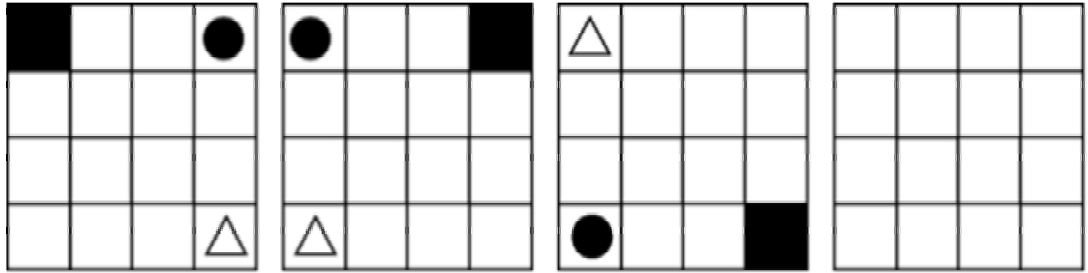
¿Cuál es la figura que falta?



- A.  B.  C.  D.  E. 

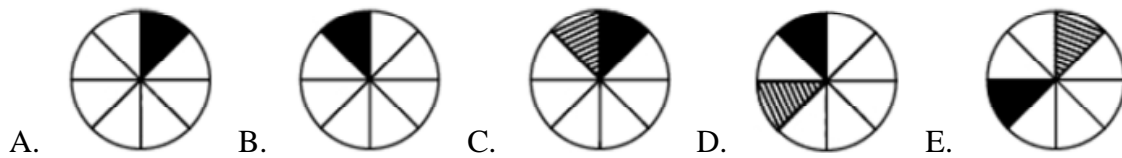
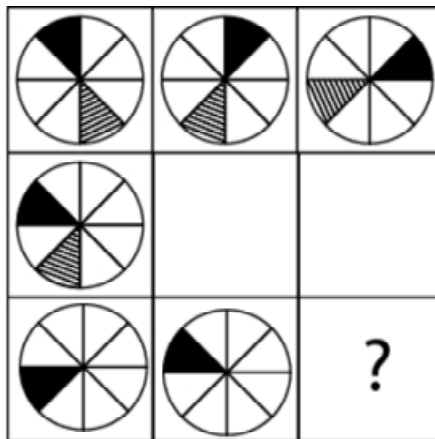
98.

¿Cuál es la figura que falta?



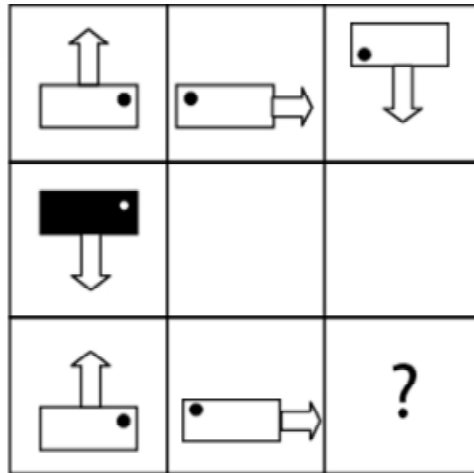
99.


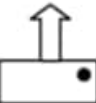

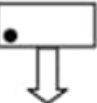
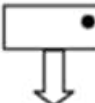
¿Cuál es la figura que falta?



100.

¿Cuál es la figura que falta?



- A.  B.  C.  D.  E. 

## ACCESO A LA EDUCACIÓN SUPERIOR TAE100\_001

## Answer Section

## MULTIPLE CHOICE



- |            |        |
|------------|--------|
| 1. ANS: C  | PTS: 1 |
| 2. ANS: B  | PTS: 1 |
| 3. ANS: E  | PTS: 1 |
| 4. ANS: C  | PTS: 1 |
| 5. ANS: E  | PTS: 1 |
| 6. ANS: D  | PTS: 1 |
| 7. ANS: B  | PTS: 1 |
| 8. ANS: D  | PTS: 1 |
| 9. ANS: D  | PTS: 1 |
| 10. ANS: B | PTS: 1 |
| 11. ANS: D | PTS: 1 |
| 12. ANS: A | PTS: 1 |
| 13. ANS: D | PTS: 1 |
| 14. ANS: C | PTS: 1 |
| 15. ANS: E | PTS: 1 |
| 16. ANS: C | PTS: 1 |
| 17. ANS: D | PTS: 1 |
| 18. ANS: A | PTS: 1 |
| 19. ANS: C | PTS: 1 |
| 20. ANS: E | PTS: 1 |
| 21. ANS: E | PTS: 1 |
| 22. ANS: B | PTS: 1 |
| 23. ANS: E | PTS: 1 |
| 24. ANS: C | PTS: 1 |
| 25. ANS: B | PTS: 1 |
| 26. ANS: D | PTS: 1 |
| 27. ANS: B | PTS: 1 |
| 28. ANS: B | PTS: 1 |
| 29. ANS: B | PTS: 1 |
| 30. ANS: E | PTS: 1 |
| 31. ANS: B | PTS: 1 |
| 32. ANS: E | PTS: 1 |
| 33. ANS: E | PTS: 1 |
| 34. ANS: E | PTS: 1 |
| 35. ANS: A | PTS: 1 |
| 36. ANS: A | PTS: 1 |
| 37. ANS: B | PTS: 1 |
| 38. ANS: B | PTS: 1 |
| 39. ANS: C | PTS: 1 |
| 40. ANS: D | PTS: 1 |



- |     |        |        |
|-----|--------|--------|
| 41. | ANS: E | PTS: 1 |
| 42. | ANS: D | PTS: 1 |
| 43. | ANS: A | PTS: 1 |
| 44. | ANS: D | PTS: 1 |
| 45. | ANS: E | PTS: 1 |
| 46. | ANS: E | PTS: 1 |
| 47. | ANS: A | PTS: 1 |
| 48. | ANS: E | PTS: 1 |
| 49. | ANS: D | PTS: 1 |
| 50. | ANS: D | PTS: 1 |
| 51. | ANS: B | PTS: 1 |
| 52. | ANS: A | PTS: 1 |
| 53. | ANS: E | PTS: 1 |
| 54. | ANS: D | PTS: 1 |
| 55. | ANS: D | PTS: 1 |
| 56. | ANS: B | PTS: 1 |
| 57. | ANS: A | PTS: 1 |
| 58. | ANS: A | PTS: 1 |
| 59. | ANS: B | PTS: 1 |
| 60. | ANS: B | PTS: 1 |
| 61. | ANS: A | PTS: 1 |
| 62. | ANS: E | PTS: 1 |
| 63. | ANS: B | PTS: 1 |
| 64. | ANS: C | PTS: 1 |
| 65. | ANS: D | PTS: 1 |
| 66. | ANS: B | PTS: 1 |
| 67. | ANS: D | PTS: 1 |
| 68. | ANS: D | PTS: 1 |
| 69. | ANS: A | PTS: 1 |
| 70. | ANS: D | PTS: 1 |
| 71. | ANS: B | PTS: 1 |
| 72. | ANS: A | PTS: 1 |
| 73. | ANS: A | PTS: 1 |
| 74. | ANS: D | PTS: 1 |
| 75. | ANS: C | PTS: 1 |
| 76. | ANS: B | PTS: 1 |
| 77. | ANS: A | PTS: 1 |
| 78. | ANS: B | PTS: 1 |
| 79. | ANS: C | PTS: 1 |
| 80. | ANS: A | PTS: 1 |
| 81. | ANS: D | PTS: 1 |
| 82. | ANS: C | PTS: 1 |
| 83. | ANS: D | PTS: 1 |
| 84. | ANS: E | PTS: 1 |
| 85. | ANS: C | PTS: 1 |

- |      |        |        |
|------|--------|--------|
| 86.  | ANS: C | PTS: 1 |
| 87.  | ANS: D | PTS: 1 |
| 88.  | ANS: C | PTS: 1 |
| 89.  | ANS: E | PTS: 1 |
| 90.  | ANS: A | PTS: 1 |
| 91.  | ANS: C | PTS: 1 |
| 92.  | ANS: D | PTS: 1 |
| 93.  | ANS: D | PTS: 1 |
| 94.  | ANS: C | PTS: 1 |
| 95.  | ANS: C | PTS: 1 |
| 96.  | ANS: B | PTS: 1 |
| 97.  | ANS: D | PTS: 1 |
| 98.  | ANS: C | PTS: 1 |
| 99.  | ANS: B | PTS: 1 |
| 100. | ANS: D | PTS: 1 |

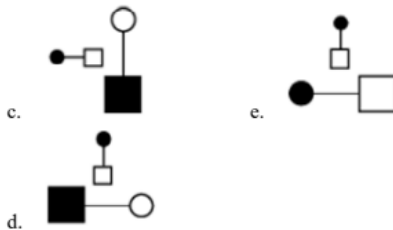
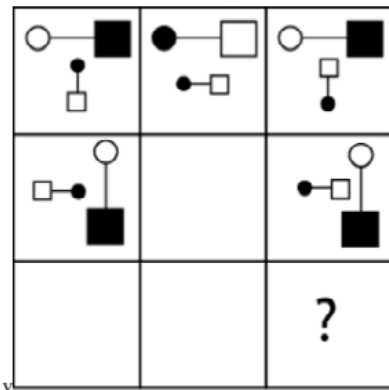
# Anexo

TAE20\_001\_001 ID:A

## Modelo de Examen de Acceso a la Educación Superior TAE20\_001\_001 ID: A

[www.riolcarning.com](http://www.riolcarning.com)

¿qué falta?



En la parte superior derecha del documento se muestra un código que indica el tipo de examen, número de preguntas y el ID del TEST (se cuenta con cuatro A, B, C, D)

Esta información te permitirá buscar el solucionario.

El solucionario lo puedes encontrar en nuestras redes sociales o en la página [www.multimevi.com](http://www.multimevi.com) en la sección DESCARGAS

Aula virtual

[www.riolearning.com](http://www.riolearning.com)



Ejercicios Acceso a la Educación Superior tiene licencia [CC BY-NC 4.0](https://creativecommons.org/licenses/by-nc/4.0/) © 2 por [EdFr@MeVi](mailto:EdFr@MeVi)





Forma

Test Version

--	--	--	--	--	--	--	--	--	--	--

Nombre: \_\_\_\_\_

Asignatura: \_\_\_\_\_

Fecha: \_\_\_\_\_

A

B

C

D

0  0  0  0  0  0  0  0  0

1  1  1  1  1  1  1  1  1

2  2  2  2  2  2  2  2  2

3  3  3  3  3  3  3  3  3

4  4  4  4  4  4  4  4  4

5  5  5  5  5  5  5  5  5

6  6  6  6  6  6  6  6  6

7  7  7  7  7  7  7  7  7

8  8  8  8  8  8  8  8  8

9  9  9  9  9  9  9  9  9

Cédula - Código

Ejemplo

A  B  C  D  E

Calificación

--

- Utilice lápiz para marcar la respuesta.
- Marque un círculo completo
- Borre completamente el círculo para marcar una nueva respuesta

1 A  B  C  D  E

2 A  B  C  D  E

3 A  B  C  D  E

4 A  B  C  D  E

5 A  B  C  D  E

6 A  B  C  D  E

7 A  B  C  D  E

8 A  B  C  D  E

9 A  B  C  D  E

10 A  B  C  D  E

11 A  B  C  D  E

12 A  B  C  D  E

13 A  B  C  D  E

14 A  B  C  D  E

15 A  B  C  D  E

16 A  B  C  D  E

17 A  B  C  D  E

18 A  B  C  D  E

19 A  B  C  D  E

20 A  B  C  D  E

21 A  B  C  D  E

22 A  B  C  D  E

23 A  B  C  D  E

24 A  B  C  D  E

25 A  B  C  D  E

26 A  B  C  D  E

27 A  B  C  D  E

28 A  B  C  D  E

29 A  B  C  D  E

30 A  B  C  D  E

31 A  B  C  D  E

32 A  B  C  D  E

33 A  B  C  D  E

34 A  B  C  D  E

35 A  B  C  D  E

36 A  B  C  D  E

37 A  B  C  D  E

38 A  B  C  D  E

39 A  B  C  D  E

40 A  B  C  D  E

41 A  B  C  D  E

42 A  B  C  D  E

43 A  B  C  D  E

44 A  B  C  D  E

45 A  B  C  D  E

46 A  B  C  D  E

47 A  B  C  D  E

48 A  B  C  D  E

49 A  B  C  D  E

50 A  B  C  D  E

51 A  B  C  D  E

52 A  B  C  D  E

53 A  B  C  D  E

54 A  B  C  D  E

55 A  B  C  D  E

56 A  B  C  D  E

57 A  B  C  D  E

58 A  B  C  D  E

59 A  B  C  D  E

60 A  B  C  D  E

61 A  B  C  D  E

62 A  B  C  D  E

63 A  B  C  D  E

64 A  B  C  D  E

65 A  B  C  D  E

66 A  B  C  D  E

67 A  B  C  D  E

68 A  B  C  D  E

69 A  B  C  D  E

70 A  B  C  D  E

71 A  B  C  D  E

72 A  B  C  D  E

73 A  B  C  D  E

74 A  B  C  D  E

75 A  B  C  D  E

76 A  B  C  D  E

77 A  B  C  D  E

78 A  B  C  D  E

79 A  B  C  D  E

80 A  B  C  D  E

81 A  B  C  D  E

82 A  B  C  D  E

83 A  B  C  D  E

84 A  B  C  D  E

85 A  B  C  D  E

86 A  B  C  D  E

87 A  B  C  D  E

88 A  B  C  D  E

89 A  B  C  D  E

90 A  B  C  D  E

91 A  B  C  D  E

92 A  B  C  D  E

93 A  B  C  D  E

94 A  B  C  D  E

95 A  B  C  D  E

96 A  B  C  D  E

97 A  B  C  D  E

98 A  B  C  D  E

99 A  B  C  D  E

100 A  B  C  D  E



ENLACE	DETALLE	QR
<a href="http://www.multimevi.com/">http://www.multimevi.com/</a>	Página web MULTIMEVI, donde encontrarás noticias y recursos	
<a href="https://t.me/+Klr3YaM42_ZhZTIx">https://t.me/+Klr3YaM42_ZhZTIx</a>	Grupo de apoyo en TELEGRAM	
<a href="https://chat.whatsapp.com/IQuCCcZjtLjIkLfgzXo68Y">https://chat.whatsapp.com/IQuCCcZjtLjIkLfgzXo68Y</a>	<u>GRUPO DE WHATSAPP</u>	
<a href="https://whatsapp.com/channel/0029VaBB2zQHwXb5Vhn9Yw1W">https://whatsapp.com/channel/0029VaBB2zQHwXb5Vhn9Yw1W</a>	Canal de noticias WhatsApp	
<a href="https://www.facebook.com/multimevi.ec/">https://www.facebook.com/multimevi.ec/</a>	Perfil de facebook	
<a href="https://www.facebook.com/groups/multimevi">https://www.facebook.com/groups/multimevi</a>	Grupo FULL Rectivos	
<a href="https://www.tiktok.com/@multimevi">https://www.tiktok.com/@multimevi</a>	Canal de TIK TOK	
<a href="https://www.instagram.com/multimevi.ec/">https://www.instagram.com/multimevi.ec/</a>	Canal de Instagram	
<a href="https://twitter.com/multimevi">https://twitter.com/multimevi</a>	Red X	



# Modelo Q

## Plataforma MOODLE

 [www.riolearning.com](http://www.riolearning.com)

## Página Web



[www.multimevi.com](http://www.multimevi.com)

## Redes Sociales



## Procesos



**ACCESO** a la Educación Superior  
SENESCYT

**QUIERO SER MAESTRO**  
Ministerio de Educación